

1. 다음 중 나눗셈의 몫이 1 보다 작은 것은 어느 것입니까?

① $22 \div 7$

② $12 \div 3$

③ $5 \div 4$

④ $1 \div 4$

⑤ $15 \div 8$

2. 안에 알맞은 수를 차례대로 써넣으시오.

$$3\frac{2}{5} \div 4 \times 2 = \frac{\square}{5} \div 4 \times 2 = \frac{\square}{5} \times \frac{1}{\square} \times 2 = 1\frac{7}{10}$$

 답: _____

 답: _____

 답: _____

3. 자연수의 나눗셈을 보고, 안에 알맞은 수를 써넣으시오.

$$3534 \div 93 = 38 \rightarrow 35.34 \div 93 = \square$$



답: _____

4. 크기를 비교하여 ○안에 >, < 또는 =를 알맞게 써넣으시오.

$$3.45 \div 5 \bigcirc 3.72 \div 6$$



답: _____

5. 한 모서리의 길이가 9 cm인 정육면체의 겉넓이를 구하시오.



답:

_____ cm²

6. 다음을 계산하시오.

$$\frac{5}{7} \div 10 \times 3$$

① $\frac{1}{14}$

② $\frac{1}{7}$


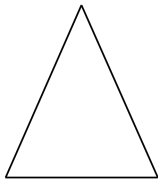
③ $\frac{3}{14}$

④ $\frac{2}{7}$

⑤ $\frac{5}{14}$

7. 다음 밑면과 옆면의 모양에 알맞은 각기둥은 어느 것입니까?

〈밑면의 모양〉 〈옆면의 모양〉



① 삼각기둥

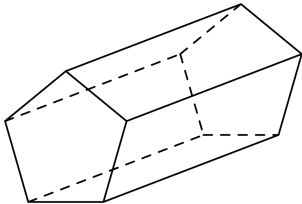
② 사각기둥

③ 오각기둥

④ 육각기둥

⑤ 칠각기둥

8. 입체도형의 이름을 쓰시오.



답: _____

9. 무게가 2.45 kg 인 상자에 같은 책 23 권을 담았더니 무게가 30.97 kg 이었습니다. 이 책 한 권의 무게는 몇 kg인지 구하시오.



답:

_____ kg

10. 다음은 비를 여러 가지 방법으로 읽은 것입니다. 잘못 읽은 것을 고르시오.

① $4 : 9 \Rightarrow 9$ 의 4 에 대한 비

② $7 : 10 \Rightarrow 7$ 대 10

③ $3 : 8 \Rightarrow 3$ 과 8 의 비

④ $6 : 7 \Rightarrow 6$ 의 7 에 대한 비

⑤ $2 : 5 \Rightarrow 5$ 에 대한 2 의 비

11. 비율을 분수와 소수로 나타낸 것으로 올바른 것을 고르시오.

3 : 8

① $\frac{11}{8}$, 0.625

② $\frac{3}{8}$, 0.625

③ $\frac{3}{8}$, 0.625

④ $\frac{3}{8}$, 0.375

⑤ $\frac{3}{8}$, 0.375

12. 비의 값을 잘못 나타낸 것은 어느 것입니까?

① $2 : 3 \Rightarrow \frac{2}{3}$

② 5 와 6 의 비 $\Rightarrow \frac{5}{6}$

③ 7 대 4 $\Rightarrow \frac{4}{7}$

④ 8 에 대한 3 의 비 $\Rightarrow \frac{3}{8}$

⑤ 3 의 5 에 대한 비 $\Rightarrow \frac{3}{5}$

13. 정아네 반 학생들이 주로 마시는 음료수를 조사한 띠그래프입니다.
아래 띠그래프에서 사이다는 주스의 몇 배입니까?



- ① 6배 ② 5배 ③ 4배 ④ 3배 ⑤ 2배

14. 길이가 20 cm 인 띠그래프에서 7 cm로 나타난 것은 전체의 몇 %입니까?

① 15%

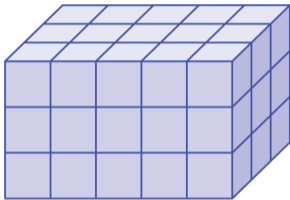
② 20%

③ 25%

④ 30%

⑤ 35%

15. 싹기나무 한 개의 부피가 1 cm^3 라고 할 때, 다음 입체도형의 부피는 얼마입니까?



① 45 cm^3

② 48 cm^3

③ 52 cm^3

④ 57 cm^3

⑤ 60 cm^3

16. 다음 중 부피가 가장 작은 도형은 어느 것입니까?

① 6 m^3

② 5.3 m^3

③ 900000 cm^3

④ 한 모서리의 길이가 1.2 m 인 정육면체의 부피

⑤ 가로가 1 m 이고 세로가 0.5 m , 높이가 2 m 인 직육면체의 부피

17. 다음과 계산 결과가 같은 것을 고르시오.

$$\frac{4}{9} \times 3 \div 10$$

① $\frac{3}{4} \times 9 \div 10$

② $4 \div 9 \times \frac{3}{10}$

③ $\frac{9}{10} \times 4 \div 3$

④ $\frac{9}{10} \times 4 \div 3$

⑤ $4 \div 9 \times \frac{10}{3}$

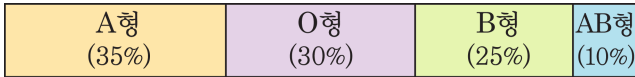
18. 혜은이네 반 학생 40명 중에서 28명이 안경을 썼습니다. 안경을 쓴 학생은 전체의 몇 %입니까?



답:

_____ %

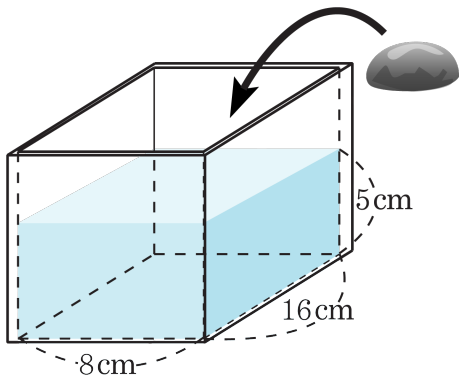
19. 다음은 학생 40 명의 혈액형을 조사하여 피그래프로 나타낸 것입니다. 혈액형이 O형인 학생은 혈액형이 AB형인 학생보다 몇 명이 더 많은지 구하십시오.



답:

명

20. 그림과 같이 물이 5cm 높이로 들어 있는 통에 돌을 완전히 잠기게 넣었더니 물의 높이가 7cm가 되었습니다. 돌의 부피를 구하시오.



답: _____

cm³