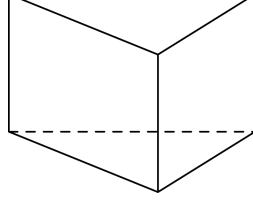


1. 다음 그림에 대한 설명이 바른 것은 어느 것인지 고르시오.



- ① 밑면모양이 육각형입니다.
- ② 모서리는 10개입니다.
- ③ 밑면이 1개입니다.
- ④ 옆면은 직사각형입니다.
- ⑤ 면의 모양이 모두 똑같습니다.

해설

위의 그림은 삼각기둥입니다. 각기둥은 옆면은 직사각형이며, 밑면의 모양에 따라 이름이 달라집니다. 모서리는 9개이고, 꼭짓점은 6개입니다.

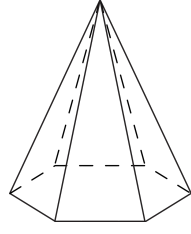
2. 다음 중 면의 개수가 가장 많은 것을 고르시오.

- ① 오각뿔 ② 육각기둥 ③ 육각뿔
④ 사각기둥 ⑤ 사각뿔

해설

① 6개, ② 8개, ③ 7개, ④ 6개, ⑤ 5개

3. 입체도형의 이름을 쓰시오.



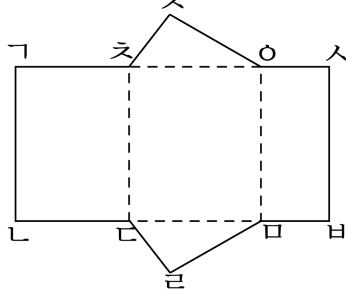
▶ 답:

▷ 정답: 육각뿔

해설

밑면의 모양이 육각형이고, 옆면의 모양이 삼각형이므로 육각뿔입니다.

4. 다음 각기둥의 전개도는 잘못된 것입니다. 잘못된 이유를 모두 고르시오.

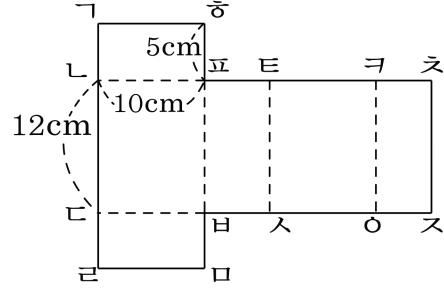


- ① 높이가 모두 다릅니다.
- ② 변 ㄴㄷ과 변 ㄷㄴ의 길이가 다릅니다.
- ③ 변 ㄱ스과 변 스ㅇ의 길이가 같습니다.
- ④ 각기둥을 이루고 있는 면의 개수가 5개입니다.
- ⑤ 변 ㄴㅁ과 변 ㅁㅂ의 길이가 다릅니다.

해설

②에서 변 ㄴㄷ과 변 ㄷㄴ은 서로 맞닿는 변이기 때문에 길이가 같아야 합니다. 또한 ⑤에서 변 ㄴㅁ과 변 ㅁㅂ도 서로 맞닿는 변이기 때문에 길이가 같아야 하는데 그림에서는 같지 않으므로 올바른 각기둥의 전개도가 아닙니다.

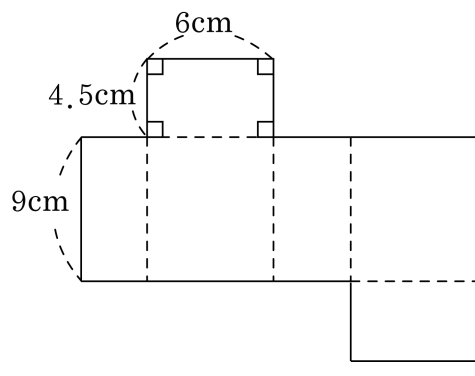
5. 다음 사각기둥의 전개도에서 변 바스와 맞닿는 변은 어느 것입니까?



- ① 변 바아 ② 변 바리 ③ 변 바스
- ④ 변 리아 ⑤ 변 리스

해설
 이 전개도를 점선을 따라 접었을 때 변 바스와 겹쳐지는 변은 변 바리입니다.

6. 전개도를 이용하여 사각기둥을 만들었을 때, 모서리의 길이의 합은 몇 cm 인지 구하시오.



▶ 답: cm

▷ 정답: 78 cm

해설
 (모서리의 길이의 합) = $(6 + 4.5 + 9) \times 4 = 78$ (cm)

7. 육각뿔은 7개의 면과 12개의 모서리로 오각뿔은 6개의 면과 10개의 모서리로 이루어져 있습니다. 이 점을 잘 생각하여 각뿔의 면과 모서리의 수를 구하는 공식을 채워 순서대로 쓰시오.

$$(1) (\text{면의 수}) = (\text{밑면의 변의 수}) + \square$$
$$(2) (\text{모서리의 수}) = (\text{밑면의 변의 수}) \times \square$$

▶ 답 :

▶ 답 :

▷ 정답 : 1

▷ 정답 : 2

해설

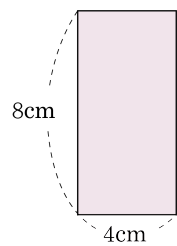
육각뿔의 밑면의 변의 수는 6개

$$7 = 6 + 1, 12 = 6 \times 2$$

오각뿔의 밑면의 변의 수는 5개

$$6 = 5 + 1, 10 = 5 \times 2 \text{입니다.}$$

8. 다음과 같은 직사각형 6개의 옆면으로 둘러싸여 있는 각기둥의 모서리 길이의 합은 몇 cm입니까?



- ① 9.6 cm ② 196 cm ③ 69 cm
④ 96 cm ⑤ 960 cm

해설

옆면이 6개이면 육각기둥입니다.
밑면의 변의 길이는 4cm 이므로,
 $(4 \times 6) \times 2 + (8 \times 6) = 48 + 48 = 96(\text{cm})$

9. 면의 수가 8개인 각기둥의 모서리의 수와 각뿔의 꼭짓점의 수를 더하시오.

▶ 답:

▷ 정답: 26

해설

각기둥에서 (면의 수) = (한 밑면의 변의 수) + 2 = 8, (한 밑면의 변의 수) = 6(개)입니다.

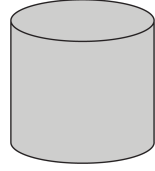
(모서리의 수) = (한 밑면의 변의 수) × 3 = $6 \times 3 = 18$ (개)

각뿔에서 (면의 수) = (밑면의 변의 수) + 1 = 8, (한 밑면의 변의 수) = 7(개)입니다.

(꼭짓점의 수) = (밑면의 변의 수) + 1 = $7 + 1 = 8$ (개)입니다.

따라서 (각기둥의 모서리의 수) + (각뿔의 꼭짓점의 수) = $18 + 8 = 26$

10. 다음 원기둥을 물감통 속에 완전히 담근 후 꺼내어 바닥에 놓고 2 가지 방법으로 굴리면 (가), (나)와 같은 자국이 생깁니다.



(가)는 원기둥의 옆면을 바닥에 대고 굴렸을 때 생기는 자국이고, (나)는 밑면을 바닥에 놓고 계속 뒤집었을 때 생기는 자국입니다.

(가) ...

(나) ...

(다), (라) 그림은 어떤 입체도형을 물감을 묻힌 다음 위의 (가), (나)와 같은 방법으로 굴리거나 뒤집었을 때의 자국을 각각 나타낸 것입니다. 이 입체도형이 될 수 있는 것 중 면의 수가 가장 적은 도형의 면의 수는 몇 개인지 구하십시오.

(다) ...

(라) ...

▶ 답: 개

▶ 정답: 4 개

해설

옆면을 굴렸을 때의 자국이 삼각형들로 이루어져 있으므로, 이 입체도형은 각뿔입니다. 또한, 밑면을 바닥에 대고 계속 뒤집었을 때, 삼각형, 직선, 삼각형, ... 과 같이 되풀이 되므로 이 입체도형 중 면이 가장 적은 도형은 삼각뿔임을 알 수 있습니다. 삼각뿔(특히, 정사면체)이므로, 면의 수 4 개, 꼭짓점의 수 4 개, 모서리의

수 6 개이고 그 모양은 아래와 같습니다.

