

1. 어느 동화책 한 권의 두께가 25 mm 라 합니다. 이 동화책 40 만 권의 두께는 몇 km 입니까?



답:

_____ km

2. 다음을 가장 큰 수부터 차례로 나타낸 것은 어느 것입니까?

㉠ 235만의 100배

㉡ 6억 7200만의 $\frac{1}{100}$

㉢ 38만 5001의 1000배

㉣ 41억 670만의 $\frac{1}{1000}$

① ㉠, ㉢, ㉡, ㉣

② ㉢, ㉠, ㉣, ㉡

③ ㉠, ㉢, ㉣, ㉡

④ ㉠, ㉡, ㉢, ㉣

⑤ ㉢, ㉠, ㉡, ㉣

3. 주어진 식이 참이 되게 하는 \square 안에 알맞은 한 자리의 숫자는 모두 몇 개입니까?

$$2674556008 < 26745\square7023$$

① 3개

② 4개

③ 5개

④ 6개

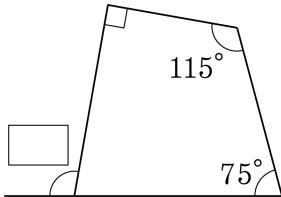
⑤ 7개

4. 다음 시각을 가리키는 시계의 시침과 분침이 이루는 작은 각을 예각, 직각, 둔각으로 바르게 구분한 것은 어느 것입니까?

(1) 11시 15분 (2) 3시 (3) 12시 10분

- ① (1) 예각 (2) 예각 (3) 둔각
② (1) 예각 (2) 직각 (3) 예각
③ (1) 예각 (2) 직각 (3) 둔각
④ (1) 둔각 (2) 예각 (3) 직각
⑤ (1) 둔각 (2) 직각 (3) 예각

5. 안에 알맞은 각도를 써넣으시오.



답:

°

6. 안에 알맞은 수를 써넣으시오.

$$5\frac{7}{15} + 3\frac{2}{15} = 11\frac{13}{15} - \square$$

① $2\frac{4}{15}$

② $3\frac{3}{15}$

③ $7\frac{4}{15}$

④ $5\frac{2}{15}$

⑤ $3\frac{4}{15}$

7. 다음을 계산 결과가 작은 순서대로 나열한 것은 무엇입니까?

보기

㉠ $5 - 2\frac{7}{9}$

㉡ $7 - 6\frac{1}{9}$

㉢ $10 - 7\frac{3}{9}$

① ㉠, ㉡, ㉢

② ㉠, ㉢, ㉡

③ ㉡, ㉠, ㉢

④ ㉡, ㉢, ㉠

⑤ ㉢, ㉠, ㉡

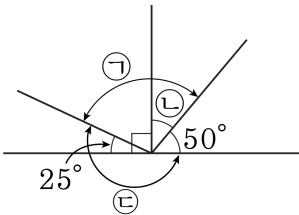
8. 만 원짜리 지폐 1000 장의 두께는 약 9 cm 이라고 합니다. 1년 동안 우리 나라의 살림에 필요한 돈이 30 조 원 이라고 합니다. 이 돈을 만 원짜리 지폐로 쌓을 때, 높이는 약 km 가 될 때, 안에 알맞은 수를 쓰시오.



답:

km

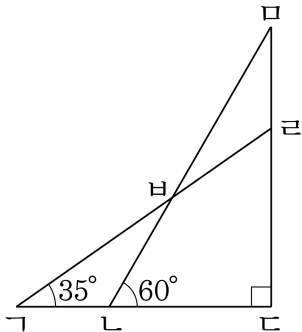
9. 다음 그림에서 각 ㉔의 크기는 두 각 ㉓과 ㉒의 합보다 얼마나 큼니까?



답:

_____ °

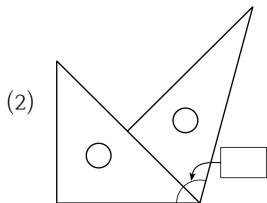
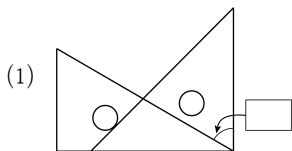
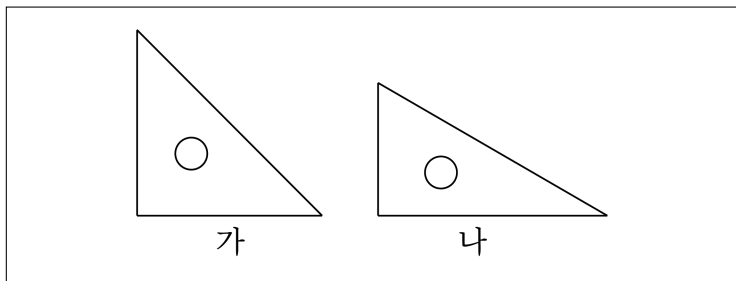
10. 다음 그림은 직각삼각형 2개를 겹쳐 놓은 것입니다. 각 α , β , γ 의 크기를 구하시오.



답: _____

°

11. 삼각자를 이용하여 여러 가지 크기의 각을 만들려고 합니다. 안에 알맞은 각도를 차례대로 써넣으시오.



> 답: _____ °

> 답: _____ °

12. 다음과 같이 규칙적으로 늘어놓은 분수들의 합을 구하시오.

$$1\frac{1}{11} + 2\frac{2}{11} + \cdots + 9\frac{9}{11} + 10\frac{10}{11}$$



답: _____

13. $1\frac{3}{9}$ 에 어떤 분수를 더하였더니 $4\frac{8}{9}$ 이 되었습니다. 어떤 분수와 $1\frac{8}{9}$ 의 차는 얼마인지 구하시오.

① $5\frac{6}{9}$

② $2\frac{5}{9}$

③ $3\frac{5}{9}$

④ $1\frac{8}{9}$

⑤ $1\frac{6}{9}$

14. 아래 빈 칸에 $\frac{1}{5}, \frac{2}{5}, \frac{3}{5}, \dots, \frac{15}{5}, \frac{16}{5}$ 까지의 16 개 분수를 한 번씩 넣어서, 세로, 대각선에 있는 네 수의 합이 모두 $\frac{34}{5}$ 가 되도록 하려고 합니다. 다음 중 ㉠에 들어갈 수는 어느 것인지 구하시오.

$\frac{16}{5}$	$\frac{2}{5}$	$\frac{3}{5}$	
	$\frac{11}{5}$		$\frac{8}{5}$
$\frac{9}{5}$		㉠	$\frac{12}{5}$
$\frac{4}{5}$	$\frac{14}{5}$		

① $\frac{1}{5}$

② $\frac{6}{5}$

③ $\frac{11}{5}$

④ $\frac{13}{5}$

⑤ $\frac{15}{5}$

15. 어느 거리의 가로등은 7분 동안 켜진 후 2분 동안 꺼진다고 합니다. 가로등이 1분 동안 켜지는데 $\frac{2}{3}$ W(와트)의 전력이 필요할 때, 오후 10시부터 가로등을 켜기 시작하여 오후 12시까지 몇 W(와트)의 전력이 필요한지 구하시오.

① $60\frac{2}{3}$ W

② $60\frac{1}{3}$ W

③ $61\frac{2}{3}$ W

④ $61\frac{1}{3}$ W

⑤ $62\frac{2}{3}$ W