

1. 28430000000 에서 숫자 8 이 나타내는 수는 8130 에서 숫자 8 이 나타내는 수의 몇 배입니까?

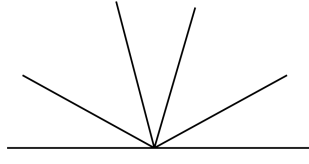
- ① 10 배 ② 100 만 배 ③ 1000 배
④ 1 억 배 ⑤ 1000 만 배

2. 지은이는 0부터 6까지의 숫자를 2번씩 사용하여 만들 수 있는 열 네자리 수 중 가장 큰 수를 만들었습니다.

지은이가 만든 수에서 일조의 자리 숫자는 얼마입니까?

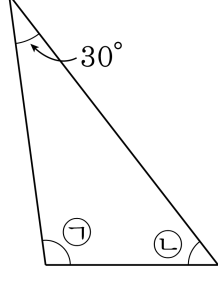
- ① 2 ② 3 ③ 4 ④ 5 ⑤ 6

3. 다음 그림에서 크고 작은 둔각은 모두 몇 개입니까?



▶ 답: _____ 개

4. 삼각형에서 각 $\textcircled{\text{A}}$ 과 각 $\textcircled{\text{B}}$ 의 각도의 합을 구하시오.



▶ 답: _____ °

5. 현재 시각이 2시 정각일 때, 시계의 시침과 분침이 이루는 각 중 작은 각의 크기를 구하시오.

▶ 답: _____ °

6. 다음 나눗셈 중에서 나머지가 작은 것부터 차례로 쓴 것은 어느 것인지 고르시오.

$$\text{㉠ } 673 \div 27$$

$$\text{㉡ } 267 \div 34$$

$$\text{㉢ } 884 \div 69$$

$$\text{㉣ } 768 \div 42$$

$$\text{① } \text{㉠, ㉢, ㉡, ㉣}$$

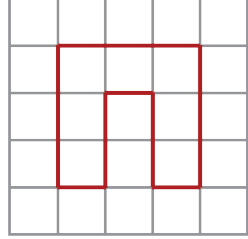
$$\text{② } \text{㉡, ㉢, ㉠, ㉣}$$

$$\text{③ } \text{㉢, ㉡, ㉠, ㉣}$$

$$\text{④ } \text{㉢, ㉠, ㉡, ㉣}$$

$$\text{⑤ } \text{㉢, ㉡, ㉠, ㉣}$$


7. 다음 도형을 왼쪽으로 밀고 난 다음 다시 아래쪽으로 밀었을 때의 도형을 고르시오.



<p>㉠</p>	<p>㉡</p>
<p>㉢</p>	<p>㉣</p>

▶ 답: _____

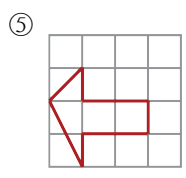
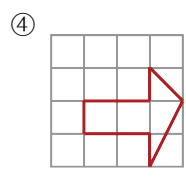
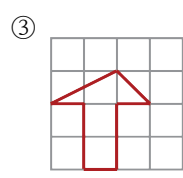
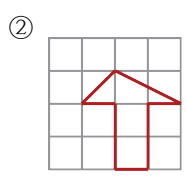
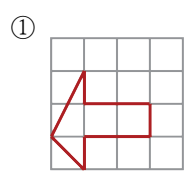
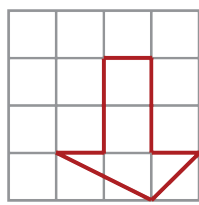
8. 다음 그림을 보고, 한 가지 모양을 어떤 규칙으로 움직였는지 모두 쓰시오.



▶ 답: _____

▶ 답: _____

9. 어떤 도형을 시계 방향으로 90° 만큼 돌린 도형이 다음과 같았을 때, 도형의 처음 모양은 어느 것입니까?



10. 곱셈을 이용한 수 배열표에서 빈칸에 공통으로 들어갈 수로 알맞은 것은 어느 것입니까?

	1001	1002	1003	1004	1005
12	2	4	6	8	0
13	3		9	2	5
14	4	8	2		0
15	5	0	5	0	5

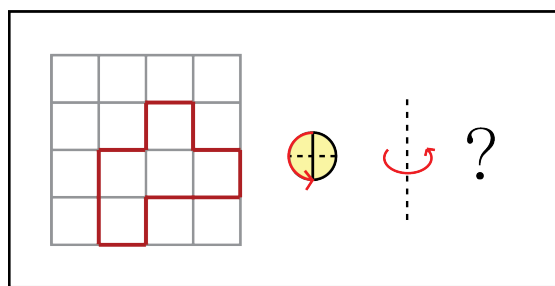
- ① 2 ② 4 ③ 6 ④ 8 ⑤ 0

11. 다음 중에서 가장 큰 각과 가장 작은 각의 차를 구하시오.

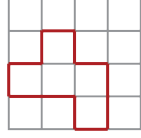
115° 60° 1직각 75°

▶ 답: _____ °

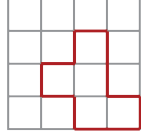
12. 도형을 시계 반대 방향으로 180°만큼 돌리고 오른쪽으로 뒤집었을 때의 도형은 어느 것입니까?



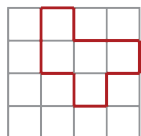
①



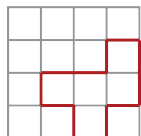
②



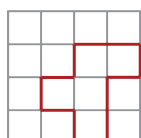
③



④



⑤



13. 다음 수 배열표의 색칠된 칸의 규칙으로 알맞은 것은 어느 것입니까?

541	543	545	547
441	443	445	447
341	343	345	347
241	243	245	247

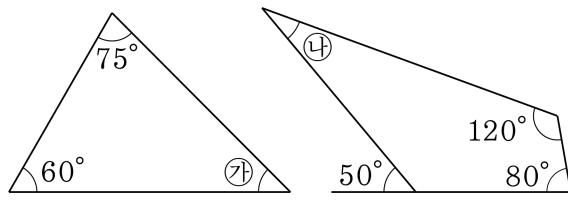
- ① 2씩 커집니다. ② 2씩 작아집니다.
③ 100씩 커집니다. ④ 100씩 작아집니다.
⑤ 102씩 커집니다.

14. 덧셈을 이용한 수 배열표에서 ㉠, ㉡에 알맞은 수를 차례로 구한 것은 어느 것입니까?

	115	㉠	135	145
25	140	150	160	170
26	141	151	161	171
27	㉡	152	162	172
28	143	153	163	173

- ① ㉠=142, ㉡=105 ② ㉠=142, ㉡=115
③ ㉠=142, ㉡=125 ④ ㉠=151, ㉡=115
⑤ ㉠=151, ㉡=125

15. 다음 도형에서 ㉔와 ㉓의 각도의 차를 구하시오.



▶ 답: _____ $^\circ$

16. 어느 학원에서 수첩과 지우개를 샀습니다. 수첩은 850 원, 지우개는 650 원인데 11 명의 어린이에게 수첩과 지우개를 각각 1 개씩 주었다면 돈은 모두 얼마가 들었는지 구하시오.

▶ 답: _____ 원

17. 538m의 노끈을 잘라 상자를 포장하려고 합니다. 상자 한 개를 포장 하는데 40m가 필요하다면, 상자를 몇 개 포장할 수 있고, 남은 노끈은 몇 m 인지 구하시오.

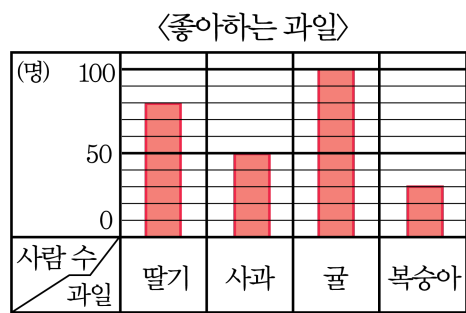
▶ 답: _____ 상자

▶ 답: _____ m

18. 현이 아버지는 예금한 돈 4800 만 원을 수표로 찾으려고 합니다. 백만 원짜리 수표로 33 장을 찾는다면 십만 원짜리 수표는 몇 장 찾아야 하는지 구하시오.

▶ 답: _____ 장

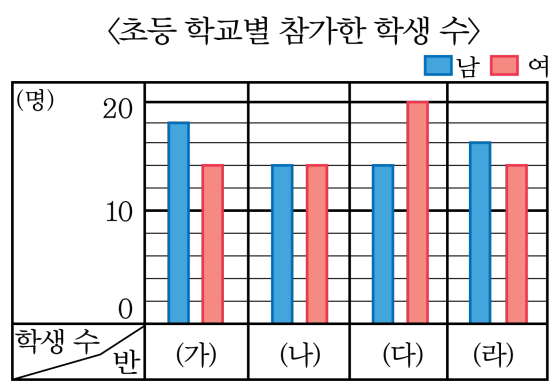
19. 현수네 학교 4학년 학생들이 좋아하는 과일을 조사하여 막대그래프로 나타낸 것입니다.



현수네 학교 4학년 학생들이 두 번째로 좋아하는 과일은 무엇인지 구하시오.

▶ 답: _____

20. 초등 학교별로 수학 경시대회에 참가한 남학생 수와 여학생 수를 나타낸 막대그래프입니다. 참가한 남학생 수와 여학생 수의 차가 가장 큰 학교는 어디이고, 그 차는 몇 명입니까?



- ① (나), 5명 ② (나), 6명 ③ (다), 6명
 ④ (라), 5명 ⑤ (라), 6명