

1. 다음 수들에 대한 설명으로 옳은 것은?

보기

3.4, -3, $\frac{2}{7}$, 0, -0.4, $-\frac{2}{9}$, 4

- ① 음수 : 2 개 ② 음의 정수 : 2 개
③ 양의 유리수 : 3 개 ④ 유리수 : 6 개
⑤ 정수 : 2 개

2. 다음 설명 중 옳지 않은 것은?

- ① 모든 정수는 유리수이다.
- ② 0 과 1 사이에도 유리수는 존재한다.
- ③ 서로 다른 유리수 사이에는 또 다른 유리수가 있다.
- ④ 유리수는 양의 유리수와 음의 유리수로 분류된다.
- ⑤ 분자가 정수이고 분모가 0이 아닌 정수인 분수로 나타낼 수 있는 수를 유리수라고 한다.

3. 다음 중 부등호를 써서 나타낸 것으로 옳은 것은?

① a 는 2보다 작지 않다. $\Rightarrow a > 2$

② a 는 -3보다 작고, -5보다 작지 않다. $\Rightarrow a > -3 > -5$

③ a 는 5초과이고, 7이하이다. $\Rightarrow 5 < a \leq 7$

④ $-2 < a < 3$ 을 만족시키는 정수는 5개이다.

⑤ 세 수 3, -5, -1의 대소 비교는 $3 > -5 > -1$ 이다.

4. 어떤 정수 a 에 -15 를 더해야 하는데 잘못하여 빼었더니 결과가 -9 가 되었다. 바르게 계산한 값을 b 라 할 때, $a-b$ 의 값을 구하면?

- ① -24 ② -6 ③ 0 ④ 15 ⑤ 24

5. $\frac{1}{2}$ 에 어떤 유리수를 더해야 할 것을 잘못해서 뺐더니 $\frac{5}{3}$ 가 나왔다.

바르게 계산한 결과는?

- ① $-\frac{2}{3}$ ② $-\frac{13}{6}$ ③ $-\frac{7}{6}$ ④ $-\frac{5}{6}$ ⑤ $-\frac{1}{6}$

6. 세 수의 유리수의 덧셈으로 계산 결과가 옳은 것은?

① $(+2.3) + \left(+\frac{2}{3}\right) + \left(-\frac{16}{5}\right) = -\frac{3}{10}$

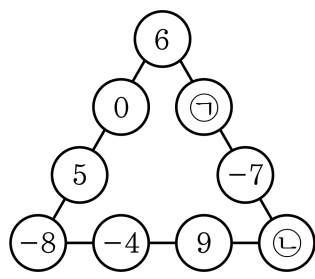
② $(-1.1) + (+3.5) + \left(-\frac{7}{2}\right) = -5.9$

③ $(+2.4) + \left(-\frac{5}{3}\right) + (+1.1) = +\frac{11}{6}$

④ $(-1.8) + \left(-\frac{13}{10}\right) + \left(-\frac{1}{2}\right) = -1.8$

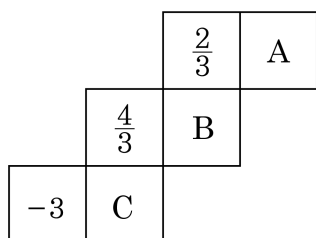
⑤ $\left(+\frac{3}{4}\right) + \left(-\frac{7}{5}\right) + \left(-\frac{3}{2}\right) = -2.1$

7. 다음 그림에서 세 변에 놓인 네 수의 합이 모두 같도록 하는 ㉠, ㉡으로 알맞게 짝지워진 것은?



- ① ㉠ : -2, ㉡ : 6 ② ㉠ : 2, ㉡ : 6 ③ ㉠ : -2, ㉡ : 0
 ④ ㉠ : -5, ㉡ : 3 ⑤ ㉠ : 5, ㉡ : 3

8. 다음 전개도를 접어 정육면체를 만들었을 때, 마주 보는 면에 있는 두 수의 합이 1일 때, $A + B - C$ 의 값을 구하여라.




▶ 답: _____

9. 5 보다 -2 가 큰 수를 a , $\frac{1}{3}$ 보다 $\frac{1}{2}$ 이 작은 수를 b 라 할 때, $a - b$ 의 값을 구하면?

- ① $-\frac{19}{6}$ ② $\frac{19}{6}$ ③ $\frac{17}{6}$ ④ -3 ⑤ $-\frac{17}{6}$

10. $a - (-7) = 15$, $(+3) \times b = -15$ 일 때, $a \times b$ 의 값을 구하여라.

 답: _____

11. $a = 3 - \left\{ \left(-\frac{3}{4} \right) \times (-2)^2 \div 5 \right\} \div \left(-\frac{2}{7} \right)$ 일 때, a 보다 작은 정수가 아닌 것은?

- ① -3 ② -2 ③ -1 ④ 0 ⑤ 1

12. 다음 중 두 수 a, b 에 대하여 $a < 0, b > 0$ 일 때, 항상 참인 것은?

① $a + b < 0$ ② $a^2 - b > 0$ ③ $a + 2b < 0$

④ $a + b^2 > 0$ ⑤ $b - a > 0$

13. $a \times b > 0$, $b \times c < 0$, $b > c$ 일 때, 다음 중 옳은 것은?

① $a < 0$, $b < 0$, $c < 0$


② $a < 0$, $b < 0$, $c > 0$

③ $a < 0$, $b > 0$, $c < 0$

④ $a > 0$, $b > 0$, $c < 0$

⑤ $a > 0$, $b > 0$, $c > 0$

14. 서로 다른 두 유리수 a, b 에 대하여
 $a \blacktriangle b = (a, b \text{ 중 절댓값이 큰 수})$,
 $a \blacktriangledown b = (a, b \text{ 중 절댓값이 작은 수})$
로 정의할 때, $\left(-\frac{5}{6}\right) \blacktriangle \left\{ \left(\frac{3}{4}\right) \blacktriangledown \left(-\frac{4}{5}\right) \right\}$ 의 값을 구하여라.

 답: _____

15. 수직선 위에서 원점으로부터 3 만큼 떨어진 점 중에서 큰 수에 대응하는 점을 A, -4 로부터 3 만큼 떨어진 점 중에서 작은 수에 대응하는 점을 B 라고 하자. 이때, 두 점 A, B 에서 같은 거리에 있는 점이 나타내는 정수를 구하여라.

▶ 답: _____

16. 절댓값이 같고 부호가 다른 두 수가 있을 때, 두 수 중 수직선의 왼쪽에 있는 수에서 오른쪽에 있는 수를 뺀 값이 -7 이다. 두 수 사이의 정수들의 합을 a , 두 수 사이의 정수들의 개수를 b 라고 하면 $a+b$ 의 값은?

- ① 3 ② 4 ③ 5 ④ 6 ⑤ 7

17. 네 정수 a, b, c, d 에 대하여 $-4 < a < b < 0 < c < d < 10$ 일 때,
 $\frac{1}{a}, \frac{1}{b}, \frac{1}{c}, \frac{1}{d}$ 을 큰 것부터 순서대로 써라.

▶ 답: _____

▶ 답: _____

▶ 답: _____

▶ 답: _____

18. 서로 다른 세 정수 a, b, c 가 다음을 만족한다. 큰 순서대로 나열하여라.

b 는 a 보다 크지 않다.
 c 의 절댓값이 a 의 절댓값보다 크다.
 c 는 2 보다 작지만 음수는 아니다.

▶ 답: _____

▶ 답: _____

▶ 답: _____

19. $\left(-\frac{1}{2}\right) \times \left(-\frac{2}{3}\right) \times \left(-\frac{3}{4}\right) \times \cdots \times \left(-\frac{19}{20}\right)$ 의 값을 구하면?

- ① $\frac{1}{10}$ ② $-\frac{1}{10}$ ③ $\frac{1}{20}$ ④ $-\frac{1}{20}$ ⑤ -1


20. $y = -\{(-1)^{100} + 7^2\} \div (-5)$ 이고, x 는 $|x| < 4$ 인 정수일 때, x 중에서 y 의 약수가 아닌 것은 모두 몇 개인가?(단, $x > 0$)

- ① 1 ② 2 ③ 5 ④ 7 ⑤ 11

21. 두 정수 a, b 가 $b < a < 0$ 일 때, $|a| + |b - a| = 5$ 이다. 이를 만족하는 순서쌍 (a, b) 의 개수는 구하여라.

▶ 답: _____ 개

22. 네 개의 유리수 $\frac{1}{5}$, $-\frac{1}{3}$, $-\frac{5}{2}$, -2 중에서 세 개를 뽑아 곱한 수 중 가장 큰 수를 M , 가장 작은 수를 m 이라 할 때, $M + (-3m)$ 의 값을 구하여라.

 답: _____

23. 분배법칙 $a \times (b + c) = a \times b + a \times c$ 를 이용하여 두 수 $8^{29} - 8^{28}$, 8^{28} 의 대소 관계를 구하면?

① $8^{29} - 8^{28} < 8^{28}$

② $8^{29} - 8^{28} \leq 8^{28}$

③ $8^{29} - 8^{28} \geq 8^{28}$

④ $8^{29} - 8^{28} > 8^{28}$

⑤ $8^{29} - 8^{28} = 8^{28}$

24. 수직선 위의 점 A, B, C, D, E 가 다음과 같은 조건을 만족할 때, \overline{AB} 의 길이를 구하여라.

가. 점 E는 점 A보다 2만큼 오른쪽에 있다.
나. 점 D는 점 E보다 0.5만큼 오른쪽에 있고, 점 C는 \overline{AD} 를 3:2로 내분한다.
다. 점 C는 점 B보다 2만큼 왼쪽에 있다.

▶ 답: _____

25. 음의 정수 하나와 양의 정수 하나의 합은 -6 이고, 두 수의 절댓값의 최소공배수는 45 일 때, 두 수의 차를 구하여라.

▶ 답: _____