


1. 정훈이는 오늘 동생과 함께 동화책을 읽었습니다. 정훈이는 320쪽을 읽고, 동생은 정훈이가 읽은 쪽수의  $\frac{2}{5}$  보다 15쪽을 더 읽었습니다. 정훈이는 동생보다 몇 쪽을 더 읽었는지 구하시오.
- ① 128쪽                      ② 144쪽                      ③ 150쪽  
④ 177쪽                      ⑤ 192쪽

2. 다음 중에서 정다각형은 어느 것인지 구하시오.

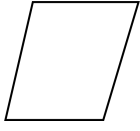
①




②




③



④




⑤



3. 다음 중 한 대각선이 다른 대각선을 반으로 나누는 것은 어느 것인지 구하시오.

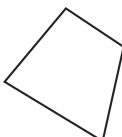
①



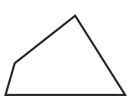
②



③



④



⑤



4. 다음 중 큰 수부터 차례로 기호를 쓴 것은 어느 것입니까?

㉠ 8.21의  $\frac{1}{10}$ 인 수

㉡ 0.082의 100배인 수

㉢ 80.3의  $\frac{1}{100}$ 인 수

- ① ㉠-㉡-㉢

② ㉠-㉢-㉡

③ ㉡-㉠-㉢

④ ㉡-㉢-㉠

⑤ ㉢-㉠-㉡