


1. 다음 그림과 같은 모양은 같으나 크기가 다른 음료수 컵의 높이의 비가 2 : 3 이다. 작은 컵의 부피가 200cm^3 일 때, 큰 컵의 부피를 구하면?



① 260cm^3

② 355cm^3

③ 400cm^3

④ 590cm^3

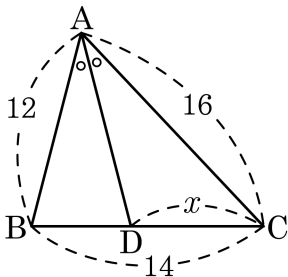
⑤ 675cm^3

해설

$$8 : 27 = 200 : (\text{큰 컵의 부피})$$

$$\therefore (\text{큰 컵의 부피}) = 675\text{cm}^3$$

2. 다음 그림의 $\triangle ABC$ 에서 $\angle A$ 의 이등분선과 \overline{BC} 의 교점을 D 라고 할 때, x 의 길이는?



① 6

② 7

③ 8

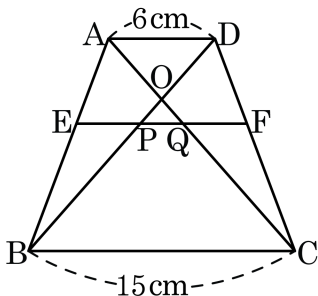
④ 9

⑤ 10

해설

$\overline{AB} : \overline{AC} = \overline{BD} : \overline{CD}$ 이므로 $(14 - x) : x = 3 : 4$, $7x = 56$,
따라서 $\overline{CD} = 8$ 이다.

3. 다음 그림의 $\square ABCD$ 에서 $\overline{AD} // \overline{EF} // \overline{BC}$, $\overline{AE} : \overline{EB} = 2 : 3$ 이고,
 $\overline{AD} = 6\text{cm}$, $\overline{BC} = 15\text{cm}$ 일 때, \overline{PQ} 의 길이는?



① $\frac{12}{5}\text{cm}$

② $\frac{18}{5}\text{cm}$

③ $\frac{24}{5}\text{cm}$

④ $\frac{28}{5}\text{cm}$

⑤ 6cm

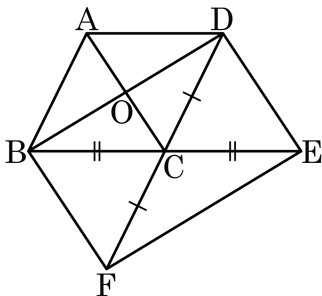
해설

$\triangle ABC$ 에서 $\triangle ABC \sim \triangle AEQ$ 이므로 $\overline{EQ} : 15 = 2 : 5$, $\overline{EQ} = 6(\text{cm})$

$\triangle ABD$ 에서 $\triangle ABD \sim \triangle EBP$ 이므로 $\overline{EP} : 6 = 3 : 5$, $\overline{EP} = \frac{18}{5}(\text{cm})$

$$\therefore \overline{PQ} = \overline{EQ} - \overline{EP} = 6 - \frac{18}{5} = \frac{12}{5}(\text{cm})$$

4. 평행사변형 ABCD의 두 변 BC, DC의 연장선 위에 $\overline{BC} = \overline{CE}$, $\overline{DC} = \overline{CF}$ 가 되도록 두 점 E, F를 잡을 때, $\square ABCD$ 를 제외한 사각형이 평행사변형이 되는 조건은 보기에서 모두 몇 개인가?



보기

- ㉠ 두 쌍의 대변이 각각 평행하다.
- ㉡ 두 쌍의 대변의 길이가 각각 같다.
- ㉢ 두 쌍의 대각의 크기가 각각 같다.
- ㉣ 두 대각선이 서로 다른 것을 이등분한다.
- ㉤ 한 쌍의 대변이 평행하고 그 길이가 같다.

① 1 개

② 2 개

③ 3 개

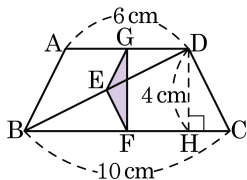
④ 4 개

⑤ 5 개

해설

평행사변형이 되는 조건은 $\square ABFC$, $\square ACED$ 가 평행사변형이 되는 조건 ㉠과 $\square BFED$ 가 평행사변형이 되는 조건 ㉡로 2개이다.

5. 사다리꼴 ABCD 에서 점 G, E, F 는 각각 \overline{AD} , \overline{BD} , \overline{BC} 의 중점이다. $\triangle GEF$ 의 넓이를 구하면?



① 1 cm^2

② 2 cm^2

③ 3 cm^2

④ 4 cm^2

⑤ 5 cm^2

해설

$$\square ABFG = (3 + 5) \times 4 \times \frac{1}{2} = 16(\text{cm}^2)$$

$$\square ABEG = \frac{3}{4} \triangle ABD = \frac{3}{4} \times \frac{1}{2} \times 6 \times 4 = 9(\text{cm}^2)$$

$$\triangle BEF = \frac{1}{4} \triangle BDC = \frac{1}{4} \times \frac{1}{2} \times 10 \times 4 = 5(\text{cm}^2)$$

$$\begin{aligned} \therefore \triangle GEF &= \square ABFG - (\square ABEG + \triangle BEF) \\ &= 16 - (9 + 5) = 2(\text{cm}^2) \end{aligned}$$