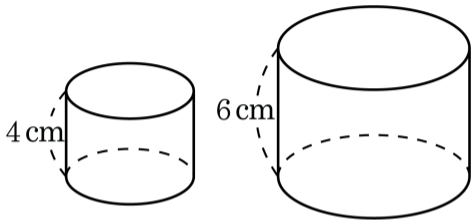


1. 다음 그림에서 두 원기둥은 서로 닮은 도형이다. 두 원기둥의 밑면의 지름의 길이의 비를 구하면?



① 1 : 1

② 1 : 2

③ 1 : 3

④ 2 : 3

⑤ 1 : 4

해설

두 원기둥이 닮은 입체도형이므로 닮음비는 $4 : 6 = 2 : 3$ 이다.

2. 다음 그림에서 $\overline{AD} : \overline{DB} = 2 : 5$ 일 때, \overline{EC} 의 길이를 구하면?

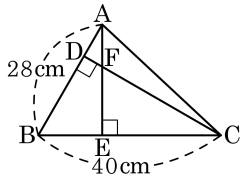
① 25cm

② 26cm

③ 27cm

④ 28cm

⑤ 29cm



해설

$$\triangle ABE \sim \triangle CBD \text{ (AA 닮음)}$$

$$\overline{AB} : \overline{CB} = \overline{BE} : \overline{BD}$$

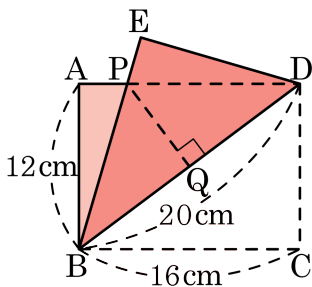
$$\overline{BD} = 28 \times \frac{5}{7} = 20(\text{cm})$$

$$28 : 40 = \overline{BE} : 20$$

$$\overline{BE} = 14(\text{cm})$$

$$\therefore \overline{EC} = 40 - 14 = 26(\text{cm})$$

3. 다음 그림은 직사각형 ABCD 에서 대각선 BD 를 접은 선으로 하여 점 C 가 점 E 에 오도록 한 것이다. \overline{PQ} 의 길이를 구하면?



① 6.5cm

② 7cm

③ 7.5cm

④ 8cm

⑤ 8.5cm

해설

$\triangle ABP \cong \triangle EDP$ 이므로 $\triangle PBD$ 는 이등변삼각형이므로 $\overline{BQ} = 10\text{cm}$ 이다.

$\triangle PBQ$ 와 $\triangle DBC$ 에서

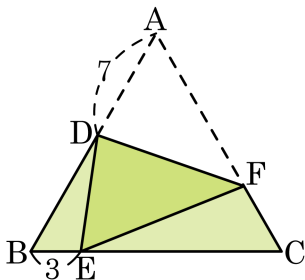
$\angle PBQ = \angle DBC$, $\angle PQB = \angle DCB$ 이므로

$\triangle PBQ \sim \triangle DBC$ (AA 닮음)

$\overline{PQ} : \overline{BQ} = \overline{DC} : \overline{BC}$ 이므로 $\overline{PQ} : 10 = 12 : 16$

$\therefore \overline{PQ} = 7.5 \text{ (cm)}$

4. 한 변의 길이가 15cm 인 정삼각형의 꼭짓점 A 가 \overline{BC} 위의 점 E 에 겹치게 접었다. \overline{BE} 가 3cm 일 때, \overline{AF} 의 길이를 구하여라.



① $\frac{19}{2}$ cm

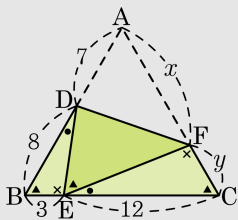
② $\frac{21}{2}$ cm

③ $\frac{23}{2}$ cm

④ $\frac{25}{2}$ cm

⑤ $\frac{27}{2}$ cm

해설

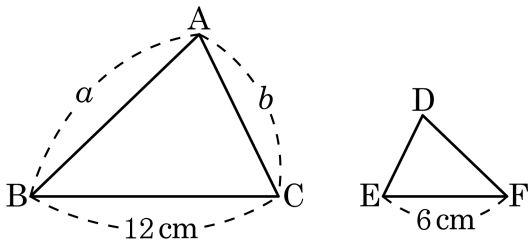


$$8 : 12 = 3 : y \quad \therefore y = \frac{9}{2}$$

$$x = 15 - \frac{9}{2} = \frac{21}{2}$$

$$\therefore \overline{AF} = \frac{21}{2} (\text{cm})$$

5. 다음 그림에서 $\triangle ABC \sim \triangle DFE$ 이다. \overline{DE} 와 \overline{DF} 의 길이를 a , b 를 사용한 식으로 나타낸 것은? (단, $\angle A = \angle D$, $\angle B = \angle F$)



- ① $\overline{DE} = \frac{b}{2}(\text{cm})$, $\overline{DF} = \frac{a}{2}(\text{cm})$
 ② $\overline{DE} = b(\text{cm})$, $\overline{DF} = \frac{a}{2}(\text{cm})$
 ③ $\overline{DE} = \frac{b}{2}(\text{cm})$, $\overline{DF} = a(\text{cm})$
 ④ $\overline{DE} = b(\text{cm})$, $\overline{DF} = a(\text{cm})$
 ⑤ $\overline{DE} = 2b(\text{cm})$, $\overline{DF} = 2a(\text{cm})$

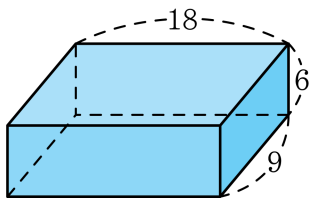
해설

두 도형의 대응비는 $\overline{BC} : \overline{FE} = 12 : 6 = 2 : 1$ 이다.

$\overline{BC} : \overline{FE} = \overline{AC} : \overline{DE}$ 이므로 $\overline{DE} = \frac{b}{2}(\text{cm})$ 이다.

$\overline{BC} : \overline{FE} = \overline{AB} : \overline{DF}$ 이므로 $\overline{DF} = \frac{a}{2}(\text{cm})$ 이다.

6. 다음 그림과 같은 직육면체와 닮음이고 한 모서리의 길이가 3인 직육면체를 만들려고 한다. 이 때, 새로 만드는 직육면체의 모서리가 될 수 있는 것은?



- ① 4 ② 5 ③ $\frac{1}{2}$ ④ $\frac{9}{2}$ ⑤ $\frac{1}{3}$

해설

작은 변부터 세 변의 비가 $2 : 3 : 6$ 이므로 한 변의 길이가 3인 닮음 직육면체는

$$1) 2 : 3 : 6 = x : y : 3 \Rightarrow 1 : \frac{3}{2} : 3$$

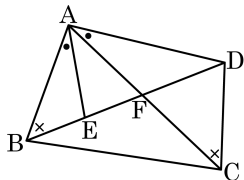
$$2) 2 : 3 : 6 = x : 3 : y \Rightarrow 2 : 3 : 6$$

$$3) 2 : 3 : 6 = 3 : x : y \Rightarrow 3 : \frac{9}{2} : 9$$

세 가지 경우이다.

따라서 모서리가 될 수 있는 것은 $\frac{9}{2}$ 이다.

7. $\angle ABE = \angle ACD, \angle BAE = \angle CAD$ 일 때, $\triangle ABE \cong \triangle ACD$ 이므로 $\triangle ABC \cong \triangle AED$ 이다.
 <보기> 중 어느 도형끼리 짝지은 것은?



보기

- | | |
|---------------------------------------|---------------------------------------|
| ㉠ $\triangle ABC \cong \triangle AED$ | ㉡ $\triangle AEF \cong \triangle DFC$ |
| ㉢ $\triangle AFD \cong \triangle CFB$ | ㉣ $\triangle ABF \cong \triangle ADE$ |
| ㉤ $\triangle ABC \cong \triangle ADC$ | ㉥ $\triangle ABE \cong \triangle ACD$ |

- ① ㉠, ㉥ ② ㉡, ㉥ ③ ㉢, ㉥ ④ ㉣, ㉥ ⑤ ㉡, ㉣

해설

$\angle ABE = \angle ACD, \angle BAE = \angle CAD$ 이므로 $\triangle ABE \cong \triangle ACD$ (AA 답음) ... ㉥

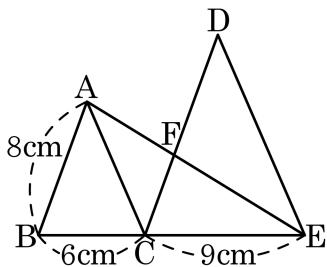
$\triangle ABC$ 와 $\triangle AED$ 에서

$$\angle BAC = \angle EAD, \overline{AB} : \overline{AE} = \overline{AC} : \overline{AD}$$

($\because \triangle ABE \cong \triangle ACD$) 이므로 SAS 답음이다.

$\triangle ABC \cong \triangle AED$ (SAS 답음) ... ㉠

8. 다음 그림에서 $\triangle ABC \sim \triangle DCE$ 이고, 점 C는 \overline{BE} 위에 있다. $\overline{AB} = 8\text{cm}$, $\overline{BC} = 6\text{cm}$, $\overline{CE} = 9\text{cm}$ 일 때, \overline{DF} 의 길이는?



① 6cm

② 6.8cm

③ 7.2cm

④ 8cm

⑤ 8.2cm

해설

$\triangle ABC \sim \triangle DCE$ 이므로 $\overline{AB} : \overline{DC} = \overline{BC} : \overline{CE}$

$8 : \overline{DC} = 6 : 9$ 이므로 $\overline{DC} = 12(\text{cm})$

$\triangle EAB$ 와 $\triangle EFC$ 에서 $\angle E$ 는 공통, $\angle B = \angle FCE$ ($\because \triangle ABC \sim \triangle DCE$)

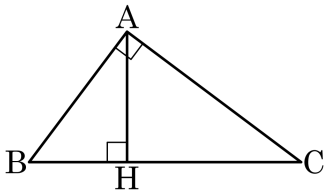
$\triangle EAB \sim \triangle EFC$ (AA 닮음)

$\overline{EB} : \overline{EC} = \overline{AB} : \overline{FC}$ 이므로 $15 : 9 = 8 : \overline{CF}$

$\overline{CF} = 4.8(\text{cm})$

$\therefore \overline{DF} = 12 - 4.8 = 7.2(\text{cm})$

9. 다음 그림은 $\angle A = 90^\circ$ 인 직각삼각형 ABC 의 꼭짓점 A 에서 변 BC 위에 수선의 발을 내린 것이다. 다음 중 옳지 않은 것은?



- ① $\triangle ABC \sim \triangle HBA$ ② $\triangle HAC \sim \triangle HBA$
 ③ $\overline{AB}^2 = \overline{BH} \cdot \overline{BC}$ ④ $\overline{AC}^2 = \overline{CH} \cdot \overline{CB}$
 ⑤ $\overline{AH}^2 = \overline{HB} \cdot \overline{BC}$

해설

$$\overline{AH}^2 = \overline{BH} \cdot \overline{CH}$$