

1. 다음은 「세 내각의 크기가 같은 삼각형은 정삼각형이다.」를 보이는 과정이다.

$\triangle ABC$ 에서 세 내각의 크기가 같으므로 (가)
 $\angle B = \angle C$ 이므로 $\overline{AB} = \overline{AC}$... ㉠
 $\angle A = \angle C$ 이므로 $\overline{BA} = \overline{BC}$... ㉡
 ㉠, ㉡에 의해서 (라)
 따라서 $\triangle ABC$ 는 (마) 이다.

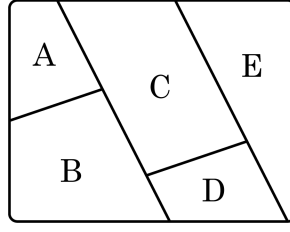
(가) ~ (마)에 들어갈 것으로 옳지 않은 것을 모두 고르면?

- ㉠ (가) $\overline{AB} = \overline{BC} = \overline{CA}$ ㉡ (나) \overline{AC}
 ㉢ (다) $\angle C$ ㉣ (라) $\angle A = \angle B = \angle C$
 ㉤ (마) 정삼각형

해설

$\triangle ABC$ 에서 세 내각의 크기가 같으므로 ($\angle A = \angle B = \angle C$)
 $\angle B = \angle C$ 이므로 $\overline{AB} = \overline{AC}$... ㉠
 $\angle A = \angle C$ 이므로 $\overline{BA} = \overline{BC}$... ㉡
 ㉠, ㉡에 의해서 ($\overline{AB} = \overline{BC} = \overline{CA}$)
 따라서 $\triangle ABC$ 는 (정삼각형) 이다.

2. 다음 그림과 같은 A, B, C, D, E의 각 부분에 빨강, 노랑, 초록, 파랑, 주황의 5 가지 색을 한 번씩만 사용하여 모두 칠하는 방법은 몇 가지인가?



- ① 12가지 ② 24가지 ③ 48가지
 ④ 60가지 ⑤ 120가지

해설

5가지 색을 A-B-C-D-E 순서로 나열하는 것이므로
 $\therefore 5 \times 4 \times 3 \times 2 \times 1 = 120$ (가지)

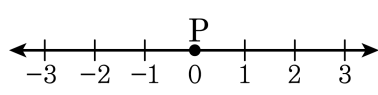
3. 0, 1, 2, 3, 4, 5의 숫자 6개 중에서 두 개를 골라 두 자리의 자연수를 만들려고 한다. 같은 숫자를 두 번 써도 좋다고 할 때, 만들 수 있는 자연수의 개수는?

① 30개 ② 45개 ③ 60개 ④ 80개 ⑤ 90개

해설

십의 자리에는 0이 올 수 없으므로 1, 2, 3, 4, 5의 5가지가 올 수 있다. 일의 자리에는 같은 수를 중복하여 써도 되므로 0, 1, 2, 3, 4, 5의 6가지가 올 수 있다. 그러므로 구하는 경우의 수는 $5 \times 6 = 30$ (개)이다.

4. 다음 수직선의 원점 위에 점 P가 있다. 동전 한 개를 던져 앞면이 나오면 +1만큼, 뒷면이 나오면 -1만큼 점 P를 움직이기로 할 때, 동전을 3회 던져 점 P가 -1의 위치에 있을 확률을 구하면?



- ① $\frac{1}{8}$ ② $\frac{1}{4}$ ③ $\frac{3}{8}$ ④ $\frac{1}{2}$ ⑤ $\frac{5}{8}$

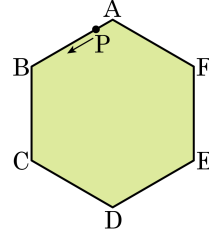
해설

모든 경우의 수 : $2^3 = 8$ (가지)

P가 -1 위치에 올 경우의 수 : (앞, 뒤, 뒤), (뒤, 뒤, 앞), (뒤, 앞, 뒤)로 3가지

$$\therefore \frac{3}{8}$$

5. 다음 그림과 같은 정육각형 ABCDEF의 한 꼭짓점 A를 출발하여, 주사위를 던져서 나온 눈의 수의 합만큼 화살표 방향의 꼭짓점으로 점 P가 움직인다. 이때, 주사위를 두 번 던져서 점 P가 점 F에 오게 될 확률을 구하면?



- ① $\frac{1}{4}$ ② $\frac{1}{6}$ ③ $\frac{5}{36}$ ④ $\frac{1}{12}$ ⑤ $\frac{3}{8}$

해설

점 D가 점 F에 오려면 주사위의 눈의 합이 5 또는 11이어야 한다.

합이 5인 경우는 (1, 4), (2, 3), (3, 2), (4, 1)로 4가지이고, 합이 11인 경우는 (5, 6), (6, 5)로 2가지이다.

따라서 구하고자 하는 확률은 $\frac{6}{36} = \frac{1}{6}$

6. A 문제를 풀 확률은 $\frac{3}{4}$ 이고, B 문제를 풀 확률은 $\frac{4}{5}$ 이다. 두 문제 중 한 문제만 풀 확률은?

- ① $\frac{1}{4}$ ② $\frac{1}{5}$ ③ $\frac{7}{20}$ ④ $\frac{3}{20}$ ⑤ $\frac{3}{5}$

해설

$$\frac{3}{4} \times \frac{1}{5} + \frac{1}{4} \times \frac{4}{5} = \frac{7}{20}$$

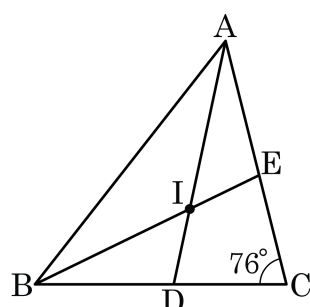
7. 소민이가 시험에 합격할 확률은 $\frac{1}{5}$ 이고, 명은이가 시험에 합격할 확률은 $\frac{5}{7}$ 이다. 소민이와 명은이 모두 합격할 확률을 구하면?

- ① $\frac{1}{2}$ ② $\frac{5}{7}$ ③ $\frac{1}{5}$ ④ $\frac{1}{7}$ ⑤ $\frac{12}{35}$

해설

$$\frac{1}{5} \times \frac{5}{7} = \frac{1}{7}$$

8. $\triangle ABC$ 에서 점 I 는 내심이다. 다음 그림과 같이 $\angle C = 76^\circ$ 일 때, $\angle ADB + \angle BEA$ 를 구하면?



- ① 190° ② 195° ③ 201° ④ 204° ⑤ 205°

해설

$$\begin{aligned} \angle A + \angle B &= 180^\circ - 76^\circ = 104^\circ \\ \therefore \angle ADB + \angle AEB &= \frac{1}{2}\angle A + 76^\circ + \frac{1}{2}\angle B + 76^\circ \\ &= 52^\circ + 152^\circ = 204^\circ \end{aligned}$$