

1. 철수, 영미, 수진, 소희, 영수 이렇게 다섯 명이 일렬로 줄을 설 때,
철수가 영미 바로 앞에 설 확률은?



답:

2. 부모님과 현빈, 형, 동생 다섯 식구가 가족 사진을 찍으려고 한다.
부모님이 양 끝에 서게 될 확률을 구하여라.



답: _____

3. A, B, C, D 네 명 중에서 회장과 부회장을 뽑으려고 한다. A가 회장, B가 부회장에 뽑힐 확률을 구하면?

① $\frac{1}{2}$

② $\frac{1}{4}$

③ $\frac{1}{6}$

④ $\frac{1}{8}$

⑤ $\frac{1}{12}$

4. 1에서 6까지의 숫자가 각각 적힌 6장의 카드가 주머니 속에 들어 있다. 이 중에서 2장을 꺼내어 두 자리의 정수를 만들 때, 그 수가 36 이상일 확률은?

① $\frac{4}{9}$

② $\frac{2}{3}$

③ $\frac{4}{5}$

④ $\frac{5}{12}$

⑤ $\frac{8}{15}$

5. 0부터 6까지 7장을 카드로 세 자리 자연수를 만들 때 작수일 확률은?

① $\frac{2}{3}$

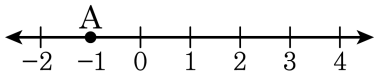
② $\frac{7}{12}$

③ $\frac{5}{9}$

④ $\frac{1}{2}$

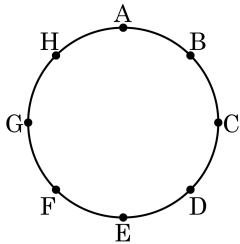
⑤ $\frac{4}{9}$

6. 한 개의 동전을 던져서 앞면이 나오면 수직선을 따라 양의 방향으로 2만큼, 뒷면이 나오면 수직선을 따라 음의 방향으로 1만큼 이동하였다. 동전을 4번 던져서 이동하였을 때, A 지점에 위치할 확률을 구하여라. (단, 동전을 던지기 전의 위치는 0이다.)



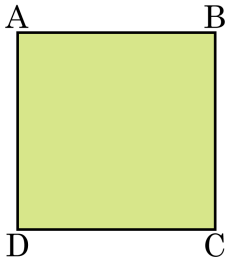
답: _____

7. 다음 그림과 같이 원 위에 점 A, B, C, D, E, F, G, H가 있다. 두 개의 주사위를 동시에 던져서 나온 눈의 수의 합만큼 점 A에서 출발하여 시계방향으로 갈 때, 점 D 또는 점 F에 올 확률을 구하면? (예 : (1, 1)일 경우 $A \rightarrow C$)



- ① $\frac{1}{3}$ ② $\frac{11}{36}$ ③ $\frac{5}{18}$
 ④ $\frac{1}{4}$ ⑤ $\frac{2}{9}$

8. 다음 그림과 같이 정사각형 ABCD 가 있다. 성민이와 병수가 한 개의 주사위를 던져 나온 눈의 수만큼 $\square ABCD$ 의 꼭짓점 B 에서 출발하여 사각형 변을 따라 시계방향으로 점을 이동시키고 있다. 성민이와 병수가 차례로 한번씩 주사위를 던질 때, 성민이는 점 D 에 병수는 점 A 에 점을 놓게 될 확률을 구하여라.



답: _____

9. 주머니 속에 모양과 크기가 같은 흰 공이 6 개, 검은 공이 4 개 들어 있다. 임의로 한 개를 꺼낼 때, 그것이 흰 공일 확률을 구하여라.



답: _____

10. 서로 다른 동전 3 개를 던져 앞면이 1 개 나올 확률은?

① $\frac{1}{8}$

② $\frac{1}{4}$

③ $\frac{3}{8}$

④ $\frac{3}{4}$

⑤ $\frac{5}{8}$

11. 동전 1개와 주사위 1개를 동시에 던질 때, 동전은 앞면이 나오고, 주사위는 2의 배수가 나올 확률은?

① $\frac{1}{2}$

② $\frac{1}{3}$

③ $\frac{1}{4}$

④ $\frac{2}{3}$

⑤ $\frac{3}{4}$

12. 동전 1개와 주사위 1개를 동시에 던질 때, 동전은 뒷면이 나오고, 주사위는 3의 배수가 나올 확률을 구하여라.



답: _____

13. 0에서 6까지 수가 적힌 7장의 카드가 있다. 이 중에서 2장을 뽑아 두 자리의 정수를 만들 때, 30 이상의 정수가 나올 확률을 구하여라.



답: _____

14. 유희와 담비가 가위, 바위, 보름을 할 때, 담비가 이길 확률은?

① $\frac{1}{2}$

② $\frac{1}{3}$

③ $\frac{2}{3}$

④ $\frac{1}{4}$

⑤ $\frac{1}{6}$

15. 세 사람이 가위바위보를 할 때, 승부가 날 확률을 구하여라.



답:

16. A, B 두 사람이 가위 바위 보를 할 때, 처음에는 A가 이기고, 두 번째에도 A가 이기고, 세 번째에는 두 사람이 비길 확률을 구하면?
(단, A, B 두 사람 모두 가위, 바위, 보가 나올 확률은 같다.)

① $\frac{1}{3}$

② $\frac{2}{3}$

③ $\frac{1}{9}$

④ $\frac{2}{9}$

⑤ $\frac{1}{27}$

17. A, B, C 세 사람이 가위바위보를 할 때, 무승부가 될 확률은?

① $\frac{1}{3}$

② $\frac{1}{4}$

③ $\frac{3}{4}$

④ $\frac{3}{5}$

⑤ $\frac{1}{8}$

18. 다음은 A, B, C세 사람이 가위바위보를 할 때, 승부가 날 확률을 구하는 과정이다. 과정 중 처음 틀린 곳은 어디인가?

세 사람이 가위, 바위, 보를 할 때, 무승부가 나는 경우는 다음의 ㉠ 두 가지가 있다.

(1) A, B, C모두 다른 것을 낼 확률은 ㉡ $\frac{3}{3} \times \frac{2}{3} \times \frac{1}{3} = \frac{6}{27} = \frac{2}{9}$ 이고,

(2) A, B, C모두 같은 것을 낼 확률은 ㉢ $\frac{3}{3} \times \frac{1}{3} \times \frac{1}{3} = \frac{3}{27} = \frac{1}{9}$ 이다.

㉣ $\therefore \frac{2}{9} \times \frac{1}{9} = \frac{2}{81}$

따라서 승부가 날 확률은 ㉤ $1 - \frac{2}{81} = \frac{79}{81}$ 이다.

① ㉠

② ㉡

③ ㉢

④ ㉣

⑤ ㉤

19. 10발을 쏴서 평균 6발을 명중시키는 사수가 2발을 쏘았을 때, 한 발만 명중시킬 확률은?

① $\frac{4}{25}$

② $\frac{6}{25}$

③ $\frac{9}{25}$

④ $\frac{12}{25}$

⑤ $\frac{21}{25}$

20. 주머니 속에 흰 공이 2개, 붉은 공이 4개 들어 있다. 주머니에서 1개의 공을 꺼내어 색깔을 확인하고 다시 넣은 후 다시 1개의 공을 꺼낼 때, 2개 모두 흰 공일 확률을 구하여라.



답: _____

21. 주머니 속에 파란 공이 3개, 빨간 공이 5개 들어 있다. 처음 꺼낸 공을 확인하고 다시 넣은 후 또 한 개의 공을 꺼낼 때, 두 공 모두 파란 공일 확률은?

① $\frac{3}{28}$

② $\frac{9}{64}$

③ $\frac{1}{10}$

④ $\frac{7}{9}$

⑤ $\frac{6}{25}$

22. 주머니 속에 1에서 12까지의 수가 각각 적힌 12개의 공이 있다. 처음에 한 개를 꺼내어 본 후 집어 넣고 두 번째 다시 한 개를 꺼낼 때, 처음에는 3의 배수, 두 번째는 5의 배수의 공이 나올 확률을 구하여라.



답: _____

23. 장마 기간 동안 비 온 다음날 비가 올 확률은 75% , 비가 오지 않은 다음날 비가 올 확률은 40% 라고 한다. 장마 기간에 첫째 날에 비가 왔을 때, 셋째 날에도 비가 올 확률을 구하여라.



답: _____

24. A, B 두 개의 주사위를 던질 때 A 주사위는 3의 배수의 눈이 나오고 B 주사위는 4의 약수가 나올 확률은?

① $\frac{1}{2}$

② $\frac{1}{3}$

③ $\frac{1}{6}$

④ $\frac{5}{12}$

⑤ $\frac{5}{36}$

25. A, B 두 개의 주사위를 동시에 던질 때, A 주사위는 소수의 눈, B 주사위는 6의 약수의 눈이 나올 확률은?

① 1

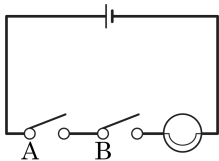
② $\frac{1}{2}$

③ $\frac{1}{3}$

④ $\frac{2}{3}$

⑤ $\frac{1}{4}$

26. 다음 그림과 같은 전기 회로에 A, B 스위치가 닫힐 확률이 각각 $\frac{1}{3}$, $\frac{4}{5}$ 일 때, 전구에 불이 켜질 확률을 구하여라.



답: _____

27. A, B 두 개의 주사위를 던져서 A 주사위의 눈의 수를 x , B 주사위의 눈의 수를 y 라고 할 때, $2x + y = 5$ 이 될 확률은?

① $\frac{1}{6}$

② $\frac{1}{12}$

③ $\frac{1}{18}$

④ $\frac{5}{18}$

⑤ $\frac{1}{36}$

28. 윷놀이를 할 때, 개 또는 윷이 나올 확률은? (단, 등과 배가 나올 확률은 같다.)

① $\frac{1}{8}$

② $\frac{3}{16}$

③ $\frac{5}{16}$

④ $\frac{7}{16}$

⑤ $\frac{9}{16}$

29. 10 개의 제품 중 3 개가 불량품이라고 한다. 두 개의 제품을 검사하였을 때, 두 개 모두 불량품일 확률은?

① $\frac{1}{45}$

② $\frac{2}{45}$

③ $\frac{1}{15}$

④ $\frac{4}{25}$

⑤ $\frac{4}{5}$

30. 명수가 학교에서 수업을 마치고 집에 돌아갔을 때 형이 집에 있을 확률은 $\frac{3}{5}$, 동생이 집에 없을 확률은 $\frac{5}{12}$, 누나가 집에 없을 확률은 $\frac{1}{2}$ 이다. 그렇다면 형, 누나, 동생 중 적어도 한 명이 집에 있을 확률은?

① $\frac{1}{3}$

② $\frac{1}{8}$

③ $\frac{11}{12}$

④ $\frac{1}{4}$

⑤ $\frac{5}{8}$

31. 0, 1, 2, 3, 4 의 숫자가 각각 적힌 5 장의 카드에서 2 장을 뽑아 두 자리의 정수를 만들려고 한다. 두 자리의 정수가 32 이상일 확률을 구하면?

① $\frac{3}{10}$

② $\frac{1}{4}$

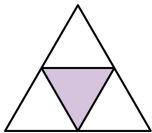
③ $\frac{5}{16}$

④ $\frac{3}{8}$

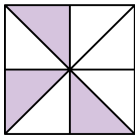
⑤ $\frac{7}{16}$

32. 다음과 같은 과녁에 화살을 쏠 때 화살이 색칠된 부분에 맞게 될 확률이 가장 작은 것은 어느 것인가?

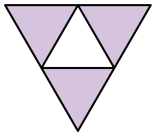
①



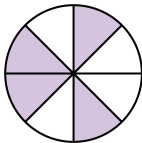
②



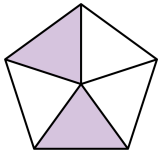
③



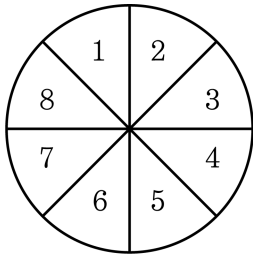
④



⑤



33. 다음과 같은 과녁에 숫자를 써넣었다. 여기에 화살을 쏠 때 2의 배수를 맞힐 확률을 구하여라. (단, 화살은 과녁을 벗어나지 않는다.)



 답: _____

34. 어떤 학생이 1번 과녁을 명중시킬 확률은 $\frac{3}{5}$, 2번 과녁을 명중시키지 못할 확률은 $\frac{1}{4}$ 일 때, 이 학생이 두 과녁 중 한 곳만 명중시킬 확률은?

① $\frac{11}{12}$

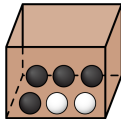
② $\frac{5}{12}$

③ $\frac{9}{20}$

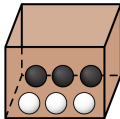
④ $\frac{3}{4}$

⑤ $\frac{2}{3}$

35. 다음 그림과 같이 A상자와 B상자에서 공을 한 개씩 꺼낼 때, 하나는 흰 공이고, 다른 하나는 검은색 공일 확률을 구하여라.



A



B



답: _____

36. 1부터 15까지의 자연수가 각각 적힌 15장의 카드에서 연속하여 두장의 카드를 뽑을 때, 두 번 모두 5의 배수가 되는 카드를 뽑을 확률을 구하여라. (단, 처음 카드는 다시 넣지 않으며, 한 번에 카드를 한 장씩 뽑는다.)



답: _____

37. 한 개의 주사위를 차례로 두 번 던질 때, 처음에는 3의 눈, 두 번째에는 2의 배수의 눈이 나올 확률을 구하여라.



답: _____

38. 숫자 카드가 들어 있는 두 주머니에서 각각 카드를 한 장씩 꺼낼 때, 짝수일 확률이 $\frac{2}{3}$, $\frac{1}{4}$ 이다. 두 주머니에서 꺼낸 카드의 숫자의 합이 홀수일 확률은?

① $\frac{1}{12}$

② $\frac{3}{12}$

③ $\frac{4}{12}$

④ $\frac{5}{12}$

⑤ $\frac{7}{12}$

39. A, B 두 개의 주사위를 동시에 던져서 나오는 두 눈의 수를 각각 x , y 라 할 때, $2x + y = 6$ 또는 $x + 2y = 10$ 을 만족할 확률을 구하여라.




답: _____

40. 상자에 15개의 제비가 들어있다. 임의로 한 개의 제비를 뽑는 경우 당첨 제비가 0개일 때, 당첨될 확률과 당첨제비가 15개일 때, 당첨될 확률의 합을 구하여라.



답: _____

41. 다음 그림과 같은 9개의 정사각형으로 이루어진 표적에 화살을 3번 쏘아 3번 모두 색칠한 부분에 맞힐 확률을 구하면?



① $\frac{1}{3}$

② $\frac{1}{8}$

③ $\frac{1}{27}$

④ $\frac{5}{6}$

⑤ $\frac{2}{3}$

42. 어떤 야구 선수의 타율이 4할이라고 할 때, 이 선수가 세 번의 타석 중에서 한 번만 안타를 칠 확률은?

① $\frac{18}{125}$

② $\frac{27}{125}$

③ $\frac{54}{125}$

④ $\frac{8}{81}$

⑤ $\frac{16}{81}$

43. 어떤 양궁 선수가 과녁을 맞힐 확률은 $\frac{1}{3}$ 이다. 네 번 쏘았을 때, 적어도 한 번 과녁을 맞힐 확률은?

① $\frac{1}{81}$

② $\frac{8}{81}$

③ $\frac{17}{81}$

④ $\frac{65}{81}$

⑤ $\frac{73}{81}$

44. 주머니 속에 모양과 크기가 같은 검은 공 4개와 흰 공 3개가 들어 있다. 한 개의 공을 꺼낸 다음 다시 넣어 또 하나의 공을 꺼낼 때, 두 번 모두 흰 공이 나올 확률은?

① $\frac{12}{49}$

② $\frac{6}{49}$

③ $\frac{9}{49}$

④ $\frac{8}{49}$

⑤ $\frac{16}{49}$

45. 두 개의 주사위를 동시에 던질 때, 서로 다른 눈이 나올 확률을 구하여라.



답:
