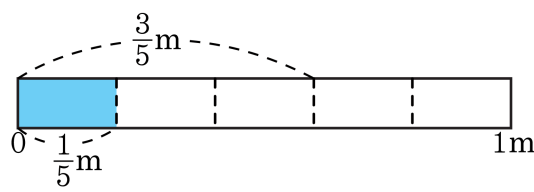


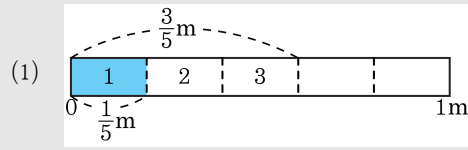
1. 안에 알맞은 수를 차례대로 써넣은 것을 고르시오.



- (1) $\frac{3}{5}$ m를 $\frac{1}{5}$ m씩 자르면 도막이 됩니다.
 (2) $\frac{3}{5}$ 은 $\frac{1}{5}$ 이 3이므로 $\frac{3}{5} \div \frac{1}{5} = \square$ 입니다.

- ① 3, 1 ② 3, 2 ③ 1, 2 ④ 2, 2 ⑤ 3, 3

해설



$\frac{3}{5}$ m를 $\frac{1}{5}$ m씩 자르면 3도막이 됩니다.

- (2) 분모가 같으면 분자끼리 나눗셈을 합니다.

$$\frac{3}{5} \div \frac{1}{5} = 3 \div 1 = 3$$

2. 다음 중 계산이 잘못된 것은 어느 것입니까?

① $\frac{3}{4} \div \frac{2}{5} = 1\frac{7}{8}$

② $\frac{5}{7} \div \frac{7}{8} = \frac{40}{49}$

③ $\frac{4}{9} \div \frac{6}{7} = \frac{8}{21}$

④ $\frac{1}{8} \div \frac{3}{4} = \frac{1}{6}$

⑤ $\frac{8}{9} \div \frac{2}{3} = 1\frac{1}{3}$

해설

③ $\frac{4}{9} \div \frac{6}{7} = \frac{4}{9} \times \frac{7}{6} = \frac{14}{27}$

3. 다음 중 계산 결과가 틀린 것은 어느 것입니까?

① $\frac{15}{13} \div \frac{2}{7} = 4\frac{1}{26}$ ② $\frac{11}{6} \div \frac{3}{5} = 3\frac{1}{18}$ ③ $\frac{5}{4} \div \frac{8}{7} = 1\frac{3}{32}$
④ $\frac{7}{3} \div \frac{5}{2} = \frac{14}{15}$ ⑤ $\frac{11}{8} \div \frac{2}{3} = 2\frac{3}{16}$

해설

⑤ $\frac{11}{8} \div \frac{2}{3} = \frac{11}{8} \times \frac{3}{2} = \frac{33}{16} = 2\frac{1}{16}$

4. 한 병에 $1\frac{1}{3}$ L씩 들어 있는 우유가 9병이 있습니다. 이 우유를 한 병에 $\frac{3}{5}$ L씩 나누어 담으면, 모두 몇 병이 되겠습니까?

▶ 답: 병

▷ 정답: 20**병**

해설

$$1\frac{1}{3} \times 9 \div \frac{3}{5} = \frac{4}{3} \times 9 \times \frac{5}{3} = 20(\text{병})$$

6. 다음 분수의 나눗셈을 바르게 한 것은 어느 것입니까?

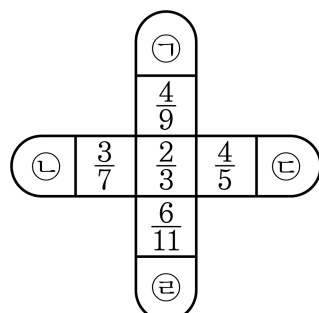
$$2\frac{1}{3} \div 1\frac{2}{9}$$

- ① $1\frac{10}{11}$ ② $2\frac{23}{27}$ ③ $\frac{10}{11}$ ④ $\frac{11}{21}$ ⑤ $1\frac{9}{11}$

해설

$$2\frac{1}{3} \div 1\frac{2}{9} = \frac{7}{3} \div \frac{11}{9} = \frac{7}{3} \times \frac{9}{11} = \frac{21}{11} = 1\frac{10}{11}$$

7. 가장 안쪽 수를 가운데 수로 나누어, 다음 빈 칸에 알맞은 수를 차례대로 구하시오.



▶ 답:

▶ 답:

▶ 답:

▶ 답:

▷ 정답: $1\frac{1}{2}$

▷ 정답: $1\frac{5}{9}$

▷ 정답: $\frac{5}{6}$

▷ 정답: $1\frac{2}{9}$

해설

$$\textcircled{㉠} \quad \frac{2}{3} \div \frac{4}{9} = \frac{2}{3} \times \frac{9}{4} = \frac{3}{2} = 1\frac{1}{2}$$

$$\textcircled{㉡} \quad \frac{2}{3} \div \frac{3}{7} = \frac{2}{3} \times \frac{7}{3} = \frac{14}{9} = 1\frac{5}{9}$$

$$\textcircled{㉢} \quad \frac{2}{3} \div \frac{4}{5} = \frac{2}{3} \times \frac{5}{4} = \frac{5}{6}$$

$$\textcircled{㉣} \quad \frac{2}{3} \div \frac{6}{11} = \frac{2}{3} \times \frac{11}{6} = \frac{11}{9} = 1\frac{2}{9}$$

8. 나눗셈에서 몫이 가장 작은 것은 어느 것입니까?

① $7 \div \frac{1}{4}$

② $\frac{2}{7} \div \frac{5}{7}$

③ $\frac{1}{8} \div \frac{1}{3}$

④ $3\frac{1}{5} \div \frac{2}{5}$

⑤ $5\frac{5}{8} \div 1\frac{4}{5}$

해설

① $7 \div \frac{1}{4} = 7 \times 4 = 28$

② $\frac{2}{7} \div \frac{5}{7} = 2 \div 5 = \frac{2}{5}$

③ $\frac{1}{8} \div \frac{1}{3} = \frac{1}{8} \times 3 = \frac{3}{8}$

④ $3\frac{1}{5} \div \frac{2}{5} = \frac{16}{5} \div \frac{2}{5} = \frac{16}{5} \times \frac{5}{2} = 8$

⑤ $5\frac{5}{8} \div 1\frac{4}{5} = \frac{45}{8} \div \frac{9}{5} = \frac{45}{8} \times \frac{5}{9} = \frac{25}{8} = 3\frac{1}{8}$

따라서 몫이 작은 수 부터 차례대로 쓰면 ③, ②, ⑤, ④, ①입니다.

9. 다음 분수의 혼합계산을 하시오.

$$2\frac{5}{14} \times 2 \div 2\frac{4}{7}$$

▶ 답:

▷ 정답: $1\frac{5}{6}$

해설

$$2\frac{5}{14} \times 2 \div 2\frac{4}{7} = \frac{33}{14} \times 2 \times \frac{7}{18} = \frac{11}{6} = 1\frac{5}{6}$$

10. 다음 중 계산이 바르게 된 것은 어느 것입니까?

① $\frac{4}{18} \div \frac{4}{9} = 18 \div 9 = 2$

② $\frac{9}{10} \div \frac{20}{27} = \frac{9}{10} \times \frac{20}{27} = \frac{2}{3}$

③ $10 \div \frac{2}{5} = 10 \div 2 \div 5 = 1$

④ $\frac{5}{12} \div \frac{7}{24} = \frac{5}{12} \times \frac{24}{7} = 1\frac{3}{7}$

⑤ $\frac{1}{2} \div \frac{3}{4} = 2 \times \frac{4}{3} = 2\frac{2}{3}$

해설

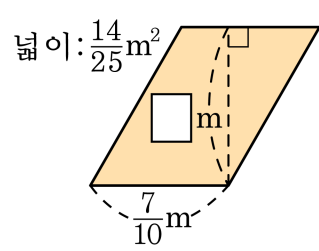
① $\frac{4}{18} \div \frac{4}{9} = \frac{4}{18} \div \frac{8}{18} = 4 \div 8 = \frac{1}{2}$

② $\frac{9}{10} \div \frac{20}{27} = \frac{9}{10} \times \frac{27}{20} = 1\frac{43}{200}$

③ $10 \div \frac{2}{5} = 10 \div 2 \times 5 = 25$

⑤ $\frac{1}{2} \div \frac{3}{4} = \frac{1}{2} \times \frac{4}{3} = \frac{2}{3}$

11. 다음은 평행사변형입니다. 안에 알맞은 수를 써넣으시오.



▶ 답:

▷ 정답: $\frac{4}{5}m$

해설

(평행사변형의 넓이)=(밑변) \times (높이) 이므로

높이를 라 하면

$$\frac{7}{10} \times \square = \frac{14}{25}$$

$$\rightarrow \square = \frac{14}{25} \div \frac{7}{10} = \frac{14}{25} \times \frac{10}{7} = \frac{4}{5}(\text{m})$$

12. 어떤 물건의 무게를 달에서 재면 지구에서 잰 때의 $\frac{1}{6}$ 이 된다고 합니다.
달에서 정인의 몸무게가 $7\frac{1}{3}$ kg일 때, 지구에서의 몸무게는 몇 kg
입니까?

- ① 43 kg ② 44 kg ③ 45 kg ④ 46 kg ⑤ 47 kg

해설

지구에서의 몸무게를 \square kg이라고 하면,

$$\square \times \frac{1}{6} = 7\frac{1}{3}, \square = 7\frac{1}{3} \div \frac{1}{6} = \frac{22}{3} \times \frac{2}{1} = 44(\text{kg})$$

따라서 지구에서의 몸무게는 44kg입니다.

13. 다음 나눗셈을 곱셈으로 잘못 계산한 결과가 $2\frac{51}{77}$ 이었습니다. 어떤

수 를 구하시오.

$$\boxed{} \div 1\frac{3}{22}$$

▶ 답:

▷ 정답: $2\frac{12}{35}$

해설

$$\boxed{} \times 1\frac{3}{22} = 2\frac{51}{77} \text{ 이므로}$$

$$\left(\text{어떤 수 } \boxed{} \right) = 2\frac{51}{77} \div 1\frac{3}{22} = \frac{205}{77} \div \frac{25}{22}$$

$$= \frac{41}{77} \times \frac{22}{25} = \frac{82}{35} = 2\frac{12}{35}$$

14. 다음 나눗셈을 하였더니 몫이 어떤 수 \square 의 3배가 되었습니다. 어떤 수 \square 를 구하십시오.

$$\square \div \frac{3}{4} + 20$$

▶ 답:

▷ 정답: 12

해설

$$\square \div \frac{3}{4} + 20 = \square \times 3$$

$$\square \times \frac{4}{3} + 20 = \square \times 3$$

$$\square \times 3 - \square \times \frac{4}{3} = 20$$

$$\square \times \left(3 - \frac{4}{3}\right) = 20$$

따라서, $\square \times \frac{5}{3} = 20$ 이므로,

$$\text{어떤 수 } \square = 20 \div \frac{5}{3} = 20 \times \frac{3}{5} = 12$$

15. $\frac{5}{6}$ m짜리 띠를 12개 만들 수 있는 끈이 있습니다. 이 끈으로 $\frac{1}{4}$ m짜리 띠를 만들려면 몇 개를 만들 수 있겠는지 구하시오.

▶ 답: 개

▷ 정답: 40 개

해설

끈 전체의 길이는 $\frac{5}{6} \times 12 = 10(\text{m})$ 이므로

$\frac{1}{4}$ m짜리 끈의 개수는 $10 \div \frac{1}{4} = 10 \times 4 = 40(\text{개})$ 입니다.

16. 나÷가의 값을 구하시오.

$$\begin{aligned} \text{가} &= \frac{2}{3} \div \frac{1}{27} \\ \text{나} &= 4 \div \frac{2}{11} \end{aligned}$$

- ① $\frac{9}{11}$ ② $1\frac{2}{9}$ ③ $1\frac{1}{9}$ ④ $2\frac{2}{9}$ ⑤ $2\frac{1}{9}$

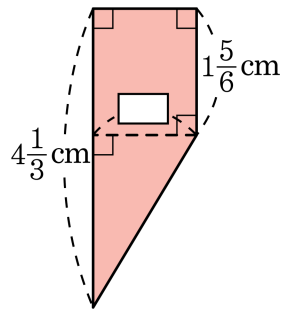
해설

$$\text{가} = \frac{2}{3} \div \frac{1}{27} = \frac{2}{3} \times 27 = 18$$

$$\text{나} = 4 \div \frac{2}{11} = 4 \times \frac{11}{2} = 22$$

$$\text{따라서, 나} \div \text{가} = 22 \div 18 = 1\frac{2}{9}$$

17. 다음 사다리꼴의 넓이가 $4\frac{5}{8}\text{cm}^2$ 일 때, \square 의 길이를 구하시오.



- ① $1\frac{1}{2}\text{cm}$
 ② $2\frac{1}{2}\text{cm}$
 ③ $3\frac{1}{2}\text{cm}$
 ④ $4\frac{1}{2}\text{cm}$
 ⑤ $5\frac{1}{2}\text{cm}$

해설

사다리꼴의 넓이 $4\frac{5}{8} = \left(4\frac{1}{3} + 1\frac{5}{6}\right) \times \square \div 2$ 이므로

$$\left(\frac{13}{3} + \frac{11}{6}\right) \times \square = \frac{37}{8} \times 2$$

$$\left(\frac{26}{6} + \frac{11}{6}\right) \times \square = \frac{37}{4}$$

$$\frac{37}{6} \times \square = \frac{37}{4}$$

$$\square = \frac{37}{4} \div \frac{37}{6} = \frac{37}{4} \times \frac{6}{37} = \frac{3}{2} = 1\frac{1}{2}(\text{cm})$$

18. 소영이의 키는 준호의 키의 $\frac{4}{5}$ 이고, 한영이의 키의 $\frac{5}{6}$ 입니다. 소영이의 키가 1m 20cm 라면 준호와 한영이의 키의 차는 몇 cm인지 구하십시오.

▶ 답: cm

▷ 정답: 6cm

해설

$$(\text{소영이의 키}) = (\text{준호의 키}) \times \frac{4}{5}$$

$$(\text{소영이의 키}) = (\text{한영이의 키}) \times \frac{5}{6}$$

$$(\text{준호의 키}) = 120 \div \frac{4}{5} = 150(\text{cm})$$

$$(\text{한영이의 키}) = 120 \div \frac{5}{6} = 144(\text{cm})$$

$$(\text{준호와 한영이의 키의 차}) = 150 - 144 = 6(\text{cm})$$

19. 재민이는 천 원짜리 3장과 백 원짜리 몇 개를 가지고 있습니다. 이 중 학용품을 사는데 돈의 $\frac{2}{3}$ 를 썼고, 굳것질로 남은 돈의 $\frac{1}{3}$ 을 썼더니 백 원짜리 8개가 남았습니다. 재민이가 처음에 가지고 있던 돈에서 백 원짜리는 몇 개 있었는지 구하시오.

▶ 답: 개

▷ 정답: 6개

해설

$$\begin{aligned} (\text{쓰고 남은 돈}) &= 1 - \left\{ \frac{2}{3} + \left(\frac{1}{3} \times \frac{1}{3} \right) \right\} \\ &= 1 - \left(\frac{2}{3} + \frac{1}{9} \right) \\ &= 1 - \left(\frac{6}{9} + \frac{1}{9} \right) = 1 - \frac{7}{9} = \frac{2}{9} \end{aligned}$$

백 원짜리 8개가 남았으므로 처음 가진 돈은

$$800 \div \frac{2}{9} = 3600(\text{원}) \text{입니다.}$$

따라서 천 원짜리 3장인 3000 원을 뺀 남은 금액은 600 원이므로 백 원짜리 6개를 가지고 있었습니다.

20. 다음 중 아래의 나눗셈에 대해 바르게 설명한 것끼리 짝지은 것은 어느 것입니까?

$$\frac{\star}{\square} \div \frac{\bigcirc}{\triangle}$$

- (가) $\frac{\bigcirc}{\triangle}$ 가 진분수이면,
몫은 $\frac{\star}{\square}$ 보다 항상 큼니다.
(나) 몫은 $\frac{\star}{\square}$ 보다 항상 작습니다.
(다) $\frac{\star}{\square}$ 가 1보다 큰 수이면
몫은 $\frac{\bigcirc}{\triangle}$ 보다 항상 큼니다.
(라) $\frac{\star}{\square} \div \frac{\bigcirc}{\triangle}$ 는 $\frac{\star}{\square} \times \frac{\triangle}{\bigcirc}$ 와 같습니다.

- ① (가), (나) ② (가), (다)
③ (가), (라) ④ (나), (다), (라)
⑤ (가), (나), (다), (라)

해설

나눗셈의 몫이 항상 나누어지는 수보다 작아지는 것은 아닙니다. 나누는 수가 1보다 작은 수이면 나눗셈의 몫은 나누어지는 수보다 커지고, 나누는 수가 1보다 큰 수이면 나눗셈의 몫은 나누어지는 수보다 작아집니다.

예를 들어 설명하는 다음과 같습니다.

(가) $\frac{\bigcirc}{\triangle}$ 가 진분수인 경우

$$\frac{4}{3} \div \frac{2}{3} = \frac{4}{3} \times \frac{3}{2} = 2, \frac{4}{3} < 2$$

(나) $\frac{\bigcirc}{\triangle}$ 가 1이거나 1보다 작으면, $\frac{\star}{\square}$ 과 같거나, $\frac{\star}{\square}$ 보다 큰 수가 될 수 있습니다.

따라서, 몫은 $\frac{\star}{\square}$ 보다 항상 작지는 않습니다.

(다) 나누는 수가 1보다 작을 때 몫은 나누어지는 수보다 커지게 됩니다. 그런데 나누어지는 수 $\frac{\star}{\square}$ 가 1보다 큰 수라고 해서 몫이 나누는 수 $\frac{\bigcirc}{\triangle}$ 보다 크다고 말할 수는 없습니다.

(라) $\frac{\star}{\square} \div \frac{\bigcirc}{\triangle}$ 는 $\frac{\star}{\square} \times \frac{\triangle}{\bigcirc}$ 와 같습니다.

따라서, 바르게 설명한 것은 3번 (가), (라)입니다.

21. 해철이네 집 수도가 고장나서 물이 조금씩 샌다고 합니다. 이 수도에서 새는 물을 2시간 15분 동안 통에 받았더니 $4\frac{7}{8}$ L가 되었습니다. 1시간 동안 샌 물은 얼마입니까?

① $\frac{1}{6}$ L

② $2\frac{1}{6}$ L

③ $12\frac{3}{25}$ L

④ $4\frac{5}{43}$ L

⑤ $7\frac{1}{8}$ L

해설

$$2\text{시간 } 15\text{분} = 2\frac{15}{60}\text{시간} = 2\frac{1}{4}\text{시간}$$

(1시간 동안 샌 물의 양)

$$= (\text{통에 받은 물의 양}) \div (\text{물을 받은 시간})$$

$$= 4\frac{7}{8} \div 2\frac{1}{4} = \frac{39}{8} \div \frac{9}{4} = \frac{39}{8} \times \frac{4}{9} = \frac{13}{6}$$

$$= 2\frac{1}{6}(\text{L})$$

22. ○와 ★은 서로 다른 자연수입니다. 다음 식이 성립하도록 하는 ○와 ★은 모두 몇 쌍입니까?

$$5 \div \frac{\bigcirc}{12} = \star$$

▶ 답: 쌍

▷ 정답: 12쌍

해설

곱해서 60이 되는 서로 다른 자연수인 ○와 ★의 쌍을 알아보면 다음과 같습니다.

(○, ★) = (1, 60), (2, 30), (3, 20), (4, 15), (5, 12), (6, 10),
(10, 6), (12, 5), (15, 4), (20, 3), (30, 2), (60, 1)

→ 12쌍

23. 어떤 일을 하는데 동생은 9일 동안 전체의 $\frac{3}{4}$ 을 할 수 있고, 형은 6일 동안 전체의 $\frac{1}{6}$ 을 할 수 있습니다. 이 일을 동생과 형이 함께 한다면 모두 끝내는 데 며칠이 걸리겠습니까?

▶ 답: 일

▷ 정답: 9일

해설

하루에 하는 일의 양을 구하면

$$\text{동생은 } \frac{3}{4} \div 9 = \frac{1}{12}$$

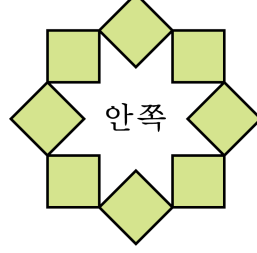
$$\text{형은 } \frac{1}{6} \div 6 = \frac{1}{36}$$

두 사람이 하루에 할 수 있는 일의 양을 구하면 $\frac{1}{12} + \frac{1}{36} = \frac{1}{9}$

일을 끝내는 데 걸리는 날수는

$$1 \div \frac{1}{9} = 1 \times 9 = 9(\text{일}) \text{입니다.}$$

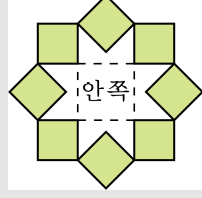
24. 한 변의 길이가 $1\frac{2}{3}$ cm인 정사각형 8개를 그림과 같이 배열하였습니다. 색칠한 부분의 넓이는 안쪽의 넓이의 몇 배입니까? (단, 정사각형의 대각선의 길이는 한 변의 길이의 $1\frac{2}{5}$ 배입니다.)



▶ 답: 배

▷ 정답: $1\frac{61}{139}$ 배

해설



색칠한 부분의 넓이는 한 변의 길이가 $1\frac{2}{3}$ cm인 정사각형 8개의 넓이이므로 $1\frac{2}{3} \times 1\frac{2}{3} \times 8 = \frac{200}{9}$ (cm²)입니다.

안쪽의 넓이는 가운데 정사각형과 상하좌우 직사각형의 일부분으로 나누어 생각합니다.

$$\begin{aligned} & \left(1\frac{2}{3} \times 1\frac{2}{5} \times 1\frac{2}{3} \times 1\frac{2}{5}\right) \\ & + \left(1\frac{2}{3} \times 1\frac{2}{5} \times 1\frac{2}{3} - 1\frac{2}{3} \times 1\frac{2}{3} \times \frac{1}{2}\right) \times 4 \\ & = \frac{49}{9} + 10 = \frac{139}{9} \text{ (cm}^2\text{)} \end{aligned}$$

이므로 색칠한 부분의 넓이는 안쪽의 넓이의 $\frac{200}{9} \div \frac{139}{9} = \frac{200}{139} = 1\frac{61}{139}$ (배)입니다.

25. 기름 $2\frac{1}{3}$ L가 들어 있는 병의 무게를 재어보니 $5\frac{2}{3}$ kg이었습니다. 기름이 $1\frac{3}{5}$ L가 되었을 때, 다시 병의 무게를 재어보니 $4\frac{1}{5}$ kg이었습니다. 이 기름 1L가 들어 있는 기름병의 무게는 몇 kg인지 구하시오.

▶ 답: kg

▷ 정답: 3kg

해설

$(2\frac{1}{3} - 1\frac{3}{5})$ L의 무게가 $(5\frac{2}{3} - 4\frac{1}{5})$ kg이므로

기름 1L의 무게는 $1\frac{7}{15} \div \frac{11}{15} = \frac{22}{15} \times \frac{15}{11} = 2$ (kg)

(병만의 무게) = $5\frac{2}{3} - 2\frac{1}{3} \times 2 = \frac{17}{3} - \frac{14}{3} = 1$ (kg)

(기름 1L가 들어 있는 기름병의 무게) = $2 + 1 = 3$ (kg)