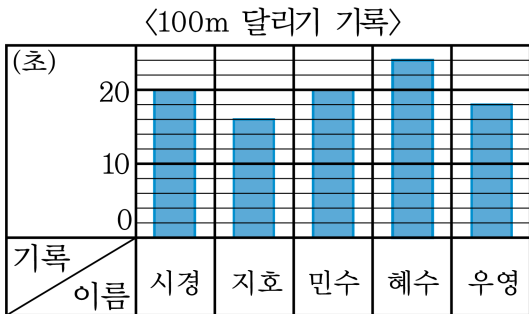


1. 조사한 자료의 항목별 수량의 많고 적음을 비교할 때, 한눈에 쉽게 알아볼 수 있는 것은 표와 막대그래프 중 어느 것입니까?



답: \_\_\_\_\_

2. 시경이네 모둠 학생들의 100m 달리기 기록을 조사하여 나타낸 막대그래프입니다.



민수보다 더 느리게 달린 학생은 누구입니까?



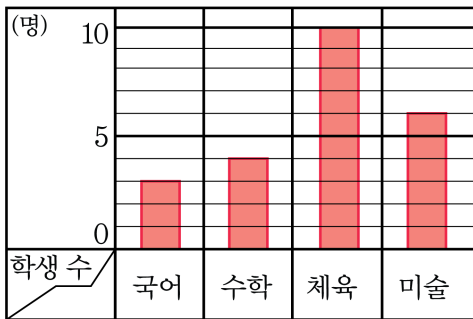
답: \_\_\_\_\_

3. 학생들이 좋아하는 과목을 조사하여 나타낸 표와 막대그래프입니다.

<좋아하는 과목>

과목	국어	수학	체육	미술	계
학생 수(명)	3	4	10	6	23

<좋아하는 과목>



가장 많은 학생들이 좋아하는 과목을 차례로 알아보려면, 표와 막대 그래프 중에서 어느 것이 편리한지 쓰시오.



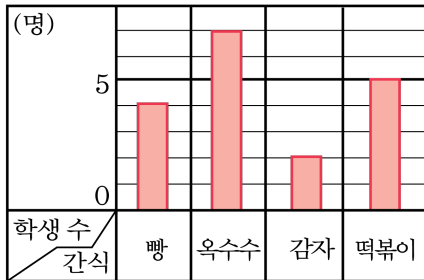
답: \_\_\_\_\_

4. 지숙이네 모둠 학생들이 좋아하는 간식을 나타낸 표와 막대그래프입니다. 여러 항목의 수량의 많고 적음을 한 눈에 알아보기 편리한 것은 표와 막대그래프 중 어느 것입니까?

〈좋아하는 간식〉

간식	학생 수(명)
빵	4
옥수수	7
감자	2
떡볶이	5
계	18

〈좋아하는 간식〉



▶ 답: \_\_\_\_\_

5. 효진은 친구들이 컴퓨터로 주로 하는 일이 무엇인지에 대해 조사하고 있습니다. 조사한 자료에서 학생들이 컴퓨터로 주로 하는 일을 순서대로 한눈에 비교하려면 표와 막대그래프 중 어떤 것을 그려야 하는지 쓰시오.



답: \_\_\_\_\_

6. 규현이와 친구 4명의 일주일 동안의 용돈을 조사하여 용돈을 많이 받는 학생부터 차례로 한눈에 알아보려면 표와 막대그래프 중 어떤 것을 그려야 하는지 쓰시오.



답: \_\_\_\_\_

7. 광수는 친구들이 생일날 받고 싶은 선물을 조사했습니다.

<생일별 받고 싶은 선물>

선물	장난감	옷	자전거	게임기	컴퓨터	계
사람 수(명)	3	2	4	6	5	20

<생일날 받고 싶은 선물>

(명)						
	5					
0						
사람 수						
선물						

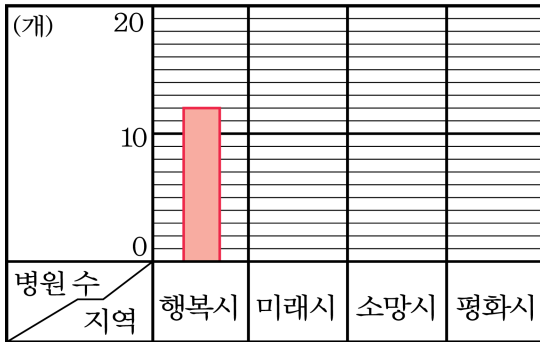
위의 표를 막대그래프로 나타내시오.

8. 지역별 병원의 수를 조사한 표입니다. 표를 보고 막대그래프를 완성하십시오.

<지역별 병원의 수>

지역	행복시	미래시	소망시	평화시	합계
병원 수(개)	12	9	14	17	52

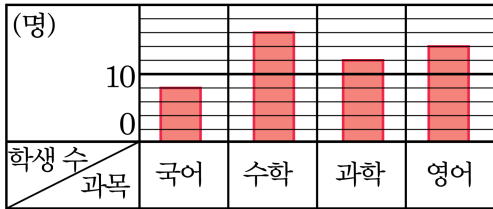
<지역별 병원 수>





9. 수진이네 반 학생들이 좋아하는 과목을 조사하여 나타낸 막대그래프입니다.

〈과목별 좋아하는 학생 수〉



과학을 좋아하는 학생은 국어를 좋아하는 학생보다 몇 명 더 많습니까?

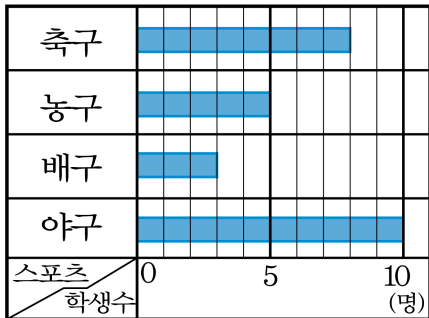


답:

명

10. 다음 중 설명이 틀린 것은 어느 것입니까?

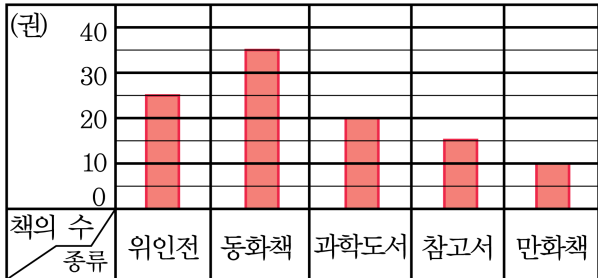
〈좋아하는 스포츠별 학생 수〉



- ① 가로는 학생 수를 나타냅니다.
- ② 세로는 스포츠를 나타냅니다.
- ③ 가로 눈금 한 칸은 1명을 나타냅니다.
- ④ 축구를 좋아하는 학생은 7명입니다.
- ⑤ 야구를 좋아하는 학생은 10명입니다.

11. 명수네 반 학급 문고에 있는 책을 종류별로 조사하여 막대그래프로 나타낸 것입니다.

〈학급 문고 책의 수〉

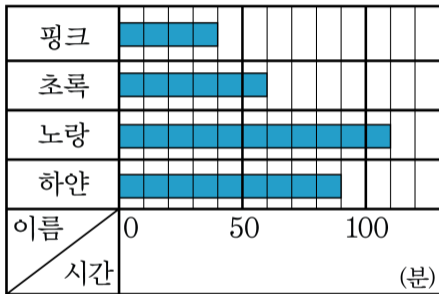


세로 눈금 한 칸은 몇 권을 나타내는지 구하시오.

> 답: \_\_\_\_\_ 권

12. 핑크와 친구들이 책을 읽은 시간을 조사하여 나타낸 막대그래프입니다.

〈책을 읽은 시간〉

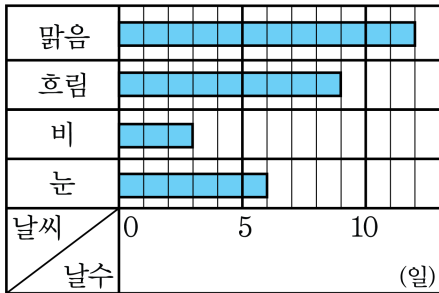


하얀이와 초록이가 책을 읽은 시간의 총합은 몇 시간 몇 분입니까?

- ① 1시간 30분      ② 1시간 40분      ③ 2시간 30분  
 ④ 2시간 40분      ⑤ 3시간 30분

13. 어느 달의 날씨를 조사하여 나타낸 막대그래프입니다.

〈어느 달의 날씨〉



맑은 날은 눈온 날의 몇 배인지 쓰시오.

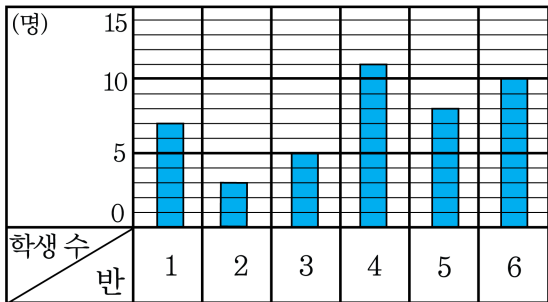


답:

배

14. 일주일동안 4학년 각 반의 지각한 학생 수를 조사하여 나타낸 막대그래프입니다. 일주일 동안 지각한 4학년 학생은 모두 몇 명인지 쓰시오.

〈일주일 동안 지각한 학생 수〉



답:

명

\_\_\_\_\_

15. 희수네 학교 학생들이 좋아하는 음식을 조사한 표입니다.

<좋아하는 음식별 학생 수>

음식	떡볶이	김밥	떡국	볶음밥	합계
학생 수(명)	28	16	8	20	72

눈금 한 칸이 4명을 나타내는 막대그래프를 그린다면 떡볶이를 좋아하는 학생은 몇 칸으로 그려야 합니까?

- ① 6칸      ② 7칸      ③ 8칸      ④ 9칸      ⑤ 10칸

16. 과수원에 있는 나무 수를 종류별로 조사하여 나타낸 표입니다. 나무 수를 나타내는 눈금 한 칸의 크기를 5그루로 하여 막대그래프를 그려려고 합니다. 눈금은 적어도 몇 칸이 필요합니까?

<과수원에 있는 나무 수>

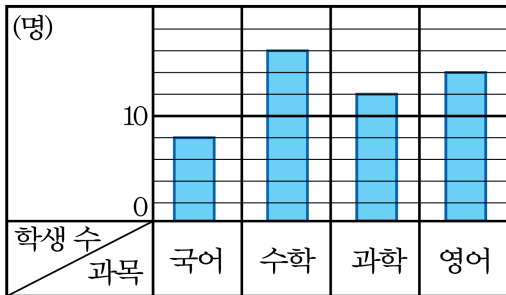
나무	사과	포도	감	배	계
나무 수(그루)	75	50	65	80	270

- ① 14칸      ② 15칸      ③ 16칸      ④ 17칸      ⑤ 18칸



17. 수지네 반 학생들이 과목별 좋아하는 학생 수를 조사하여 나타낸 막대그래프입니다.

〈과목별 좋아하는 학생 수〉



가장 많은 학생들이 좋아하는 과목과 가장 적은 학생들이 좋아하는 과목의 학생 수의 차는 몇 명인지 구하시오.

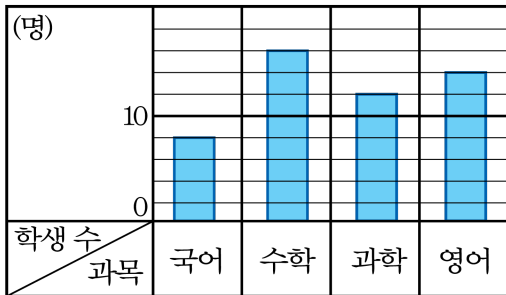


답:

명

18. 수지네 반 학생들이 과목별 좋아하는 학생 수를 조사하여 나타낸 막대그래프입니다.

〈과목별 좋아하는 학생 수〉



수학을 좋아하는 학생은 국어를 좋아하는 학생보다 몇 명 더 많은지 구하시오.



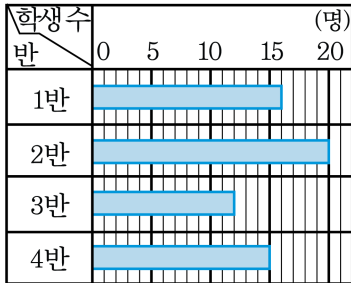
답:

명

\_\_\_\_\_

19. 봉사 활동에 참가한 학생이 가장 많은 학급은 몇 반인지 구하시오.

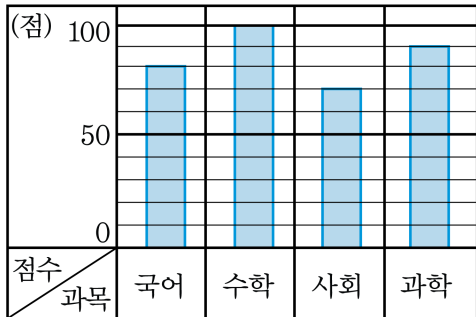
〈봉사 활동에 참가한 학생 수〉



▶ 답: \_\_\_\_\_ 반

20. 명수의 과목별 시험 점수를 나타낸 막대그래프입니다.

〈과목별 시험 점수〉



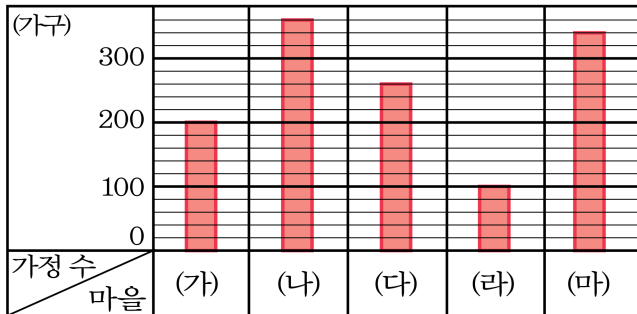
명수는 어떤 과목을 가장 잘한다고 할 수 있는지 쓰시오.



답: \_\_\_\_\_

21. 마을별로 초등학생이 있는 가정 수를 조사하여 나타낸 표입니다.

〈마을별 초등학생이 있는 가정 수〉



초등학생이 있는 가정을 대상으로 설문조사를 할 때, 많은 자료를 얻기 위해서는 어느 마을을 방문하는 것이 좋겠습니까?

① (가)마을

② (나)마을

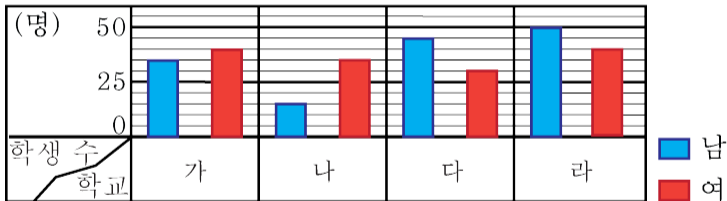
③ (다)마을

④ (라)마을

⑤ (마)마을

22. 미술 대회에 참가한 학생수를 조사하여 학교별로 나타낸 막대그래프입니다.

〈미술 대회 참가 학생 수〉



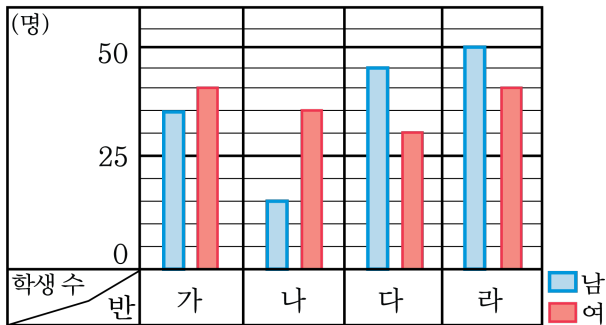
참가한 학생 수가 가장 많은 학교는 어느 학교입니까?



답: \_\_\_\_\_

23. 미술대회에 참가한 학생수를 조사하여 학교별로 나타낸 막대그래프입니다.

〈미술 대회에 참가한 학생 수〉



(나) 학교에서 참가한 여학생의 수보다 많은 남학생이 참가한 학교는 어느 학교인지 모두 고르면?

- ① 가, 다    ② 가, 라    ③ 다    ④ 다, 라    ⑤ 없음