




1. 에 알맞은 수를 차례대로 써넣으시오.

$$9500 - ( \quad ) - ( \quad ) - 9800 - 9900 - ( \quad )$$

 답: \_\_\_\_\_

 답: \_\_\_\_\_

 답: \_\_\_\_\_

2. 다음과 같은 규칙으로 뛰어 세면 어떤 수가 되겠습니까?

50만부터 20만씩 5번 뛰어서 셀 수

- ① 70 만                      ② 90 만                      ③ 150 만  
④ 110 만                      ⑤ 130 만

3. 뛰어세기를 하여 안에 알맞은 수를 차례대로 쓴 것은 어느 것입니까?

(1)	<input type="text"/>	- 210조 -	<input type="text"/>	- 310조 -	<input type="text"/>
(2)	<input type="text"/>	- 8000억 - 9000억 -	<input type="text"/>	- <input type="text"/>	- <input type="text"/>

- ① (1)150조, 250조, 350조 (2) 7000억, 1조, 1조 1000억, 1조 2000억
- ② (1)160조, 260조, 360조 (2) 7000억, 1조, 1조 1000억, 1조 2000억
- ③ (1)160조, 260조, 360조 (2) 7000억, 1조, 1조 2000억, 1조 4000억
- ④ (1)170조, 270조, 370조 (2) 7000억, 1조, 1조 1000억, 1조 2000억
- ⑤ (1)160조, 260조, 360조 (2) 7000억, 1조, 1조 2000억, 1조 4000억

4. 두 수의 크기를 비교하여 ○안에 >, <를 알맞게 나타낸 것은 어느 것입니까?

- |  |
|--|
| (1) $24870 \bigcirc 20000 + 4000 + 700 + 80$     |
| (2) $62409 \bigcirc 60000 + 2000 + 400 + 10 + 9$ |
| (3) $32854 \bigcirc 30000 + 8000 + 200 + 50 + 4$ |

① >, <, >

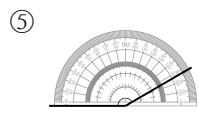
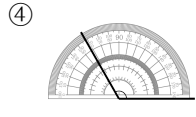
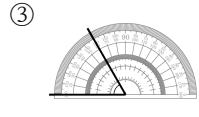
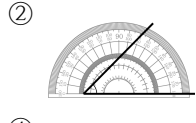
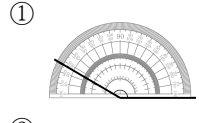
② >, <, <

③ <, >, <

④ <, >, >

⑤ >, >, <

5. 다음 중 각도를 재는 방법이 옳은 것은 어느 것입니까?



6. 다음 곱셈을 하고, 곱이 큰 수부터 그 기호를 쓴 것은 어느 것입니까?

$$\begin{array}{r} \text{㉠} \quad 365 \\ \times \quad 46 \\ \hline \end{array} \quad \begin{array}{r} \text{㉡} \quad 364 \\ \times \quad 47 \\ \hline \end{array} \quad \begin{array}{r} \text{㉢} \quad 363 \\ \times \quad 48 \\ \hline \end{array} \quad \begin{array}{r} \text{㉣} \quad 362 \\ \times \quad 49 \\ \hline \end{array}$$

- ① ㉠, ㉡, ㉢, ㉣      ② ㉡, ㉢, ㉠, ㉣      ③ ㉢, ㉣, ㉠, ㉡  
④ ㉢, ㉣, ㉡, ㉠      ⑤ ㉢, ㉣, ㉡, ㉠

7. 다음 중 나머지가 가장 큰 것은 어느 것인지 고르시오.

①  $901 \div 28$

②  $680 \div 31$

③  $708 \div 52$

④  $786 \div 42$

⑤  $664 \div 35$

8. 다음 중 17로 나누었을 때 나머지가 될 수 없는 수는 어느 것입니까?

- ① 17      ② 12      ③ 9      ④ 5      ⑤ 3



9. 다음 중 8이 나타내는 수가 가장 큰 것은 어느 것인가?

① 8945억

② 4120조 8백억 4950만

③ 8675369000

④ 38723104750000

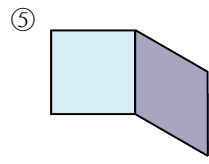
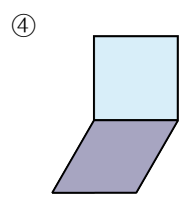
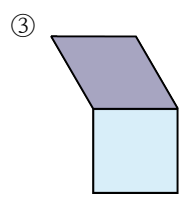
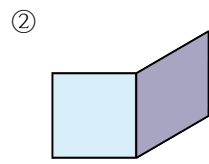
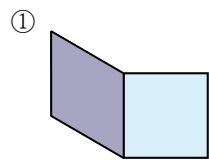
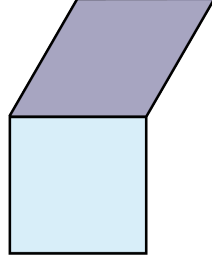
⑤ 3217895416000000

10. 다음을 큰 수부터 차례로 바르게 나타낸 것은 어느 것입니까? (□에는 0에서 9까지 어느 수를 넣어도 됩니다.)

- ㉠ 103□5784□4762□47
- ㉡ 868□6783□673278□
- ㉢ 9□3□3475□623□4
- ㉣ □672621□2□980

- ① ㉡, ㉢, ㉣, ㉣
- ② ㉡, ㉣, ㉢, ㉣
- ③ ㉣, ㉢, ㉣, ㉣
- ④ ㉣, ㉡, ㉢, ㉣
- ⑤ ㉡, ㉣, ㉢, ㉣

11. 도형을 아래쪽으로 6번 뒤집고 시계 방향으로 180°만큼 3번 돌렸을 때의 도형은 어느 것입니까?



12. 과수원에 있는 나무 수를 종류별로 조사하여 나타낸 표입니다. 나무 수를 나타내는 눈금 한 칸의 크기를 5그루로 하여 막대그래프를 그려려고 합니다. 눈금은 적어도 몇 칸이 필요합니까?

<과수원에 있는 나무 수>

나무	사과	포도	감	배	계
나무 수(그루)	75	50	65	80	270

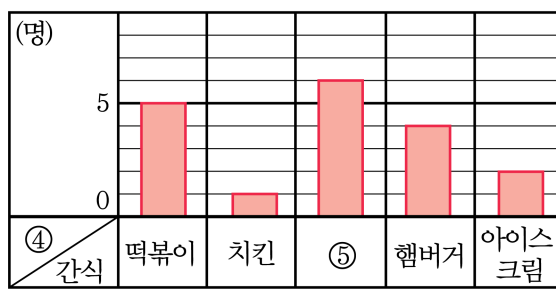
- ① 14칸    ② 15칸    ③ 16칸    ④ 17칸    ⑤ 18칸

13. 형돈이네 반 학생들이 좋아하는 간식을 조사하여 표와 막대그래프로 나타낸 것입니다. 빈칸을 잘못 채운 것을 고르면?

<좋아하는 간식>

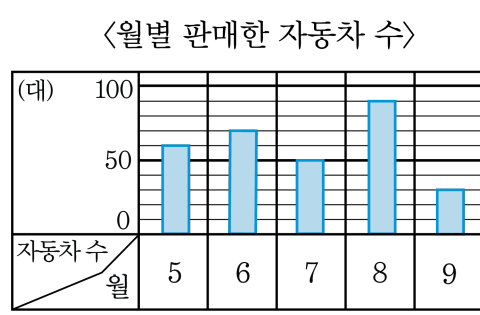
간식	①	치킨	피자	햄버거	아이스크림	계
학생 수(명)	5	②	6	4	2	③

<좋아하는 간식>



- ① 떡볶이                      ② 1                              ③ 20  
 ④ 학생 수                      ⑤ 피자

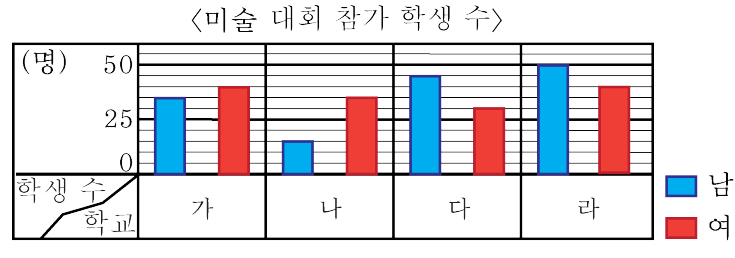
14. 어느 자동차 회사에서 월별 판매한 자동차 수를 조사하여 나타낸 막대그래프입니다.



자동차를 가장 많이 판매한 달부터 차례대로 쓴 것을 고르면 무엇입니까?

- ① 6월, 8월, 5월, 9월, 7월      ② 8월, 6월, 5월, 9월, 7월  
 ③ 6월, 8월, 5월, 7월, 9월      ④ 8월, 6월, 5월, 7월, 9월  
 ⑤ 8월, 5월, 6월, 7월, 9월

15. 미술 대회에 참가한 학생수를 조사하여 학교별로 나타낸 막대그래프입니다.



참가한 학생 수가 가장 많은 학교는 어느 학교입니까?

▶ 답: \_\_\_\_\_

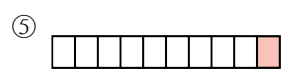
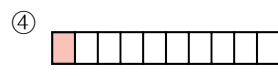
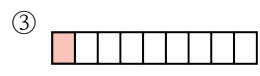
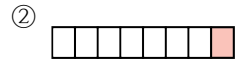
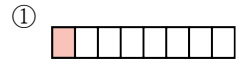
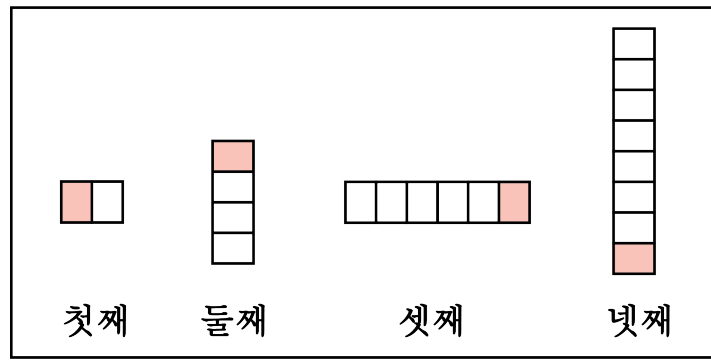
16. 다음 수 배열표의 색칠된 칸의 규칙으로 알맞은 것은 어느 것입니까?

1102	1202	1302	1402
2102	2202	2302	2402
3102	3202	3302	3402
4102	4202	4302	4402

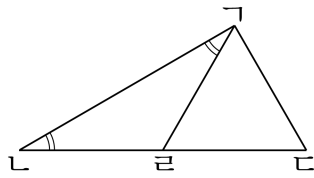
- ① 10씩 커집니다.
- ② 100씩 커집니다.
- ③ 110씩 커집니다.
- ④ 1000씩 커집니다.
- ⑤ 1100씩 커집니다.



17. 도형의 배열에서 다섯째에 알맞은 도형은 어느 것입니까?

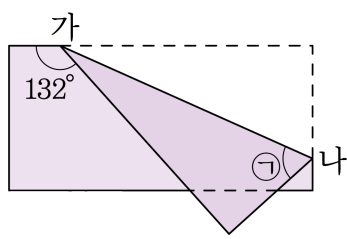


18. 다음 그림에서 삼각형  $\triangle ABC$ 는 정삼각형이고, 각  $\angle A$ 와 각  $\angle C$ 의 크기는 같습니다. 각  $\angle B$ 는 각  $\angle A$ 의 몇 배인지 구하시오.



▶ 답: \_\_\_\_\_ 배

19. 다음 그림은 직사각형을 선분 가나를 접는 선으로 접은 것입니다. 각 ㉠의 크기를 구하시오.



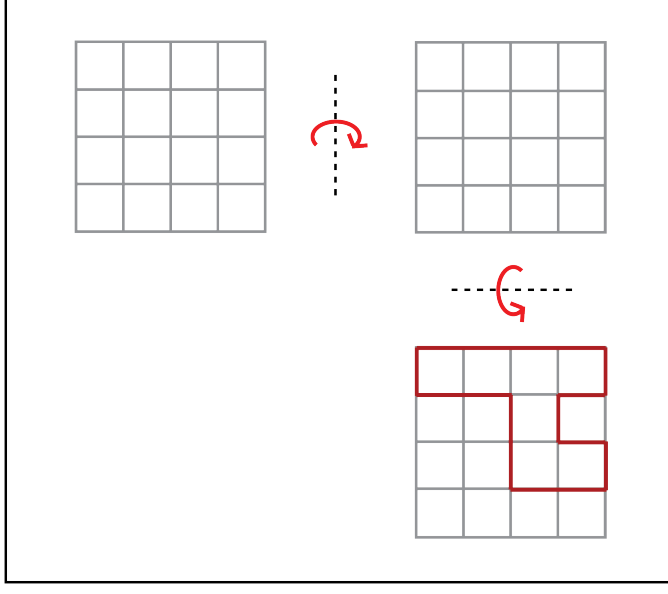
▶ 답: \_\_\_\_\_ °

20. 다음 6 장의 숫자 카드를 한 번씩 사용하여 가장 큰 세 자리 수와 가장 작은 세 자리 수를 만들어, 두 수의 곱을 구하시오.

2 7 3 0 5 9

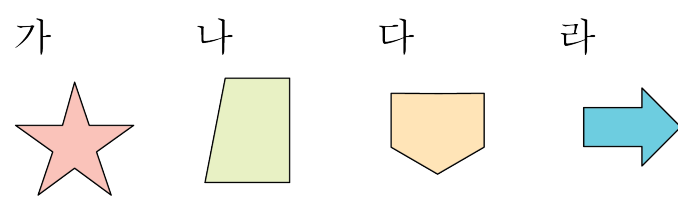
▶ 답: \_\_\_\_\_

21. 다음과 같이 어떤 도형을 오른쪽으로 뒤집은 다음 다시 아래쪽으로 뒤집었습니다. 원래의 모양은 어느 것입니까?



- ①
- ②
- ③
- ④
- ⑤

22. 다음 도형 중에서 왼쪽으로 뒤집었을 때의 도형이 처음 도형과 같은 것을 모두 찾아 기호를 쓰시오.



답: \_\_\_\_\_

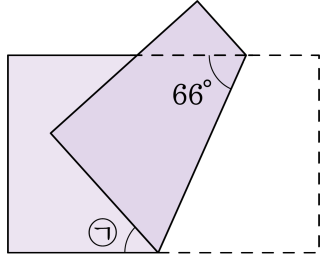
답: \_\_\_\_\_

23. 다음 시각을 가리키는 시계의 시침과 분침이 이루는 작은 각을 예각, 직각, 둔각으로 바르게 구분한 것은 어느 것입니까?

(1) 1시 40분 (2) 4시 30분 (3) 9시

- ① (1) 예각 (2) 예각 (3) 직각
- ② (1) 예각 (2) 둔각 (3) 둔각
- ③ (1) 둔각 (2) 둔각 (3) 직각
- ④ (1) 둔각 (2) 예각 (3) 직각
- ⑤ (1) 둔각 (2) 예각 (3) 둔각

24. 다음 그림과 같이 직사각형을 접었을 때, 각 ㉠의 크기를 구하시오.



▶ 답: \_\_\_\_\_ °



25. 어떤 두 수가 있습니다. 큰 수를 작은 수로 나누면 몫이 17이고, 나머지가 28입니다. 두 수의 합이 586일 때, 작은 수를 구하시오.

▶ 답: \_\_\_\_\_