

1. $\sqrt{a^2} = 4$ 일 때, a 의 값을 구하여라.

① 2

② -2

③ ± 2

④ 4

⑤ ± 4

2. 다음 중 옳지 않은 것은?

① $3\sqrt{3} \times 2\sqrt{2} = 6\sqrt{6}$

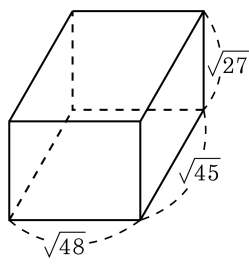
② $\sqrt{5} \times 3\sqrt{5} = 15$

③ $2\sqrt{7} \times 2\sqrt{\frac{3}{7}} = 4\sqrt{3}$

④ $-3\sqrt{2} \times 2\sqrt{\frac{5}{4}} \times -5\sqrt{\frac{2}{5}} = 30$

⑤ $\sqrt{12} \times \sqrt{\frac{5}{6}} \times \sqrt{\frac{3}{2}} = \sqrt{5}$

3. 다음 직육면체의 모서리의 길이의 합을 구하여라.



▶ 답: _____

4. $4mx - 6my$ 의 인수를 모두 찾으면?

① $2x - y$

② $2x - 6my$

③ $2m$

④ $2x - 3y$

⑤ $4my - 3y$

5. 다음 중 완전제곱식으로 인수분해할 수 없는 것은?

① $x^2 - 16x + 64$

② $4x^2 - 4x + 1$

③ $x^2 + 8xy + 16y^2$

④ $x^2 + \frac{1}{2}x + 1$

⑤ $2x^2 - 4xy + 2y^2$

6. 식 $x^2 + 6x - 16$ 을 인수분해하면?

① $(x-1)(x+16)$

② $(x+1)(x-16)$

③ $(x-2)(x+8)$

④ $(x+2)(x-8)$

⑤ $(x-4)(x+4)$

7. 다음 식 $15x^2 + 11x - 12$ 을 인수분해하면?

① $(5x - 3)(3x + 4)$

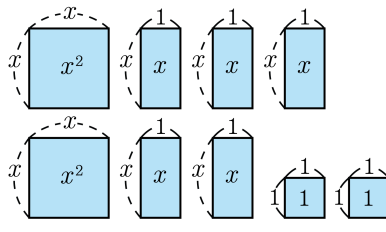
② $(5x - 3)(3x - 4)$

③ $3(5x - 4)(x + 1)$

④ $(5x - 12)(3x + 1)$


⑤ $(5x + 12)(3x - 1)$

8. 다음과 같은 대수막대를 모두 이용하여 하나의 큰 직사각형을 만들 때, 그 직사각형의 둘레의 길이를 구하면?



- ① $2x + 1$ ② $3x + 5$
 ③ $5x + 10$ ④ $6x + 6$
 ⑤ $6x + 20$

9. $57^2 - 63^2 - 188^2 + 212^2$ 을 계산하여라.

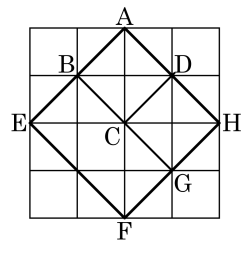
 답: _____

10. $a + b = 2$, $a^2 - b^2 = 10$ 일 때, $a - b$ 의 값을 구하여라.

▶ 답: $a - b =$ _____

11. 다음 그림에서 AEFH의 넓이가 8일 때, \overline{AH} 는?

- ① 8 ② $\sqrt{8}$ ③ $\sqrt{2}$
 ④ $\sqrt{3}$ ⑤ $\sqrt{5}$



12. 다음 중 근호를 꼭 사용하여야만 나타낼 수 있는 제곱근은?

① $-\sqrt{4}$


② $\pm\sqrt{11}$

③ $\sqrt{25}$

④ $\pm\sqrt{100}$

⑤ 0

13. $a < 0$ 일 때, $\sqrt{(-7a)^2}$ 을 간단히 나타내어라.

 답: _____

14. $\sqrt{36} - \sqrt{(-5)^2} + \sqrt{81} \times \sqrt{\frac{4}{9}}$ 를 간단히 하면?

① 3


② 7

③ 10

④ 15

⑤ 17

15. 18 에 자연수 a 를 곱하여 $\sqrt{18a}$ 가 자연수가 되도록 할 때, a 의 값 중 가장 작은 수를 구하여라.

 답: _____

16. 다음 ○ 안에 들어갈 < 의 개수를 x , > 의 개수를 y 라 할 때, xy 를 구하여라.

보기

㉠ $\sqrt{2} \circ 1$

㉡ $1.5 \circ \sqrt{2}$

㉢ $-\sqrt{5} \circ -\sqrt{3}$

㉣ $\sqrt{0.1} \circ \sqrt{\frac{2}{5}}$

㉤ $3\sqrt{3} \circ 5$

㉥ $\sqrt{0.01} \circ \sqrt{0.1}$

▶ 답: _____

17. 다음에서 제곱근이 유리수인 것을 모두 고른 것은?

㉠ 12	㉡ $\frac{9}{25}$	㉢ 0.4
㉣ 0.049	㉤ $\frac{3}{5}$	㉥ 0.01

① ㉠, ㉢

② ㉢, ㉣

③ ㉢, ㉣, ㉥

④ ㉠, ㉢, ㉥

⑤ ㉠, ㉢, ㉣

18. 다음 중 무리수에 대한 설명이 아닌 것을 모두 고르면? (정답 2개)

- ① 순환하지 않는 무한소수 ② 분수로 나타낼 수 없는 수
- ③ 유한소수 ④ 순환소수
- ⑤ 유리수가 아닌 수

19. 다음 두 실수의 대소를 비교한 것 중 틀린 것은?

① $7 < \sqrt{50}$

② $\sqrt{15} < 4$

③ $2 + \sqrt{6} > \sqrt{6} + \sqrt{3}$

④ $\sqrt{15} + 1 > 4$

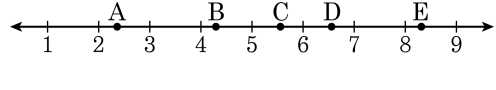
⑤ $\sqrt{2} + 1 < 2$

20. 다음 세 수 a, b, c 의 대소 관계를 올바르게 나타낸 것은?

$$a = \sqrt{3} + 3, b = 5 - \sqrt{2}, c = 4$$

- ① $a < b < c$ ② $b < a < c$ ③ $b < c < a$
④ $c < a < b$ ⑤ $c < b < a$

21. 다음 수직선에서 C에 해당하는 실수는?



- ① $\sqrt{12}$ ② $\sqrt{17}$ ③ $\sqrt{31}$ ④ $\sqrt{39}$ ⑤ $\sqrt{52}$

22. $\sqrt{\frac{6}{5}} \div \sqrt{2} \times \sqrt{\frac{20}{3}}$ 을 간단히 하여라.

▶ 답: _____

23. $\sqrt{72} + 2\sqrt{8} - \sqrt{50} = a\sqrt{2}$ 에서 a 의 값을 구하여라.

▶ 답: $a =$ _____

24. $\frac{6}{\sqrt{12}} + \sqrt{48} \times (-\sqrt{3})^2$ 을 간단히 나타내면?

① $11\sqrt{3}$

② $13\sqrt{3}$

③ $15\sqrt{3}$

④ $-13\sqrt{3}$

⑤ $-15\sqrt{3}$

25. $\sqrt{32} - 2\sqrt{24} - \sqrt{2}(1 + 2\sqrt{3})$ 을 간단히 하면?

- ① $3\sqrt{2} - 6\sqrt{6}$ ② $3\sqrt{2} + 2\sqrt{6}$ ③ $4\sqrt{2} - \sqrt{6}$
④ $4\sqrt{2} + 3\sqrt{6}$ ⑤ $5\sqrt{2} + 3\sqrt{6}$

26. 다음은 $a = \sqrt{5} - 2$, $b = \sqrt{5} - \sqrt{3}$ 의 대소를 비교하는 과정이다. □ 안에 알맞은 부등호를 고르면?

$a \square b$

① \geq

② $>$

③ \leq

④ $<$

⑤ $=$

27. 제곱근표에서 $\sqrt{2} = 1.414$, $\sqrt{20} = 4.472$ 일 때, $\sqrt{0.002}$ 의 값을 구하면?

① 44.72

② 0.1414

③ 0.4472

④ 0.04472

⑤ 0.01414

28. $(x-5+a)(x-4+3a)$ 를 완전제곱식으로 하는 상수 a 의 값을 구하여라.

▶ 답: $a =$ _____

29. $-2 < a < 2$ 일 때, $\sqrt{a^2+4a+4} - \sqrt{a^2-4a+4}$ 를 간단히 하면?

① a

② $2a$

③ 4

④ $a+3$

⑤ $2a+3$

30. 다음은 좌변을 인수분해하여 우변을 얻은 것이다. 옳은 것은?

① $-6ax - 2bx = -6x(a + 2b)$


② $ax^2 + ay = a(x + y)$

③ $a(x + y) - b(x + y) = (x + y) - ab$

④ $-4x^2 + 16y^2 = -4(x + 2y)(x - 2y)$

⑤ $x(2a - b) + 2y(2a - b) - z(2a - b) = (2a - b)(x - 2y) - z$

31. $x^2 - 4x + 3$ 과 $2x^2 - 3x - 9$ 의 공통인 인수를 구하여라.

 답: _____

32. 다항식 $(x+4)(x-2)-7$ 은 두 일차식의 곱으로 나타낼 수 있다. 이때, 두 일차식의 합을 구하면?

① $2x+8$

② $2x+2$

③ $2x+1$

④ $2x-6$

⑤ $2x-8$

33. 다음 x 에 대한 이차식에서 인수가 $(x+1), (2x-5)$ 일 때, $A-B$ 의 값을 구하여라.

$$Ax^2 - 3x + B$$

▶ 답: $A-B =$ _____

34. 인수분해와 $x + y = 3.1$, $x - y = 11$ 임을 이용하여 $(x^2 - 4x + 4) - (y^2 - 2y + 1)$ 의 값을 구하여라.

▶ 답: _____

35. $x^2 - y^2 + 4yz - 4z^2$ 을 인수분해하였더니
 $(x + ay + bz)(x - y + cz)$ 가 되었다. 이때 $a + b + c$ 의 값은?

- ① -1 ② 1 ③ 2 ④ 3 ⑤ 4

36. $a > 0, b < 0$ 일 때, $\sqrt{(2a)^2} + \sqrt{(-a)^2} - \sqrt{(5b)^2}$ 을 간단히 하면?

① $a - 5b$

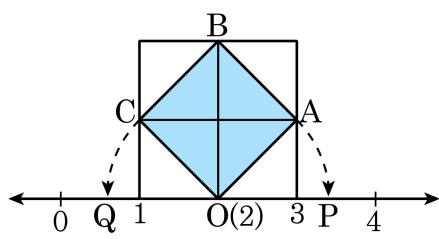
② $a + 5b$

③ $3a - 5b$

④ $3a + 5b$

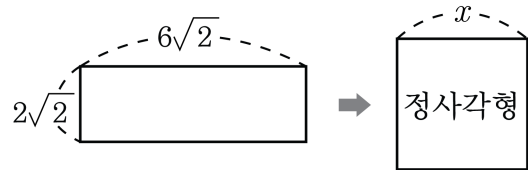
⑤ $5a - 5b$

37. 다음 그림은 한 변의 길이가 2인 정사각형의 각 변의 중점을 연결하여 $\square OABC$ 를 그린 것이다. $\overline{OA} = \overline{OP}$, $\overline{OC} = \overline{OQ}$ 일 때, 점 P, Q의 좌표를 각각 a, b 라고 할 때, $a+b$ 의 값을 구하여라.



▶ 답: $a+b =$ _____

38. 가로 길이가 $6\sqrt{2}$ 이고, 세로 길이가 $2\sqrt{2}$ 인 직사각형과 넓이가 같은 정사각형의 한 변의 길이 x 를 $a\sqrt{b}$ 의 꼴로 나타내어라. (단, b 는 제곱인 인수가 없는 자연수)



▶ 답: _____

39. $\sqrt{6} \times \sqrt{40} \div \sqrt{96} \times \sqrt{150} = 5\sqrt{a}$ 일 때, a 를 구하여라.

▶ 답: $a =$ _____

40. 다음 보기의 네 개의 수를 작은 순서부터 나열할 때, 바르게 나타낸 것은?

보기

㉠ $\sqrt{0.28}$	㉡ $\frac{\sqrt{7}}{2}$
㉢ $\sqrt{\frac{14}{18}}$	㉣ $\sqrt{\frac{7}{169}}$

- ① ㉡<㉢<㉣<㉠ ② ㉡<㉠<㉢<㉣ ③ ㉡<㉠<㉣<㉢
 ④ ㉢<㉡<㉠<㉣ ⑤ ㉣<㉢<㉠<㉡

41. 유리수 a, b 에 대하여 " $a + b\sqrt{2} = 0$ 이면 $a = b = 0$ 이다."라는 성질을 이용하여 $x(1 + 2\sqrt{2}) + y(3 + 5\sqrt{2}) = \sqrt{2} - 6$ 을 만족시키는 두 유리수 x, y 에 대하여 $x + y$ 의 값을 구하는 과정이다. 빈칸에 알맞은 수로 바르게 짝지어진 것은?

풀이과정

$$x(1 + 2\sqrt{2}) + y(3 + 5\sqrt{2}) = \sqrt{2} - 6$$

좌변으로 이항하여 정리하면

$$x + 3y + 6 + (2x + 5y - 1)\sqrt{2} = 0$$

문제에 주어진 성질에 의하여

$$x + 3y + 6 = 0 \cdots \text{㉠}$$

$$2x + 5y - 1 = 0 \cdots \text{㉡}$$

이 두 식을 연립하여 풀면

$$x = \square, y = \square$$

$$\text{따라서, } x + y = \square$$

- ① $x = 13, y = 33, x + y = 20$
 ② $x = 23, y = -13, x + y = 10$
 ③ $x = -33, y = 13, x + y = -20$
 ④ $x = 33, y = -13, x + y = 20$
 ⑤ $x = 33, y = 13, x + y = 43$

42. $\frac{\sqrt{2}-\sqrt{3}}{\sqrt{2}+\sqrt{3}} - \frac{\sqrt{2}+\sqrt{3}}{\sqrt{2}-\sqrt{3}}$ 를 계산하면?

- ① $4\sqrt{6}$ ② $4\sqrt{2}$ ③ $4\sqrt{3}$ ④ $2\sqrt{6}$ ⑤ $3\sqrt{6}$

43. 다항식 $(a+b)^2 - (a+b)a - 2a^2$ 을 다항식 두 개의 곱으로 나타낼 때 두 식을 다음 중에서 고르면?

① $(2a-b)$

② $(b-a)$

③ $(a+b)$

④ $(2a+b)$

⑤ $2a$

44. $x+a=2$, $x-a=7$ 일 때, $x^3-a^3+ax^2-a^2x$ 는?

① 14

② 20

③ 24

④ 28

⑤ 32


45. $x^2 - 9y^2 - 2x + 18y - 8$ 을 인수분해하면?

① $(x - 3y + 2)(x + 3y + 4)$ ② $(x - 3y + 2)(x + 3y - 4)$

③ $(x + 3y + 2)(x + 3y - 4)$ ④ $(x - 5y + 2)(x + 3y - 4)$

⑤ $(x - 3y + 4)(x + 3y - 2)$

46. $-2 < x < 3$ 일 때, $\sqrt{(x+2)^2} - \sqrt{(x-3)^2} + 2|3-x|$ 를 간단히 하여라.

 답: _____


47. $\sqrt{90-x} - \sqrt{7+x}$ 의 값이 가장 큰 자연수가 되도록 하는 자연수 x 의 값은?

- ① 5 ② 9 ③ 15 ④ 26 ⑤ 30

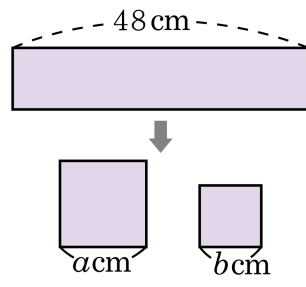
48. 다음의 두 식 A , B 에 대하여 $A+B$ 를 계산하여라.

$$A = \sqrt{(3 - \sqrt{10})^2} - \sqrt{(\sqrt{10} - 3)^2}$$

$$B = \sqrt{(3 - 2\sqrt{2})^2} + \sqrt{(2\sqrt{2} - 2)^2}$$

 답: _____

49. 다음 그림과 같이 48 cm 인 끈을 적당히 두 개로 잘라 한 변의 길이가 각각 a cm 와 b cm 인 정사각형 두 개를 만들었다. 이 때, 두 정사각형의 넓이의 합이 74 cm^2 일 때, 넓이의 차를 구하여라. (단, $a > b > 0$)



▶ 답: _____ cm^2

50. $x = 3 + \sqrt{8}$, $y = 3 - \sqrt{8}$ 일 때, $(x^n + y^n)^2 - (x^n - y^n)^2$ 의 값은?(단, n 은 양의 정수)

- ① 1 ② 2 ③ 3 ④ 4 ⑤ 5