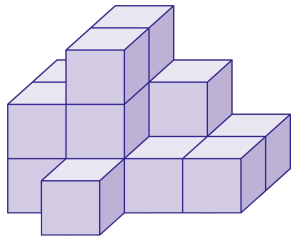


1. 왼쪽 그림과 같은 모양을 쌓는 데 필요한 쌓기나무의 개수를 위에서 본 모양 위에 나타낸 것 중 옳은 것은 어느 것입니까?



①

2	3	1	2
1	2	1	1
	1		

②

2	3	2
2	3	1
		1

③

2	3	2
2	3	1
1		

④

2	3	2	1
2	3	1	1
		1	

⑤

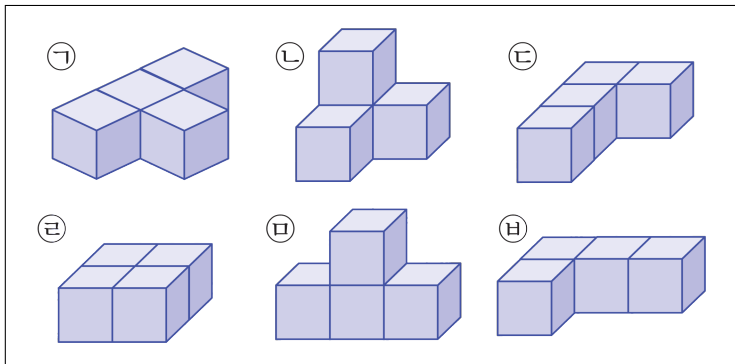
2	3	2	1
2	3	1	2
		1	

해설

④

2	3	2	1
2	3	1	1
		1	

2. 다음 중 같은 쌓기나무를 바르게 짝지은 것은 어느 것입니까?



① ㉠,㉢

② ㉢,㉤

③ ㉡,㉤

④ ㉢,㉥

⑤ ㉠,㉥

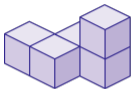
해설

그림 중에 같은 쌓기나무는 ㉠, ㉤과 ㉢, ㉥입니다.

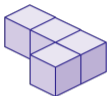
→ ④

3. 다음 중 쌓기나무의 개수가 다른 것은 어느 것입니까?

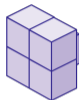
①



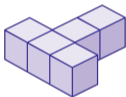
②



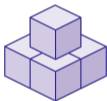
③



④



⑤



해설

①, ③, ④, ⑤는 쌓기나무가 5개씩이고,
②는 4개입니다.