


1. $x = 2, y = -1$ 일 때, $2(x^2 - 3x) - 3x(x + y) + x^2$ 의 값을 구하여라.

 답: _____

2. $x(-2x+5y-1)-2xy(x+3y+4)$ 를 간단히 하였을 때, xy 의 계수를 구하면?

- ① -8 ② -3 ③ 3 ④ 9 ⑤ 15

3. $a = 3, b = \frac{1}{2}$ 일 때, $(2ab)^2 \times (-12ab^3) \div 3a^2b$ 의 값은?

- ① 3 ② -3 ③ 6 ④ -6 ⑤ 12


4. 윗변의 길이가 a , 아랫변의 길이가 b , 높이가 h 인 사다리꼴의 넓이를 S 라 할 때, $S = \frac{1}{2}(a+b)h$ 이다. 이 식을 a 에 관하여 풀면?

① $a = \frac{2S}{h} - b$ ② $a = 2S - \frac{b}{h}$ ③ $a = \frac{1}{2}(Sh - b)$
④ $a = \frac{2S - b}{h}$ ⑤ $a = \frac{2S}{b+h}$

5. 다음 설명 중 옳은 것은?

- ① 유리수는 $\frac{b}{a}$ 꼴로 나타낼 수 있다. (a, b 는 정수)
- ② 모든 무한소수는 순환소수이다.
- ③ 정수가 아닌 유리수는 모두 유한소수이다.
- ④ 정수가 아닌 유리수 중에는 순환소수로 나타내어지는 수도 있다.
- ⑤ 유리수는 유한소수와 무한소수로 나뉜다.

6. $72^3 = 2^a \times 3^b$ 일 때, $a - b$ 의 값을 구하여라.

 답: _____

7. $3^3 \div 3^a = 27$, $4^b + 4^b + 4^b + 4^b = 4^3$ 일 때, $a - b$ 의 값은?

- ① -1 ② -2 ③ -3 ④ -4 ⑤ -5

8. $3^{2x} + 3^{2x} + 3^{2x}$ 을 간단히 나타내면?

- ① 3^{x+1} ② 3^{3x} ③ 27^x ④ 3^{2x+1} ⑤ 3^{3x+1}

9. $5^5 \div 5^a = 25$, $5^b + 5^b + 5^b + 5^b + 5^b = 5^4$ 일 때, $a - b$ 의 값은?

① -4

② -2

③ 0


④ 2

⑤ 4

10. $2^{12} \times 5^{13}$ 은 몇 자리의 수인지 구하여라.

▶ 답: _____ 자리의 수

11. $\left(\frac{1}{8}\right)^2 = 2^{x+1} = 4^x \times 2^y$ 를 만족하는 x, y 의 값의 합을 구하여라.

 답: _____

12. $(x-2)(x^2+4)(x+2)$ 을 전개하면?

① $x^2 - 16$

② $x^2 + 4$

③ $x^4 - 4$

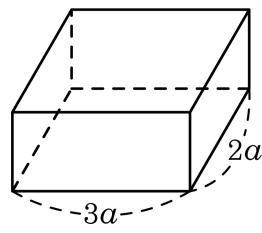
④ $x^4 - 16$

⑤ $x^4 + 4$

13. $(3x - 2y + 1)^2$ 을 전개한 식에서 xy 의 계수를 A , y 의 계수를 B 라 할 때, $A - B$ 의 값은?


- ① 8 ② 4 ③ 0 ④ -4 ⑤ -8

14. 다음 그림과 같이 밑면의 가로 길이가 $3a$, 세로의 길이가 $2a$ 인 직육면체의 부피가 $18a^3 - 15a^2b$ 라고 한다. $a = 6$, $b = 4$ 일 때, 높이를 구하여라.



▶ 답: _____

15. $x = 0.5$ 일 때, $1 + \frac{1}{1 + \frac{1}{x}} = \frac{b}{a}$ 에서 $b - a$ 의 값을 구하여라.

 답: _____

16. $A = x - 2y$, $B = 2x - y + 3$ 일 때, 식 $A - (B - A) - 2B + 5$ 를 x, y 에 관한 식으로 나타내면?

- ① $3x - 3y + 3$ ② $-3x - 4y + 3$ ③ $-4x - y - 4$
④ $-4x - y + 14$ ⑤ $-4x - 7y + 4$

17. $4x + 3y = 2$ 일 때, $5(x - 3y) - 2(4x - 3y)$ 를 x 에 관한 식으로 나타내어라.

▶ 답: _____

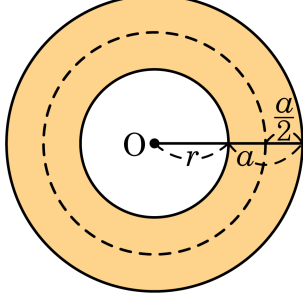
18. $x = 5^3$ 라 할 때, $5^5 - 5^4 + 5^3$ 을 x 에 관한 식으로 나타낸 것은?

- ① $6x$ ② $10x$ ③ $21x$ ④ $25x$ ⑤ $31x$

19. $2(3+1)(3^2+1)(3^4+1)(3^8+1) = 3^a + b$ 일 때, 상수 a, b 의 합 $a+b$ 의 값은?

- ① 15 ② 16 ③ -15 ④ -16 ⑤ 9

20. 다음 그림에서 어두운 부분의 넓이를 a, b 를 써서 나타내면? (단, b 는 점선의 원주의 길이)

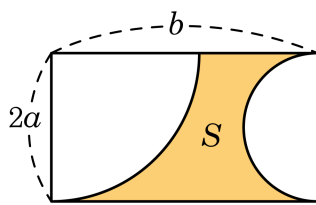


- ① ab ② $2ab$ ③ πab ④ $2\pi ab$ ⑤ $\pi a^2 b^2$

21. $(x-y+2)(x-y+3)-(x+2y-3)^2$ 을 전개하였을 때, 상수항을 제외한 나머지 모든 항의 계수의 총합을 구하면?

- ① -3 ② 6 ③ 9 ④ 15 ⑤ 21

22. 다음 그림의 직사각형에서 색칠한 부분의 넓이를 S 라 할 때, S 의 값은? (단, S 가 아닌 부분은 각각 사분원과 반원이다.)



- ① $2ab - \frac{1}{2}a\pi$ ② $2ab - a^2\pi$ ③ $2ab - \frac{3}{2}a^2\pi$
 ④ $2ab - 2a^2\pi$ ⑤ $2ab - \frac{5}{2}a^2\pi$

23. $A = (24a^4b^5 - 12a^5b^4) \div (-2a^2b)^2$, $B = (8a^3b^4 - 4a^2b^2) \div (-ab)^2$ 일 때, $A - (B + 3C) = ab^2 + 1$ 을 만족하는 식 C 를 구하면?

① $C = b^3 - 2ab^2 - 1$

② $C = b^3 - 4ab^2 - 2$

③ $C = 2b^3 - ab^2 - 1$

④ $C = 2b^3 - 4ab^2 + 1$

⑤ $C = b^3 - ab^2 - 4$

24. $\frac{5a-3b}{3} + \frac{3a+5b}{4} = 2a-b$ 를 a 에 관하여 풀면?

① $a = 3b$

② $a = -3b$

③ $a = \frac{1}{3}b$

④ $a = \frac{3}{b}$

⑤ $a = -\frac{3}{b}$

25. $\frac{1}{a} + \frac{1}{b} = 3$ 일 때, $\frac{a+3ab+b}{a-ab+b}$ 의 값은?

① -3

② -2

③ 0

④ 2

⑤ 3


26. 2개의 반으로 구성된 어떤 학교의 2학년 학생들에 대해서 축구와 농구 중에 구기대회에 하고 싶은 운동을 조사했더니 5 : 4의 비율로 조사되었다. 1반에서 축구와 농구의 비가 8 : 7, 2반에서 축구와 농구의 비가 3 : 2이다. 다음 중 축구를 선택한 학생들에 대하여 2학년의 1반과 2반의 학생 비율을 $a : b$ 의 꼴로 나타낸 것은?

- ① 3 : 2 ② 4 : 3 ③ 5 : 4 ④ 9 : 6 ⑤ 16 : 9


27. $x * y$ 를 $\begin{cases} x = y \text{이면 } 1 \\ x \neq y \text{이면 } -1 \end{cases}$ 이고, $a = 0.3$, $b = 0.3$, $c = \frac{10}{33}$, $d =$

0.29 , $e = \frac{1}{3}$ 일 때, 다음의 값을 구하여라.

$(b * c) * (a * d) * (b * e)$

 답: _____

28. $64^{4x+1} = \left(\frac{1}{4}\right)^{2-13x}$ 일 때, x 의 값을 구하여라.

 답: _____

29. $\frac{3^6 + 3^6 + 3^6}{5^6 + 5^6 + 5^6 + 5^6 + 5^6} \times \frac{4^6 + 4^6 + 4^6 + 4^6}{2^6 + 2^6} = \left(\frac{n}{m}\right)^7$ 일 때, $m+n$ 의 값은? (단, $\frac{n}{m}$ 은 기약분수이다.)

- ① 6 ② 9 ③ 11 ④ 16 ⑤ 17

30. 자연수 n 의 일의 자리숫자를 $R(n)$ 이라고 할 때, $R(2^{97}) \times R(3^{98})$ 을 구하여라.

▶ 답: _____

31. 세 수 a, b, c 에 대하여 $\langle a, b, c \rangle = a^4 b^3 c^2 \div \frac{a^4 b^2 c^3}{4}$ 이라고 정의할 때, $\langle p, 7, 2 \rangle + \langle q, 6, 4 \rangle$ 의 값을 구하여라.

▶ 답: _____

32. $(a+b+c-d)(a-b+c+d) + (a+b-c+d)(-a+b+c+d)$ 를 전개하면?

① $3ac + 3bd$

② $4ac + 4bd$

③ $5ad + 5bc$


④ $4ad - 4bc$

⑤ $5ad - 5bc$

33. $x^2 - 3x + 1 = 0$ 일 때, $x(x+1) + \frac{1}{x}\left(\frac{1}{x} + 1\right)$ 의 값을 구하여라.

▶ 답: _____

34. $\frac{1}{a} + \frac{1}{b} = -2$ 일 때, $\frac{3a-2ab+3b}{2a+3ab+2b}$ 의 값을 구하여라.

 답: _____

35. 0 이 아닌 세 수 x, y, z 에 대하여 $yz = \frac{1}{x}$ 일 때, $\frac{x}{1+x+xy} + \frac{y}{1+y+yz} + \frac{z}{1+z+zx}$ 의 값을 구하여라.

▶ 답: _____