

1. 다음 중 부등식 $4 < \sqrt{x} \leq 5$ 를 만족하는 자연수 x 가 아닌 것은?

- ① 18 ② 20 ③ 22 ④ 24 ⑤ 26

2. 다음 보기 중 주어진 수를 근호 안의 수가 가장 작은 자연수가 되도록 $a\sqrt{b}$ 의 꼴로 나타낸 것으로 옳은 것을 모두 고르시오.

보기

㉠ $\sqrt{27} = 3\sqrt{3}$

㉡ $-\sqrt{44} = -2\sqrt{22}$

㉢ $\sqrt{\frac{7}{25}} = \frac{\sqrt{7}}{5}$

㉣ $-\sqrt{\frac{13}{36}} = -\frac{\sqrt{13}}{3}$

답: _____

답: _____

3. 다음 중 옳은 것은?

① $\sqrt{7} - \sqrt{3} - \sqrt{2} = \sqrt{2}$

② $\sqrt{0.02} \times \sqrt{2} = 0.2$

③ $\sqrt{6} + \sqrt{4} = \sqrt{10}$

④ $3\sqrt{2} \times \sqrt{12} \div \frac{1}{\sqrt{3}} = 6\sqrt{2}$

⑤ $2\sqrt{2} + \sqrt{18} - \sqrt{50} = -2\sqrt{30}$

4. $\frac{\sqrt{5}-2}{\sqrt{5}+2}$ 의 분모를 유리화하면?

① $9+4\sqrt{5}$

② $5+4\sqrt{5}$

③ $9-4\sqrt{5}$

④ $5-4\sqrt{5}$

⑤ $4+5\sqrt{5}$

5. $2 + \sqrt{3}$ 의 소수 부분은?

① $\sqrt{3} - 5$

② $\sqrt{3} - 4$

③ $\sqrt{3} - 3$

④ $\sqrt{3} - 2$

⑤ $\sqrt{3} - 1$

6. $x^2 - 6x + a = (x - b)^2$ 을 만족할 때, ab 의 값을 구하여라.

▶ 답: $ab =$ _____

7. 다항식 $x^2 - 2x - 3$ 을 인수분해하였을 때, 두 일차식 인수의 합은?

① $2x - 2$

② $2x - 1$

③ $2x$

④ $2x + 1$

⑤ $2x + 2$

8. 가로가 $2a - 7$, 넓이가 $8a^2 - 30a + 7$ 인 직사각형의 둘레의 길이를 구하여라.

▶ 답: _____

9. 다음 중 [] 안의 수가 주어진 방정식의 해인 것을 모두 고르면?

① $x^2 - 4x = 3x$ [0]

② $x^2 + 2x - 8 = 0$ [-2]

③ $(x+2)^2 = 9x$ [2]

④ $2x - 7x + 6 = 0$ [2]

⑤ $2x^2 - 15x - 8 = 0$ [8]

10. 다음 중 이차방정식의 해가 모두 양수인 것은?

① $(x-2)(x+3) = 0$

② $x^2 + 2x = 0$

③ $3x^2 + x - 1 = 0$

④ $x^2 - 9x + 14 = 0$

⑤ $2x^2 - 8 = 0$

11. 다음 중 근호를 꼭 사용하여야만 나타낼 수 있는 제곱근은?

① $-\sqrt{4}$

② $\pm\sqrt{11}$

③ $\sqrt{25}$

④ $\pm\sqrt{100}$

⑤ 0

12. $a < 0, b > 0$ 일 때, $-\sqrt{b^2} - \sqrt{a^2}$ 을 간단히 하면?

① $b - a$

② $a - b$

③ $-a - b$

④ $a + b$

⑤ $-a^2 + b^2$

13. a 가 자연수이고 $\sqrt{\frac{18a}{5}}$ 가 정수일 때, a 의 값 중 가장 작은 값은?

① 2


② 3

③ 5

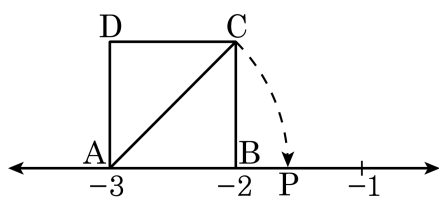
④ 10

⑤ 30

14. $\sqrt{10-x}$ 가 자연수가 되게 하는 모든 x 값의 합을 구하여라.(단, x 는 자연수)

 답: _____

15. 다음 그림에서 $\square ABCD$ 는 한 변의 길이가 1 인 정사각형이고, $\overline{AC} = \overline{AP}$ 이다. 점 P 에 대응하는 수를 $a + \sqrt{b}$ 라고 할 때, 유리수 a, b 의 곱 ab 의 값을 구하여라.



▶ 답: $ab =$ _____

16. $\frac{\sqrt{7}}{2\sqrt{3}}$ 의 분모를 유리화하면 $\frac{\sqrt{21}}{2a}$ 이 된다. 이 때, a 의 값은?

① 1

② 2

③ 3

④ 4

⑤ 5

17. 다음 제곱근표에서 $\sqrt{34.3}$ 의 값을 a , $\sqrt{25.4}$ 의 값을 b 라고 할 때, $a+b$ 의 값을 구하여라.

수	0	1	2	3	4	5
25	5.000	5.010	5.020	5.030	5.040	5.050
26	5.099	5.109	5.119	5.128	5.138	5.148
27	5.196	5.206	5.215	5.225	5.235	5.244
28	5.292	5.301	5.310	5.320	5.329	5.339
29	5.385	5.394	5.404	5.413	5.422	5.431
30	5.477	5.486	5.495	5.505	5.514	5.523
31	5.568	5.577	5.586	5.595	5.604	5.612
32	5.657	5.666	5.675	5.683	5.692	5.701
33	5.745	5.753	5.762	5.771	5.779	5.788
34	5.831	5.840	5.848	5.857	5.865	5.874

▶ 답: $a+b =$ _____

18. 다음 중 $\sqrt{2} = 1.414$ 를 이용하여 제곱근의 값을 구할 수 없는 것은?

① $\sqrt{0.02}$

② $\sqrt{0.5}$

③ $\sqrt{12}$

④ $\sqrt{32}$

⑤ $\sqrt{200}$

19. $12ax^2 - 12axy + 3ay^2$ 을 인수분해하면?

① $12(ax - ay)^2$

② $6a(x - y)^2$


③ $(6ax - ay)^2$

④ $3a(x - y)^2$

⑤ $3a(2x - y)^2$

20. 다음 두 식에 함께 들어있는 공통인 인수를 구하여라.

$$2x^2 - 4x, \quad x^2 - 4$$

 답: _____

21. 다항식 $2x^2 - xy - Ay^2$ 이 $x-2y$ 를 인수로 가질 때, 다음 중 이 다항식의 인수는? (단, A 는 상수)

① $2x - 3y$

② $2x - y$

③ $2x + y$

④ $2x + 3y$

⑤ $2x + 5y$

22. 직사각형의 넓이가 $(a+b)(a+b+1)-30$ 이고, 가로 길이가 $(a+b-5)$ 일 때, 이 직사각형의 세로 길이를 구하면?

① $a+b+2$

② $a-b+6$

③ $a+b-6$

④ $a+b+6$

⑤ $a-b+5$

23. 이차방정식 $(x-1)(x-5) = 4$ 를 $(x+a)^2 = b$ 의 꼴로 고칠 때, $a+b$ 의 값을 구하여라.

▶ 답: _____

24. 다음 보기 중 옳은 것은?

보기

- ㉠ $a > 0$ 일 때, a 의 제곱근을 x 라고 하면 $x^2 = a$ 이다.
- ㉡ 제곱근 9와 9의 제곱근은 서로 같다.
- ㉢ $\sqrt{(-7)^2} + (-\sqrt{3})^2 = 10$
- ㉣ $\sqrt{20}$ 은 $\sqrt{5}$ 의 4배이다.
- ㉤ -7 은 49의 제곱근이다.
- ㉥ $a < 0$ 일 때, $\sqrt{a^2} = -a$ 이다.

▶ 답: _____

▶ 답: _____

▶ 답: _____

▶ 답: _____

25. x 에 관한 이차식 $3x^2 + ax + b$ 를 인수분해하면 $(3x-2)(x+3)$ 이 된다고 한다. 이 때, $a-b$ 의 값을 구하여라.

▶ 답: $a-b =$ _____

26. $f(x) = 4x+2$, $g(x) = 6x^2-5x-4$ 이고, $\frac{g(x)}{f(x)} = ax+b$ 로 나타내어질 때, $2ab$ 의 값은?

- ① -6 ② -2 ③ 1 ④ 2 ⑤ 6

27. $b < 0 < a < 2$ 일 때, 다음 중 옳은 것은?

① $\sqrt{(a-2)^2} = a-2$

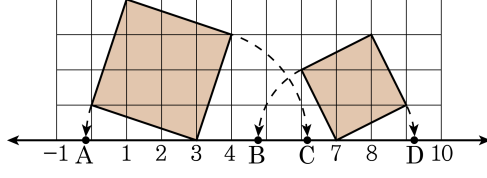
② $\sqrt{(2-a)^2} = a-2$

③ $\sqrt{(a-b)^2} + \sqrt{(b-a)^2} = 0$

④ $\sqrt{b^2} + |b| = -2b$

⑤ $\sqrt{(b-2)^2} = b-2$

28. 다음 그림의 수직선 위의 점 A, B, C, D 에 대응하는 수를 각각 a, b, c, d 라고 할 때, $a + b + c + d$ 값은? (단, 모눈 한 칸은 한 변의 길이가 1 인 정사각형이다.)



- ① 10 ② 13 ③ 17 ④ 20 ⑤ 24

30. x 에 대한 이차방정식 $(m+1)x^2 + (m^2+3m-4)x - 8 = 0$ 의 한 근이 2일 때, 두 근을 모두 양수가 되게 하는 m 의 값과 나머지 한 근의 곱이 $-\frac{a}{b}$ 이다. $a+b$ 의 값을 구하여라. (단, a, b 는 서로소인 자연수이다.)

▶ 답: $a+b =$ _____