

1. 다음 그림을 보고, 예각을 모두 찾은 것은 어느 것입니까?



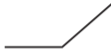
가



나



다



라



마



바

① 가, 나, 마

② 가, 나, 다, 마

③ 가, 나, 마, 바

④ 나, 마, 바

⑤ 나, 다, 라, 마, 바

2. 안에 알맞은 수를 바르게 나타낸 것을 고르시오.

12996738 에서

- (1) 천만의 자리 숫자는 이고, 을 나타냅니다.
(2) 백만의 자리 숫자는 이고, 을 나타냅니다.
(3) 십만의 자리 숫자는 이고, 을 나타냅니다.

- ① 1, 1000000, 2, 2000000, 9, 900000
② 2, 20000000, 9, 9000000, 6, 600000
③ 1, 10000000, 2, 200000, 9, 900000
④ 1, 10000000, 9, 9000000, 6, 60000
⑤ 1, 10000000, 2, 2000000, 9, 900000

3. 안에 알맞은 수를 바르게 나타낸 것은 어느 것입니까?

9408005048010736은 조가 , 억이 , 만이 , 1이 인 수입니다.

① 940, 50, 4801, 736

② 940, 50, 480, 1736

③ 9408, 50, 4801, 736

④ 9408, 504, 480, 1736

⑤ 9408, 504, 4801, 736

4. 다음과 같은 규칙으로 뛰어 세면 어떤 수가 되겠습니까?

50만부터 20만씩 5번 뛰어서 센 수

① 70 만

② 90 만

③ 150 만

④ 110 만

⑤ 130 만

5. 안에 알맞은 수를 차례대로 쓴 것은 어느 것입니까?

$$9999000 - \text{□} - \text{□} - 10299000 - 10399000$$

① 10990000, 11990000

② 10099000, 10199000

③ 10199000, 10299000

④ 1099000, 1199000

⑤ 11990000, 12990000

6. 다음 중 직각보다 작은 각을 모두 고르시오.

①



②



③



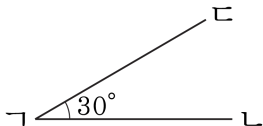
④



⑤



7. 각도기를 이용하여 다음 그림과 같이 크기가 30도인 각 $\angle \Gamma \Delta \Lambda$ 을 그리려고 합니다. 그리는 순서에 맞게 기호를 쓰시오.



- ㉠ 각의 한 변 $\Gamma\Lambda$ 을 긁습니다.
- ㉡ 각도기에서 30도가 되는 눈금 위에 점 Δ 을 찍습니다.
- ㉢ 각도기의 중심을 각의 꼭짓점이 될 점 Γ 에 맞추고, 각도기의 밑금을 변 $\Gamma\Lambda$ 에 맞춥니다.
- ㉣ 점 Γ 과 점 Δ 을 이어 각의 다른 한 변 $\Gamma\Delta$ 을 긁습니다.

① ㉠, ㉡, ㉢, ㉣

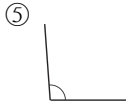
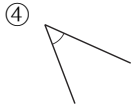
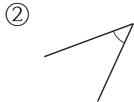
② ㉠, ㉢, ㉡, ㉣

③ ㉢, ㉠, ㉡, ㉣

④ ㉢, ㉡, ㉠, ㉣

⑤ ㉡, ㉢, ㉠, ㉣

8. 다음 중에서 직각보다 작은 각을 모두 고르시오.



9. 다음 숫자를 한 번씩 써서 여섯 자리의 수를 만들었을 때 가장 큰 수와 가장 작은 수를 차례로 쓴 것은 어느 것입니까?

□ 1 □ 7 □ 9 □ 6 □ 2 □ 3

① 123679, 976321

② 976321, 123679

③ 967321, 123679

④ 976321, 126379

⑤ 123679, 976312

10. 다음의 수가 1조가 되도록 안에 알맞은 수를 차례대로 쓴 것은 어느 것입니까?

1조 → 9000억 +

1조 → 1000억의 배

1조 → 1억의 배

- ① (1) 100억 (2) 10 (3) 10000
- ② (1) 1000억 (2) 10 (3) 10000
- ③ (1) 1000억 (2) 100 (3) 10000
- ④ (1) 1000억 (2) 10 (3) 1000
- ⑤ (1) 1000억 (2) 100 (3) 1000

11. 다음 안에 알맞은 수를 넣어 1 조가 되도록 바르게 구한 것은 어느 것입니까?

(1) 1조 = 9000억 +

(2) 1조 = 1000억 ×

(3) 1조 = 9800억 +

(4) 1조 = 1억 ×

① (1) 1000억 (2) 10억 (3) 200억 (4) 10000

② (1) 1000억 (2) 10 (3) 20억 (4) 10000

③ (1) 100억 (2) 10 (3) 200억 (4) 10000

④ (1) 100억 (2) 10억 (3) 200억 (4) 10000

⑤ (1) 1000억 (2) 10 (3) 200억 (4) 10000

12. 다음 세 수의 크기를 비교하여 큰 수부터 차례로 나열한 것은 어느 것입니까?

㉠ $947\boxed{}8\boxed{}289456$

㉡ $9479983\boxed{}7562$

㉢ $\boxed{}38\boxed{}72504378$

① ㉠, ㉢, ㉡

② ㉠, ㉡, ㉢

③ ㉡, ㉠, ㉢

④ ㉢, ㉠, ㉡

⑤ ㉡, ㉢, ㉠

13. 다음 중 각도가 가장 큰 것은 어느 것입니까?

① 1 직각 -50°

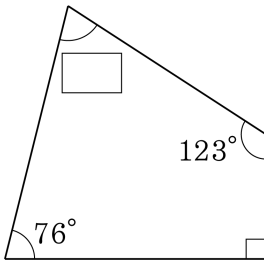
② 2 직각 -60°

③ 3 직각 -2 직각

④ $140^\circ + 45^\circ$

⑤ $276^\circ - 61^\circ$

14. 안에 알맞은 각도를 고르시오.



① 69°

② 71°

③ 70°

④ 82°

⑤ 92°

15. 다음 중 시계의 시침과 분침이 이루는 작은 각이 예각인 시각은 어느 것입니까?

① 5시

② 8시

③ 9시

④ 10시

⑤ 6시