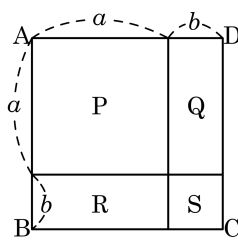


1. 다음 그림에서 정사각형 ABCD 의 넓이는 사각형 P, Q, R, S 의 넓이의 합과 같다. 이 사실을 이용하여 나타낼 수 있는 곱셈 공식을 골라라.



- ① $(a + b)^2 = a^2 + 2ab + b^2$
 ② $(a - b)^2 = a^2 - 2ab + b^2$
 ③ $(a + b)(a - b) = a^2 - b^2$
 ④ $(x + a)(x + b) = x^2 + (a + b)x + ab$
 ⑤ $(ax + b)(cx + d) = acx^2 + (ad + bc)x + bd$

2. $(3x - A)^2 = 9x^2 - Bx + 9$ 일 때, A, B 에 알맞은 자연수를 차례로 구하면?

- ① 3, 3 ② 3, 9 ③ 3, 18 ④ 9, 9 ⑤ 9, 18

3. $(x+a)(x-4) = x^2 - b^2$ 일 때, $a+b$ 의 값은? (단, $b > 0$)

- ① -16 ② -8 ③ 2 ④ 8 ⑤ 16

4. $(x-4)(x-6) = x^2 + Ax + B$ 일 때, 상수 A, B 의 합 $A+B$ 의 값은?

- ① -24 ② -10 ③ 4 ④ 10 ⑤ 14

5. $-\frac{3}{2}(-2x+1)^2 + \frac{1}{3}(6x+5)(2x-3)$ 의 전개식에서 x 의 계수는?

- ① 4 ② $-\frac{11}{3}$ ③ $\frac{10}{3}$ ④ -3 ⑤ $\frac{8}{3}$

6. $\square + \frac{4a^2 + 6ab}{2a} = \frac{-3b^2 - 6ab}{3b}$ 일 때, \square 안에 들어갈 알맞은 식을 구하면?

① $4a + 4b$

② $-4a + 4b$

③ $-4a - 4b$

④ $-2a - 2b$

⑤ $-2a + 2b$

7. 다음 계산 중 옳지 않은 것은?

① $-(2a - b) = -2a + b$

② $-2y(x + 3y) = -6y^2 - 2xy$

③ $2y(5y - 3) = 10y^2 - 6y$

④ $-2x(3x - 4y) + y(x + 5y) = -6x^2 + 10xy + 5y^2$

⑤ $-2x(4x - 3y) - y(x - 3y + 1) = -8x^2 + 5xy + 3y^2 - y$

8. $\left(x^2 - 4 + \frac{4}{x^2}\right)\left(x + \frac{3}{x} + 1\right)$ 을 전개한 식에서 $\frac{1}{x}$ 의 계수와 x 의 계수의 곱은?

- ① $-\frac{1}{8}$ ② $-\frac{1}{4}$ ③ 2 ④ 4 ⑤ 8

9. $(x-3)(x^2+9)(x+3)$ 을 전개하면?

① x^2-9

② x^2-81

③ x^4-3

④ x^4-9

⑤ x^4-81

10. $(2x+a)(bx-3) = 8x^2 + cx - 9$ 일 때, 상수 a, b, c 의 합 $a+b+c$ 의 값은?

① 11

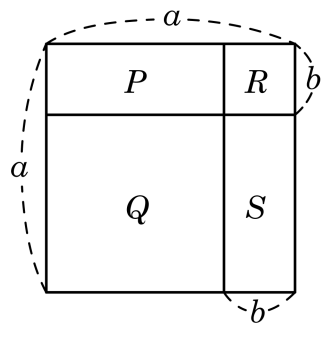
② 12

③ 13

④ 14

⑤ 15

11. 다음 그림과 같이 한 변의 길이가 a 인 정사각형을 네 부분으로 나누는 넓이를 각각 P, Q, R, S 라 할 때, $Q+R$ 을 a, b 로 나타낸 것은?



- ① $a^2 - 2ab + 2b^2$ ② $a^2 - 2ab + b^2$ ③ $a^2 - ab + b^2$
 ④ $a^2 - 2ab$ ⑤ $a^2 + 2ab$

12. $(x - 3y + 2)^2$ 을 전개하면?

① $x^2 + 9y^2 + 4 - 6xy + 4x - 12y$

② $x^2 + 3y^2 + 4 - 6xy + 4x - 12y$

③ $x^2 + 3y^2 + 4 + 3xy - 2x + 6y$

④ $x^2 + 9y^2 + 4 - 3xy + 2x - 6y$

⑤ $x^2 + 3y^2 + 4 - 3xy + 2x - 6y$

13. 다음중 곱셈 공식 $(x+a)(x+b) = x^2 + (a+b)x + ab$ 를 이용하면 계산하기에 가장 편리한 것은?

① 87^2

② 51×52

③ 13×7

④ 37×43

⑤ 51^2

14. $(4a^2b - 8ab + 2b) \div (-2b) + (a^2x - ax) \div \frac{1}{3}x$ 를 간단히 하면?

① $a^2 + a - 1$

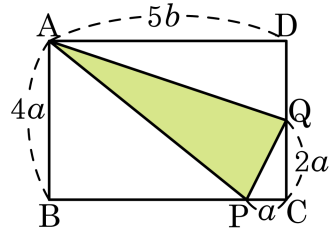
② $a^2 - a + 1$

③ $a^2 - a - 1$

④ $a^2 + a - 3$

⑤ $a^2 + a + 1$

15. 다음 그림과 같이 직사각형의 두 변 위에 각각 점 P, Q를 잡을 때, $\triangle APQ$ 의 넓이는?



- ① $a^2 + ab$ ② $a^2 + 2ab$ ③ $a^2 + 3ab$
 ④ $a^2 + 4ab$ ⑤ $a^2 + 5ab$