

1. 다음 자료의 변량에서 중앙값은?

50 60 55 70 65

① 50

② 55

③ 60

④ 65

⑤ 70

2. 네 개의 자료 10, 12, 14, x 의 평균이 13일 때, x 의 값은?

① 10

② 12

③ 14

④ 16

⑤ 18

3. 다음 자료들 중에서 표준편차가 가장 큰 것은?

① 3, 3, 3, 3, 3, 3

② 1, 3, 1, 3, 1, 3

③ 4, 8, 4, 8, 4, 8

④ 5, 6, 5, 6, 5, 6

⑤ 3, 6, 3, 6, 3, 6

4. 다음 보기의 자료들 중에서 표준편차가 가장 큰 자료와 가장 작은 자료를 차례대로 나열한 것은?

보기

㉠ 3, 9, 3, 9, 3, 9

㉡ 2, 2, 2, 4, 4, 4

㉢ 5, 5, 5, 5, 5, 5

㉣ 7, 7, 7, 10, 10, 10

① ㉠, ㉡

② ㉠, ㉢

③ ㉠, ㉣

④ ㉡, ㉢

⑤ ㉡, ㉣

5. 다음은 A, B, C, D, E 5명 학생들이 가지고 있는 노트 갯수를 나타낸 것이다. 이 때, 5명 학생이 가지고 있는 노트 갯수의 분산은?

학생	A	B	C	D	E
편차 (개)	-3	-1	2	x	2

① 3.1

② 3.2

③ 3.5

④ 3.6

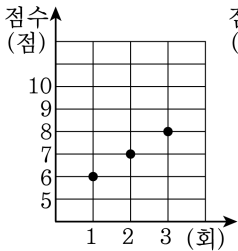
⑤ 3.8

6. 다음은 성수의 5 회의 체육 실기
중 4 회에 걸친 실기 점수를 나
타낸 표이다. 다음 시험에서 몇
점을 받아야 평균이 75 점이 되겠는가?

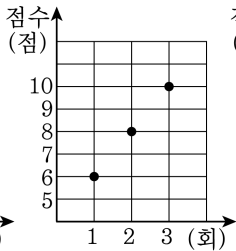
횟수 (회)	1	2	3	4
점수 (점)	84	78	80	76

- ① 55 점 ② 57 점 ③ 59 점 ④ 61 점 ⑤ 63 점

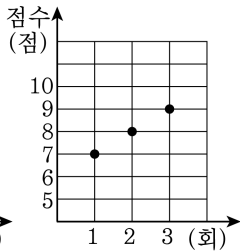
7. 다음은 양궁선수 A, B, C 가 3 회에 걸쳐 활을 쏜 기록을 나타낸 그래프이다.



〈A의 점수분포〉



〈B의 점수분포〉



〈C의 점수분포〉

A, B, C 의 활을 쏜 점수의 표준편차를 각각 a , b , c 라고 할 때, a , b , c 의 대소 관계는?

① $a = b = c$

② $a = c < b$

③ $a < b = c$

④ $a = b > c$

⑤ $a < b < c$

8. 다음은 양궁 선수 A, B, C, D, E 가 다섯 발의 화살을 쏘아 얻은 점수의 평균과 표준편차를 나타낸 표이다. 점수가 가장 높은 선수는?

이름	A	B	C	D	E
평균 (점)	8	10	9	8	7
표준편차 (점)	0.5	2	1	1.5	2.5

① A

② B

③ C

④ D

⑤ E

9. 다음은 A, B, C, D, E 다섯 학급에 대한 학생들의 몸무게에 대한 평균과 표준편차를 나타낸 표이다. 학생들 간의 몸무게의 격차가 가장 큰 학급과 가장 작은 학급을 차례대로 나열한 것은?

이름	A	B	C	D	E
평균 (kg)	67	61	65	62	68
표준편차 (kg)	2.1	2	1.3	1.4	1.9

- ① A, B ② A, C ③ B, C ④ B, E ⑤ C, D

10. 다음은 학생 8 명의 기말고사 국어 성적을 조사하여 만든 것이다.
학생들 8 명의 국어 성적의 분산은?

계급	도수
55 ^{이상} ~ 65 ^{미만}	3
65 ^{이상} ~ 75 ^{미만}	3
75 ^{이상} ~ 85 ^{미만}	1
85 ^{이상} ~ 95 ^{미만}	1
합계	8

① 60

② 70

③ 80

④ 90

⑤ 100

11. 다음의 표준편차를 순서대로 x, y, z 라고 할 때, x, y, z 의 대소 관계를 바르게 나타낸 것은?

X : 1 부터 200 까지의 짝수

Y : 1 부터 200 까지의 홀수

Z : 1 부터 400 까지의 4 의 배수

① $x = y = z$

② $x < y = z$

③ $x = y < z$

④ $x = y > z$

⑤ $x < y < z$

12. 3개의 변량 a, b, c 의 평균이 7, 분산이 8일 때, 변량 $5a, 5b, 5c$ 의 평균은 m , 분산은 n 이다. 이 때, $n - m$ 의 값은?

① 115

② 135

③ 165

④ 185

⑤ 200

13. 3개의 변량 x, y, z 의 변량 x, y, z 의 평균이 8, 표준편차가 5일 때, 변량 $2x, 2y, 2z$ 의 평균이 m , 표준편차가 n 이라 한다. 이 때, $m+n$ 의 값은?

① 22

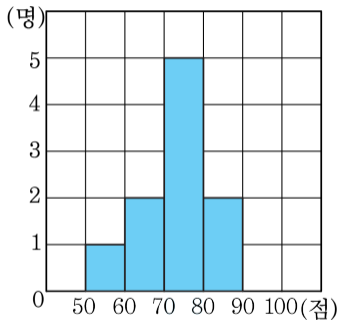
② 24

③ 26

④ 28

⑤ 30

14. 다음 히스토그램은 학생 10명의 영어 성적을 나타낸 것이다. 이 자료의 분산은?



- ① 72 ② 74 ③ 76 ④ 78 ⑤ 80

15. 세 수 x, y, z 의 평균과 분산이 각각 5, 3 일 때, $\frac{1}{2}x^2, \frac{1}{2}y^2, \frac{1}{2}z^2$ 의 평균은?

① 12

② 14

③ 16

④ 18

⑤ 20