


1. $A = 5\sqrt{3} + 10\sqrt{3}$, $B = -3\sqrt{3} - 2\sqrt{3}$ 일 때, $A + B$ 의 값을 구하여라.

▶ 답: $A + B =$ _____

2. $\frac{\sqrt{32}}{\sqrt{2}} - 3 = A$, $\frac{12}{\sqrt{3}} - \sqrt{12} = B$ 일 때, $A + \sqrt{2}B$ 의 값을 구하여라.

 답: _____

3. 다음 보기 중 옳은 것을 모두 골라라.

보기

㉠ $\sqrt{3}(2\sqrt{5} + \sqrt{3}) = 2\sqrt{15} + 3$

㉡ $(\sqrt{24} - \sqrt{12}) \div \sqrt{3} = \sqrt{2} - 1$

㉢ $4\sqrt{2} - \sqrt{2}(3 - 6\sqrt{2}) = 10\sqrt{2} - \sqrt{6}$

㉣ $\sqrt{2}(2\sqrt{3} + 4) - \sqrt{3}(\sqrt{2} - \sqrt{6}) = \sqrt{6} + 7\sqrt{2}$


답: _____

답: _____

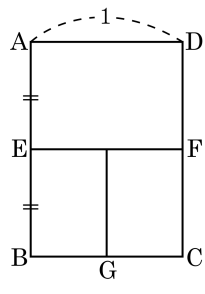
4. 식 $\left(3 - \frac{\sqrt{3}a}{2}\right)\left(\frac{1}{\sqrt{3}} + 5b\right)$ 가 유리수의 값을 가질 때, ab 의 값을 구하여라.

▶ 답: $ab =$ _____

5. $\frac{2 + \sqrt{3}}{2 - \sqrt{3}}$ 을 유리화하여라.


 답: _____

6. 복사 용지로 많이 사용되고 있는 A4 용지는 A3 용지를 반으로 잘라서 만든 것이고, A5 용지는 A4 용지를 반으로 잘라서 만든 것이다. 따라서, A3 용지와 A4 용지, A5 용지는 서로 닮음이다. 다음 그림에서 $\square ABCD$ 가 A3 용지라 하고, A3 용지의 가로, 세로의 길이와 A5 용지의 가로, 세로의 길이의 합은?



- ① $\frac{(1 + \sqrt{2})}{2}$ ② $\frac{(2 + \sqrt{2})}{2}$ ③ $\frac{3(1 + \sqrt{2})}{2}$
 ④ $\frac{3(1 - \sqrt{2})}{2}$ ⑤ 2

7. $0 \leq x \leq 5$, $0 \leq \sqrt{x} < 2$ 를 동시에 만족하는 정수 x 의 개수를 구하여라

 답: _____

8. 다음의 표는 제곱근표의 일부이다. 이 표를 이용하여 $\frac{1}{\sqrt{5}}\left(1-\frac{2}{\sqrt{5}}\right)$ 의 값을 구하여라.(단, 소수 넷째 자리까지 구한다.)

수	0	1	2
1	1,000	1,005	1,010
2	1,414	1,418	1,421
3	1,732	1,735	1,738
4	2	2,002	2,005
5	2,236	2,238	2,241

▶ 답: _____


9. 다음 중 $\sqrt{43} = 2.074$ 임을 이용하여 제곱근의 값을 구할 수 없는 것을 골라라.

㉠ $\sqrt{0.043}$

㉡ $\sqrt{430}$

㉢ $\sqrt{0.43}$

㉣ $\sqrt{43000}$

 답: _____

10. $2\sqrt{5}$ 의 정수 부분을 a , 소수 부분을 b 라 할 때, $a-b$ 의 값을 구하여라.

▶ 답: _____