


1. 다음 중 제곱근을 구할 수 없는 수를 모두 고르면?

- ① -4 ② 4 ③ -2 ④ 2 ⑤ 0

2. 다음 표의 수 중 근호를 사용하지 않고 나타낼 수 있는 수들을 찾아 색칠한 후 이 수들이 나타내는 수를 아래쪽에 색칠하였을 때 두 그림이 나타내는 수를 말하여라.

$\sqrt{81}$	$\sqrt{100}$	$\sqrt{0}$	$\sqrt{0.01}$	$\sqrt{64}$
$\sqrt{9}$	$\sqrt{13}$	$\sqrt{28}$	$\sqrt{-16}$	$\sqrt{25}$
$\sqrt{49}$	$\sqrt{15}$	$\sqrt{120}$	$\sqrt{20}$	$\sqrt{36}$
$\sqrt{-0.9}$	$\sqrt{18}$	$\sqrt{0.4}$	$\sqrt{-16}$	$\sqrt{0.09}$
$\sqrt{-36}$	$\sqrt{3}$	$\sqrt{-9}$	$\sqrt{8}$	$\sqrt{4}$

-5	15	16	0	25
-10	-0.3	3	8	11
-1	6	-6	0.1	-4
7	10	2	0.3	9
-7	-10	-13	5	12

 답: _____

3. $x > 1$ 일 때, $\sqrt{(x-1)^2} - \sqrt{(1-x)^2}$ 의 값을 구하여라.

▶ 답: _____

4. 다음 중 가장 큰 수는?

① $\sqrt{(-7)^2}$

② $-(-\sqrt{3})^2$

③ $\sqrt{20}$

④ 6

⑤ $\sqrt{45}$

5. 다음 중 부등식 $4 < \sqrt{x} \leq 5$ 를 만족하는 자연수 x 가 아닌 것은?

- ① 18 ② 20 ③ 22 ④ 24 ⑤ 26

6. 다음 중 $\sqrt{3}$ 와 $\sqrt{11}$ 사이에 있는 무리수는?

① $\sqrt{3}-1$


② $2\sqrt{3}$

③ $\sqrt{11}-3$


④ $\sqrt{3}+3$

⑤ $\frac{\sqrt{3}+\sqrt{11}}{2}$

7. $a < 0$ 일 때, $\sqrt{(-7a)^2}$ 을 간단히 나타내어라.

 답: _____

8. $\sqrt{120}$ 에 \sqrt{a} 를 곱했더니 자연수가 되었다. a 의 최솟값을 구하라.

 답: _____

9. $\sqrt{(2-\sqrt{2})^2} - \sqrt{(1-\sqrt{2})^2}$ 을 간단히 하면?

① 1

② -1

③ $3-2\sqrt{2}$

④ $-3+2\sqrt{2}$

⑤ $1-2\sqrt{3}$

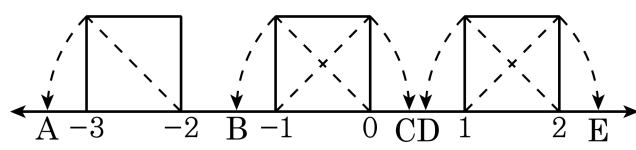
10. 다음 보기 중 무리수는 모두 몇 개인지 구하여라.

보기

$5.49\dot{2}$, $-1 + \sqrt{1}$, 3.14 , $-\sqrt{16}$, π , $2\sqrt{2} - \sqrt{3}$

▶ 답: _____ 개


11. 다음 그림의 사각형이 모두 정사각형일 때, 다섯 개의 점 A, B, C, D, E의 좌표를 바르게 말한 것을 모두 고르면?



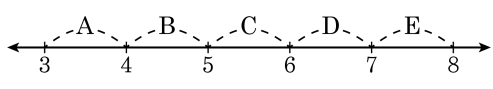
- ① $B(-1 - \sqrt{2})$ ② $C(-1 + \sqrt{2})$ ③ $D(-1 + \sqrt{2})$
 ④ $E(1 + \sqrt{2})$ ⑤ $A(-2 + \sqrt{2})$

12. 다음 세 수를 큰 순서대로 나열할 때, 가운데에 위치하는 수를 구하시오.

$$\sqrt{15}, 3 + \sqrt{2}, 4$$

 답: _____

13. 다음 수직선에서 $2\sqrt{7}$ 에 대응하는 점이 있는 구간은?



- ① A ② B ③ C ④ D ⑤ E

14. 다음 중 계산이 옳지 않은 것은?

① $(\sqrt{13})^2 + (-\sqrt{4})^2 = 17$ ② $(-\sqrt{2})^2 - (-\sqrt{5})^2 = 3$

③ $(\sqrt{5})^2 \times \left(-\sqrt{\frac{1}{5}}\right)^2 = 1$ ④ $\sqrt{(-7)^2} \times \sqrt{(-6)^2} = 42$

⑤ $\sqrt{12^2} \div \sqrt{(-4)^2} = 3$

15. 다음 설명 중 옳지 않는 것을 모두 고르면?

- ① 무한소수는 모두 무리수이다.
- ② 근호가 벗겨지는 수는 유리수이다.
- ③ $\sqrt{99} = 33$ 이므로 유리수이다.
- ④ 순환하지 않는 무한소수는 모두 무리수이다.
- ⑤ $\frac{\text{(정수)}}{\text{(0이 아닌 정수)}}$ 꼴로 나타낼 수 있는 수는 모두 유리수이다.

16. 다음 설명 중 옳지 않은 것을 모두 고르면?

- ① 두 유리수 $\frac{1}{5}$ 과 $\frac{1}{3}$ 사이에는 무수히 많은 유리수가 있다.
- ② 두 무리수 $\sqrt{5}$ 와 $\sqrt{6}$ 사이에는 무수히 많은 무리수가 있다.
- ③ $\sqrt{5}$ 에 가장 가까운 유리수는 2 이다.
- ④ 서로 다른 두 유리수의 합은 반드시 유리수이지만, 서로 다른 두 무리수의 합 또한 반드시 무리수이다.
- ⑤ 실수와 수직선 위의 점 사이에는 일대일 대응이 이루어진다.

17. 다음 보기의 설명 중 옳지 않은 것을 모두 고른 것은?

보기

- ㉠ $\sqrt{2}$ 와 $\sqrt{3}$ 사이에는 무수히 많은 유리수가 있다.
- ㉡ 두 정수 사이에는 또 다른 정수가 있다.
- ㉢ $\sqrt{5}$ 와 $\sqrt{7}$ 사이에는 무수히 많은 무리수가 있다.
- ㉣ 서로 다른 무리수의 합은 항상 무리수이다.
- ㉤ 1 과 2 사이에는 무수히 많은 유리수가 있다.

① ㉠,㉡

② ㉡,㉣

③ ㉠,㉢,㉣

④ ㉡,㉣,㉤

⑤ ㉠,㉡,㉣,㉤

18. 두 실수 a, b 에 대하여 $a-b < 0$, $ab < 0$ 일 때, $\sqrt{a^2} + \sqrt{b^2} - \sqrt{(-a)^2} + \sqrt{(-b)^2}$ 을 간단히 한 것은?

- ① 0 ② $2a$ ③ $a-b$ ④ $2b$ ⑤ $a+b$

19. $5x+y=15$ 일 때, $\sqrt{2x+y}$ 가 자연수가 되게 만드는 가장 작은 자연수 x 는?

① 1

② 2

③ 4

④ 7

⑤ 9

20. $\sqrt{18}+3$ 과 $\sqrt{15}-2$ 중 큰 수를 a , $2\sqrt{7}$ 과 $3\sqrt{2}-1$ 중 작은 수를 b 라고 할 때, $b-a$ 의 값을 구하면?

- ① 4 ② 2 ③ 0 ④ -2 ⑤ -4