



1. 안에 알맞은 수를 차례대로 써넣으시오.

(1) 은 9990 보다 10 큰 수 입니다.

(2) 10000 은 보다 1 큰 수 입니다.

 답: _____

 답: _____

2. 다음을 숫자로 쓰시오.

삼만 팔천육백오십사

▶ 답: _____

3. 다음 수를 (보기)와 같이 나타낸 것을 고르시오.

(보기)
$6943 = 6000 + 900 + 40 + 3$ $\Rightarrow 47581 =$ <input style="width: 150px; height: 15px;" type="text"/>

- ① $40000 + 700 + 600 + 80 + 1$
- ② $40000 + 7000 + 500 + 80 + 1$
- ③ $40000 + 7000 + 500 + 90 + 1$
- ④ $400000 + 7000 + 500 + 80 + 1$
- ⑤ $400000 + 6000 + 500 + 80 + 1$


4. 다음 수에서 십만의 자리의 숫자가 나타내는 수를 쓰시오.


70494723

 답: _____

5. 다음을 뛰어세어 알맞은 수를 차례대로 써넣으시오.

$$34600 - 44600 - \square - 64600 - \square$$

 답: _____

 답: _____

6. () 안에 알맞은 수를 차례대로 고른 것은 어느 것입니까?

8463252536545290은
조가 ()
억이 ()
만이 3654
일이()인수입니다.

- ① 8463,5253,5290 ② 84632,5253,5290
- ③ 8463,3252,5290 ④ 846,2525,5290
- ⑤ 8463,2525,5290

7. 다음 안에 알맞은 수를 차례대로 고른 것은 어느 것입니까?

$$\begin{array}{l} 1070200090006008 \\ = 1000000000000000 + \input{type="text"} + \input{type="text"} \\ + 90000000 + 6000 + 8 \end{array}$$

- ① 7000000000000, 200000000000
- ② 70000000000000, 20000000000
- ③ 70000000000000, 2000000000
- ④ 7000000000000, 200000000
- ⑤ 70000000000000, 20000000000

8. 다음을 숫자로 쓸 때 숫자 0은 몇 번 쓰입니까?

삼천오십억 칠백만 오백구

▶ 답: _____ 번

9. 다음은 뛰어세기를 한 수입니다. 안에 알맞은 수를 차례대로 쓴 것은 어느 것입니까?

(1)	<input type="text"/> 9456만	-	<input type="text"/> 9656만	-	<input type="text"/> 9856만	-	<input type="text"/>	-	<input type="text"/>
(2)	<input type="text"/> 6조 8000만	-	<input type="text"/> 6조 9000만	-	<input type="text"/>	-	<input type="text"/> 7조 1000만	-	<input type="text"/>

- ① (1) 1억 56만, 1억 156만 (2) 7조, 7조 2000만
- ② (1) 1억 56만, 1억 256만 (2) 7조, 7조 3000만
- ③ (1) 1억 56만, 1억 256만 (2) 7조, 7조 2000만
- ④ (1) 1억 56만, 1억 1256만 (2) 7조, 7조 2000만
- ⑤ (1) 1억 156만, 1억 256만 (2) 7조, 7조 2000만

10. 수의 크기를 비교하여 큰 수부터 차례로 기호를 쓴 것은 어느 것입니까?

㉠ 52384	㉡ 78549
㉢ 36378	㉣ 20887

- ① ㉠, ㉡, ㉢, ㉣ ② ㉣, ㉢, ㉠, ㉡ ③ ㉡, ㉣, ㉢, ㉠
④ ㉡, ㉣, ㉠, ㉢ ⑤ ㉡, ㉠, ㉢, ㉣

11. 0에서 7까지의 숫자를 각각 2번씩 써서 만들 수 있는 16 자리의 수 중에서 가장 작은 수를 만드시오.

▶ 답: _____

12. 정화네 공장의 작년 수출액은 사천칠백육십오억 삼천이백칠십만원이었다. 올해는 작년보다 10 배 더 수출했다면 올해의 수출액은 얼마인지 수로 나타내시오.

▶ 답: _____ 원

13. 다음 세 수의 크기를 비교하여 큰 수부터 차례로 기호를 나열한 것은 어느 것입니까?

㉠	29	□	798	□	72564
㉡	2	□	05	□	7352813
㉢	29983	□	□	□	04675

① ㉢, ㉠, ㉡

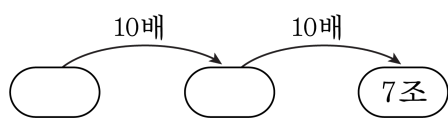
② ㉢, ㉡, ㉠

③ ㉠, ㉡, ㉢

④ ㉠, ㉢, ㉡

⑤ ㉡, ㉢, ㉠

14. 빈 곳에 알맞은 수를 차례대로 고른 것은 어느 것입니까?



- ① 70억, 7000억 ② 70억, 700억 ③ 700억, 7000억
- ④ 7억, 700억 ⑤ 7억, 70억

15. 다음을 가장 큰 수부터 차례로 나타낸 것은 어느 것입니까?

㉠ 235만의 100배	㉡ 6억 7200만의 $\frac{1}{100}$
㉢ 38만 5001의 1000배	㉣ 41억 6700만의 $\frac{1}{1000}$

- ① ㉠, ㉢, ㉡, ㉣ ② ㉢, ㉠, ㉣, ㉡ ③ ㉠, ㉢, ㉣, ㉡
④ ㉠, ㉡, ㉢, ㉣ ⑤ ㉢, ㉠, ㉡, ㉣