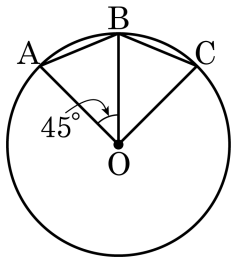


1. 다음 그림의 원 O에서 $5.0\text{pt}\widehat{AB} = 5.0\text{pt}\widehat{BC}$ 이고, $\angle AOB = 45^\circ$ 일 때, 옳은 것을 모두 골라라.



㉠ $\overline{AB} = \overline{BC}$

㉡ $5.0\text{pt}\widehat{AC} = 5.0\text{pt}\widehat{AB} + 5.0\text{pt}\widehat{BC}$

㉢ $5.0\text{pt}24.88\text{pt}\widehat{ABC}$ 의 중심각의 크기는 90° 이다.

㉣ $\triangle AOC = 2\triangle AOB$

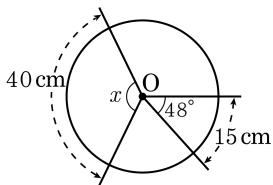
➤ 답: _____

➤ 답: _____

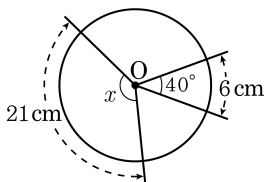
➤ 답: _____

2. 다음 그림에서 $\angle x$ 의 크기를 구하여라.

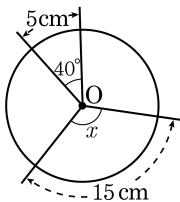
(1)



(2)



(3)



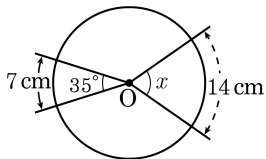
> 답: _____

> 답: _____

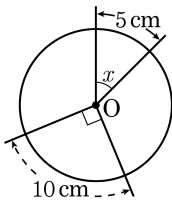
> 답: _____

3. 다음 그림에서 $\angle x$ 의 크기를 구하여라.

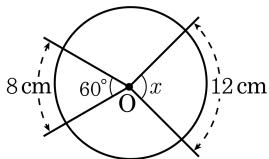
(1)



(2)



(3)

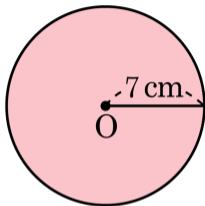


> 답: _____

> 답: _____

> 답: _____

4. 반지름의 길이가 7cm 인 원의 둘레의 길이와 원의 넓이를 구하여라.



> 답: _____ cm

> 답: _____ cm^2

5. 반지름의 길이가 다음과 같을 때, 원의 둘레의 길이 l 과 넓이 S 를 구하여라.

(1) 4 cm

(2) 6 cm

(3) 9 cm

(4) 10 cm

(5) 12 cm



답:



답:



답:



답:



답:

6. 원의 넓이가 다음과 같을 때, 원의 반지름의 길이를 구하여라.

(1) $4\pi \text{ cm}^2$

(2) $9\pi \text{ cm}^2$

(3) $25\pi \text{ cm}^2$


(4) $49\pi \text{ cm}^2$

(5) $81\pi \text{ cm}^2$

 답: _____

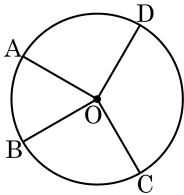
 답: _____

 답: _____

 답: _____

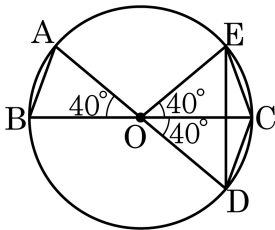
 답: _____

7. 다음 그림과 같이
 원 O 에서
 $\angle AOB = \frac{1}{2}\angle COD$ 일 때, 다음 중 옳은 것을 모두
 고르면?



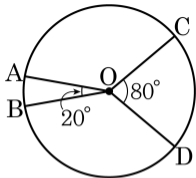
- ① (부채꼴OCD 의 넓이) = $2 \times$ (부채꼴OAB 의 넓이)
 ② $5.0\text{pt}\widehat{AB} = \frac{1}{2}5.0\text{pt}\widehat{CD}$
 ③ $\overline{AB} \parallel \overline{CD}$
 ④ $\triangle COD = 2\triangle AOB$
 ⑤ $\overline{AB} = \frac{1}{2}\overline{CD}$

8. 다음 그림의 원 O 에서 $\angle AOB = 40^\circ$, $\angle COD = \angle COE = 40^\circ$ 이다.
이 때, 다음 중 옳지 않은 것은?



- ① $\angle OAB = 70^\circ$
 ② $\overline{AB} = \overline{CE}$
 ③ $5.0\text{pt}\widehat{DE} = 25.0\text{pt}\widehat{AB}$
 ④ $\overline{DE} = 2\overline{AB}$
 ⑤ 부채꼴 ODE의 넓이는 부채꼴 OAB의 넓이의 두 배이다.

9. 다음 그림에서 $\angle AOB = 20^\circ$, $\angle COD = 80^\circ$ 일 때, 다음 중 옳은 것은?



① $\overline{AB} = \frac{1}{4}\overline{CD}$

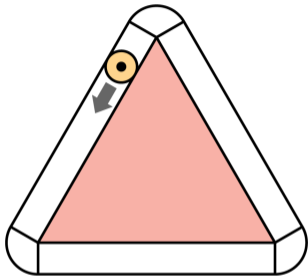
② $\overline{AC} = \overline{BD}$

③ $5.0\text{pt}\widehat{AB} = \frac{1}{4}5.0\text{pt}\widehat{CD}$

④ $5.0\text{pt}\widehat{AC} = 5.0\text{pt}\widehat{BD}$

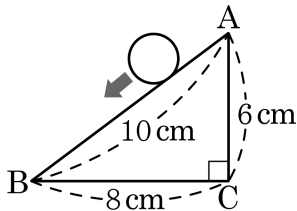
⑤ $\triangle ABO = \frac{1}{4}\triangle COD$

10. 반지름의 길이가 4cm 인 원을 한 변의 길이가 60cm 인 정삼각형의 주위를 따라 한 바퀴 돌렸다. 원이 지나간 자리의 넓이는?



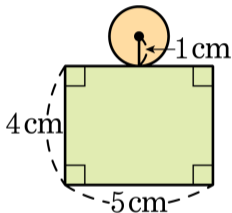
- ① $52\pi + 1260(\text{cm}^2)$ ② $52\pi + 1440(\text{cm}^2)$
 ③ $56\pi + 1440(\text{cm}^2)$ ④ $64\pi + 1260(\text{cm}^2)$
 ⑤ $64\pi + 1440(\text{cm}^2)$

11. 다음 그림의 $\triangle ABC$ 의 변 위로 반지름의 길이가 1cm 인 원을 굴러서 삼각형의 둘레를 한 바퀴 돌 때, 원이 지나간 부분의 넓이는?



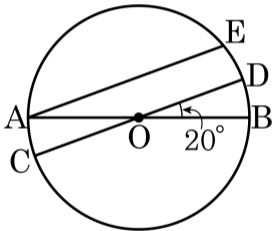
- ① $4\pi + 48(\text{cm}^2)$ ② $2\pi + 48(\text{cm}^2)$ ③ $2\pi + 40(\text{cm}^2)$
 ④ $4\pi + 40(\text{cm}^2)$ ⑤ $6\pi + 50(\text{cm}^2)$

12. 다음 그림과 같이 가로와 세로의 길이가 각각 5cm, 4cm인 직사각형 주위를 반지름의 길이가 1cm인 원이 돌고 있다. 이 원이 직사각형의 주위를 한 바퀴 돌았을 때, 이 원이 지나간 부분의 넓이는?



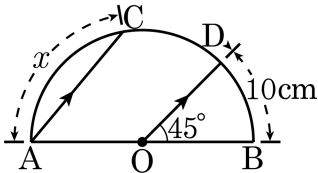
- ① $24 + 4\pi(\text{cm}^2)$ ② $24 + 6\pi(\text{cm}^2)$ ③ $36 + 4\pi(\text{cm}^2)$
 ④ $36 + 6\pi(\text{cm}^2)$ ⑤ $48 + 6\pi(\text{cm}^2)$

13. 다음 그림에서 $\overline{AE} \parallel \overline{CD}$ 이며, $\angle DOB = 20^\circ$, $5.0\text{pt}\widehat{AC} = 5\text{cm}$ 이다.
이 때, $5.0\text{pt}\widehat{AE}$ 의 길이는?



- ① 15cm ② 20cm ③ 25cm ④ 30cm ⑤ 35cm

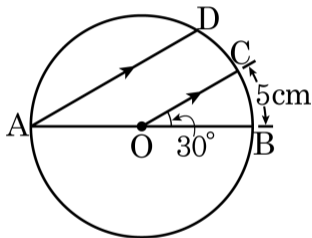
14. 다음 그림에서 \overline{AB} 는 원 O 의 지름이고, $\overline{AC} \parallel \overline{OD}$ 이다. $\angle BOD = 45^\circ$, $5.0\text{pt}\widehat{BD} = 10\text{cm}$ 일 때, $5.0\text{pt}\widehat{AC}$ 의 길이를 구하여라.



답:

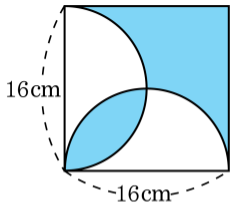
_____ cm

15. 아래 그림과 같이 \overline{AB} 를 지름으로 하는 원 O 에서 $\angle BOC = 30^\circ$, $5.0\text{pt}\widehat{BC} = 5\text{cm}$, $\overline{AD} \parallel \overline{OC}$ 일 때, $5.0\text{pt}\widehat{AD}$ 의 길이를 구하여라.



- ① 10 cm ② 15 cm ③ 18 cm
- ④ 20 cm ⑤ 22 cm

16. 다음 그림의 정사각형에서 색칠한 부분의 넓이는?



① 49 cm^2

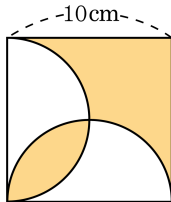
② 75 cm^2

③ 128 cm^2

④ $(98\pi - 49) \text{ cm}^2$

⑤ $(98\pi + 49) \text{ cm}^2$

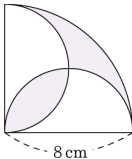
17. 다음 정사각형에서 색칠한 부분의 넓이를 구하여라.



답:

_____ cm^2

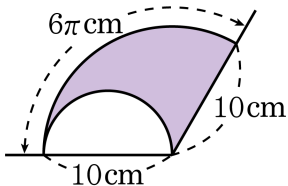
18. 다음 그림에서 색칠된 부분의 넓이를 구하여라.



답:

_____ cm^2

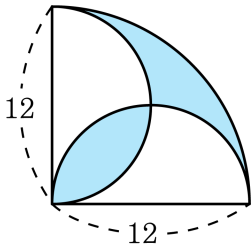
19. 다음 그림과 같이 반지름의 길이가 10 cm 인 부채꼴 안에 지름의 길이가 10 cm 인 반원이 있다. 색칠한 부분의 넓이를 구하여라.



답: _____

cm²

20. 다음 그림에서 색칠한 부분의 둘레의 길이는?



① 18π

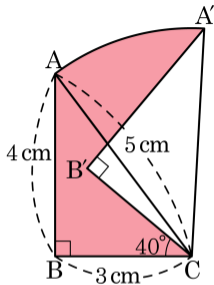
② 6π

③ 12π

④ 36π

⑤ 24π

21. 다음 그림과 같은 직각삼각형 ABC가 있다. $\triangle ABC$ 를 점 C를 중심으로 하여 시계 방향으로 40° 회전 이동한 도형을 $\triangle A'B'C$ 라고 할 때, 색칠한 부분의 넓이는?

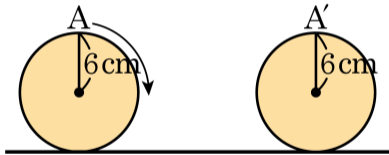


① $\frac{22}{3}\pi \text{ cm}^2$
 ④ $\frac{25}{9}\pi \text{ cm}^2$

② $\frac{28}{3}\pi \text{ cm}^2$
 ⑤ $\frac{49}{9}\pi \text{ cm}^2$

③ $\frac{7}{9}\pi \text{ cm}^2$

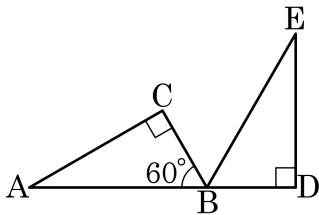
22. 다음 그림과 같이 반지름이 6cm 인 바퀴를 점 A 가 A' 에 오도록 회전시켰을 때, 점 A 가 움직인 거리는?



답:

_____ cm

23. 다음 그림은 직각삼각형 ABC 를 점 B 을 중심으로 점 C 가 변 AB 의 연장선 위의 점 D 에 오도록 회전시킨 것이다. 점 A 가 움직인 거리는? (단, $\overline{AB} = 6\text{ cm}$, $\overline{BC} = 3\text{ cm}$)



① $2\pi\text{ cm}$

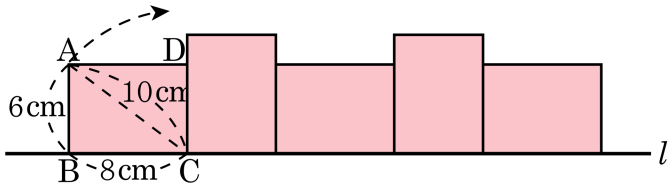
② $4\pi\text{ cm}$

③ $6\pi\text{ cm}$

④ $8\pi\text{ cm}$

⑤ $10\pi\text{ cm}$

24. 다음 그림에서 직사각형 ABCD 는 변 BC 가 직선 l 위에 놓여 있고 $\overline{AB} = 6\text{cm}$, $\overline{AD} = 8\text{cm}$, $\overline{AC} = 10\text{cm}$ 이다. 이 직사각형을 직선 l 을 따라 오른쪽으로 한 바퀴 회전시켰을 때 점 A 가 움직인 거리는?



답:

_____ cm