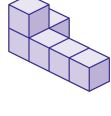
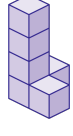


1. 다음 중 쌓기나무의 개수가 다른 것은 어느 것입니까?

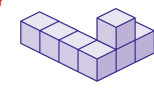
①



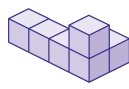
②



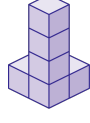
③



④



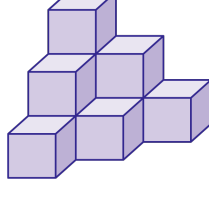
⑤



해설

- ① 6개
- ② 6개
- ③ 7개
- ④ 6개
- ⑤ 6개

2. 규칙에 따라 쌓기나무를 쌓은 것입니다. 쌓기나무를 9층까지 쌓으려면 쌓기나무는 모두 몇 개 필요합니까?



▶ 답:                  개

▶ 정답: 165 개

**해설**  
 $1 + 3 + 6 + 10 + 15 + 21 + 28 + 36 + 45 = 165(\text{개})$

3. 다음 비의 값은 같다고 합니다.  $\ominus$ 과  $\oslash$ 의 차가 16 이라고 할 때,  $\ominus$ 과  $\oslash$ 에 알맞은 수를 차례로 써 보시오.

$$3 : 7 = \ominus : \oslash$$

▶ 답 :

▶ 답 :

▷ 정답 : 12

▷ 정답 : 28

해설

$$\begin{aligned} 3 : 7 &= (3 \times 2) : (7 \times 2) = 6 : 14 \\ &= (3 \times 3) : (7 \times 3) = 9 : 21 \\ &= (3 \times 4) : (7 \times 4) = 12 : 28 \\ 28 - 12 &= 16 \text{ 이므로 } \ominus \text{은 } 12, \oslash \text{은 } 28 \text{ 이다.} \end{aligned}$$

4. 10분에 15km를 달리는 자동차가 있습니다. 이 자동차가 같은 빠르기로 1시간 20분을 달린다면, 몇 km를 달릴 수 있습니까?

- ① 100 km      ② 120 km      ③ 130 km  
④ 140 km      ⑤ 150 km

해설

$$(\text{시간}) : (\text{거리}) = 10 : 15 = 2 : 3$$

$$1 \text{ 시간 } 20 \text{ 분} = 1 \times 60 + 20 = 80 (\text{분})$$

자동차가 달릴 수 있는 거리를  $\square$ 라 하면

$$2 : 3 = 80 : \square$$

$$2 \times \square = 3 \times 80$$

$$\square = 240 \div 2$$

$$\square = 120 (\text{km})$$