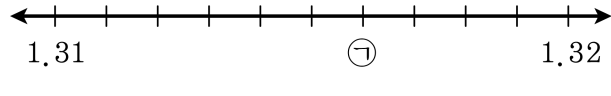


1. 다음 수직선에서 ㉠에 알맞은 수를 기약분수로 나타낸 것으로 올바른 것은 어느 것입니까?



① $1\frac{37}{100}$
④ $1\frac{79}{1000}$

② $1\frac{9}{25}$
⑤ $1\frac{317}{1000}$

③ $1\frac{79}{250}$

2. 다음 분수를 소수로 고치시오.

$$4\frac{7}{16}$$

▶ 답: _____

3. 다음 분수 중에서 분자를 분모로 나누었을 때 나누어 떨어지게 하는 것은 어느 것입니까?

① $\frac{5}{6}$

② $\frac{4}{7}$

③ $\frac{3}{16}$

④ $\frac{5}{18}$

⑤ $\frac{5}{9}$

4. 1.75를 기약분수로 나타낸 것을 고르시오.

- ① $1\frac{75}{100}$ ② $1\frac{15}{20}$ ③ $1\frac{3}{4}$ ④ $2\frac{1}{4}$ ⑤ $2\frac{1}{2}$

5. 다음 소수를 기약분수로 나타낸 것으로 올바른 것은 어느 것입니까?

6.25

- ① $6\frac{1}{5}$ ② $6\frac{4}{5}$ ③ $6\frac{1}{4}$ ④ $6\frac{1}{3}$ ⑤ $6\frac{5}{6}$

6. 높이가 3.645 m인 소나무가 있습니다. 이 소나무의 높이는 몇 m인지 기약분수로 나타내시오.

① $3\frac{189}{200}$ m

② $3\frac{129}{1000}$ m


③ $3\frac{121}{200}$ m

④ $36\frac{9}{20}$ m

⑤ $3\frac{129}{200}$ m


7. 두 수의 크기를 비교하여 ○안에 >, <, 또는 =를 써넣으시오.

$$0.13 \bigcirc \frac{4}{5}$$

 답: _____


8. 아래 ○안에 알맞은 부등호를 써넣으시오.

$$0.24 \bigcirc \frac{12}{50}$$

 답: _____

9. 두 수의 크기를 비교하여 ○안에 >, <, 또는 =를 써 보시오.

$$1\frac{3}{5} \bigcirc 1.9$$

 답: _____

10. 두 수의 크기를 비교 하였을 때, 두 수가 같은 것은 어느 것입니까?

① $0.75, \frac{2}{5}$

② $\frac{10}{25}, 0.12$

③ $0.15, \frac{3}{20}$

④ $\frac{3}{8}, 0.275$

⑤ $1.432, 1\frac{11}{20}$

11. 0.125와 크기가 같은 분수를 모두 고르시오.


- ① $\frac{3}{8}$ ② $\frac{2}{16}$ ③ $\frac{125}{100}$ ④ $\frac{125}{1000}$ ⑤ $\frac{9}{56}$

12. 일주일 동안 순영이는 $2\frac{5}{10}$ L의 우유를 마시고, 무준이는 $2\frac{7}{8}$ L의 우유를 마셨습니다. 일주일동안 누가 얼마나 더 마셨는지 구하시오.

- ① 순영, 2.5 L ② 무준, 0.3L ③ 순영, 0.375L
④ 순영, 0.3L ⑤ 무준, 0.375L


13. 안에 들어갈 두 수의 합을 구하시오.

$$2.1 + 2.1 + 2.1 = \square \times 3 = \square$$

 답: _____


14. $430 \times 260 = 111800$ 임을 알고, 다음 안에 알맞은 수를 써넣으시오.

$$43 \times \text{} = 111.8$$

 답: _____

15. 다음 곱셈을 하시오.

$$0.4 \times 3.6 \times 5$$

 답: _____

16. 다음 네 수의 합을 소수로 나타내시오.

$$\frac{1}{2} + \frac{1}{4} + \frac{1}{8} + \frac{1}{16}$$

 답: _____

17. 다음 중 분자가 분모로 나누어 떨어지는 분수는 어느 것입니까?

① $\frac{14}{49}$

② $\frac{35}{60}$

③ $\frac{17}{25}$

④ $\frac{3}{27}$

⑤ $\frac{25}{31}$

18. 분모가 분자보다 5 더 크고, 소수로 나타내면 0.8 인 분수는 어느 것입니까?

① $\frac{10}{15}$

② $\frac{15}{20}$

③ $\frac{20}{25}$

④ $\frac{25}{30}$

⑤ $\frac{30}{35}$

19. 다음 수 중에서 가장 큰 것은 어느 것인지 구하시오.

① $\frac{2}{5}$

② 0.7

③ $\frac{2}{8}$

④ $1\frac{3}{4}$

⑤ 1.2

20. 다음 중 가장 큰 수는 어느 것입니까?

① $\frac{1}{2}$

② 0.3

③ $\frac{5}{100}$

④ 0.03

⑤ $\frac{3}{5}$

21. 분수 중 0.2 과 0.7 사이에 있는 분모가 5 인 분수를 모두 고르시오.

① $\frac{1}{5}$

② $\frac{2}{5}$

③ $\frac{3}{5}$

④ $\frac{4}{5}$

⑤ $\frac{5}{5}$

22. 분모가 10인 분수 중 크기가 0.5보다 크고 1보다 작은 분수의 합을 구하시오.


▶ 답: _____

23. $\frac{19}{25}$ 에 가장 가까운 수는 어느 것입니까?


- ① 0.7 ② $1\frac{1}{2}$ ③ $\frac{31}{40}$ ④ 0.96 ⑤ 1.24


24. 안에 알맞은 수를 차례대로 써넣으시오.

$$7.2 \times 6 = \frac{\square}{10} \times 6 = \frac{\square \times 6}{10} = \frac{\square}{10} = \square$$

 답: _____


 답: _____

 답: _____

 답: _____


25. $27 \times 183 = 4941$ 입니다. 이를 이용하여 안에 알맞은 수를 써넣으시오.

$$0.27 \times 183 = \text{$$

 답: _____

26. $27 \times 183 = 4941$ 입니다. 이를 이용하여 안에 알맞은 수를 써넣으시오.

$$0.027 \times 183 = \text{$$

 답: _____

27. $389 \times 49 = 19061$ 일때, 소수점이 잘못 찍힌 것은 어느 것입니까?

① $389 \times 4.9 = 1906.1$

② $389 \times 0.049 = 1.9061$

③ $389 \times 0.49 = 190.61$

④ $3.89 \times 49 = 190.61$

⑤ $0.389 \times 49 = 19.061$

28. 다음 중 계산 결과가 바르지 못한 것은 어느것입니까?

① $5.93 \times 1000 = 5930$

② $4.5 \times 10000 = 45000$


③ $70.4 \times 0.001 = 0.704$

④ $150 \times 0.01 = 1.5$

⑤ $32.4 \times 0.1 = 3.24$

29. 다음 식을 보고 $\frac{1}{7}$ 의 값을 구하시오.

$$2.6 \times 1.28 = \frac{26}{10} \times \frac{128}{100} = \frac{3328}{1000} = 3.328$$

 답: _____

30. 다음 중 계산 결과가 다른 하나는 어느 것입니까?

- ① 7580×0.04 ② 75800×0.004 ③ 758×0.4
④ 75.8×4 ⑤ 758×0.04

31. 다음 중 곱의 소수점의 위치가 소수점 아래 세 자리 수인 것은 어느 것인지 고르시오.

- ① 4.3×6.762 ② 4.35×0.45 ③ 2.56×7.34
④ 5.12×7.56 ⑤ 0.38×0.6

32. 다음에서 곱이 작은 순서대로 그 기호를 쓰시오.

㉠ 45.3×206.3

㉡ 4.52×20.63

㉢ 452×2.06

㉣ 4520×0.2

▶ 답: _____

▶ 답: _____

▶ 답: _____

▶ 답: _____

33. 계산결과를 보고 가장 큰 수와 가장 작은 수의 차를 구하시오.

㉠ $1.5 \times 0.6 \times 3$

㉡ $5.8 \times 0.6 \times 5$

㉢ $0.7 \times 0.05 \times 4$

㉣ $4.3 \times 0.8 \times 3$


㉤ $0.33 \times 7.2 \times 6$

㉥ $5.8 \times 2.7 \times 3$

 답: _____

34. ○ 안에 >, =, <를 알맞게 써넣으시오.

$$5.28 \times 0.8 \quad \bigcirc \quad 4.89 \times 1.2$$

 답: _____

35. 1 시간에 기차는 80.5 km를 가고, 자동차는 60.8 km를 갑니다. 기차와 자동차가 동시에 출발하여 같은 방향으로 3 시간 30 분 동안 간다면, 어느 것이 몇 km더 멀리 가는지 차례대로 쓰시오.

▶ 답: _____

▶ 답: _____ km

36. 다음 분수 중 소수 세 자리 숫자로 나타낼 수 없는 수로 짝지어진 것은 어느 것입니까?

㉠ $\frac{47}{200}$	㉡ $\frac{2300}{10}$	㉢ $\frac{10}{16}$
㉣ $\frac{15}{8}$	㉤ $\frac{120}{125}$	

- ① ㉠, ㉣ ② ㉠, ㉡ ③ ㉡, ㉢ ④ ㉠, ㉢ ⑤ ㉡, ㉤

37. 다음 수들의 합을 기약분수로 바르게 나타낸 것은 어느 것입니까?

$$\begin{cases} 0.1\text{이 } 387\text{인 수} \\ \frac{1}{100}\text{이 } 106\text{인 수} \\ 0.001\text{이 } 115\text{인 수} \end{cases}$$

- ① $3\frac{7}{8}$ ② $29\frac{7}{8}$ ③ $39\frac{5}{8}$ ④ $39\frac{7}{8}$ ⑤ $29\frac{5}{8}$

38. 분수와 소수가 같은 것끼리 바르게 연결한 것은 어느 것입니까?

(1) 4.64	㉠ $4\frac{17}{40}$
(2) 4.25	㉡ $4\frac{1}{4}$
(3) 4.425	㉢ $4\frac{16}{25}$

- ① (1) - ㉠ (2) - ㉢ (3) - ㉡ ② (1) - ㉡ (2) - ㉢ (3) - ㉠
③ (1) - ㉢ (2) - ㉡ (3) - ㉠ ④ (1) - ㉡ (2) - ㉢ (3) - ㉠
⑤ (1) - ㉡ (2) - ㉢ (3) - ㉡


39. 분수와 소수를 규칙에 따라 늘어 놓았습니다. □안에 알맞은 소수를 써넣으시오.

0.6, 1, $1\frac{2}{5}$, 1.8, $2\frac{1}{5}$, □

▶ 답: _____

40. 두 수의 크기를 비교하여 >, =, <로 나타내시오.

$$0.56 + 1\frac{8}{45} \bigcirc 5\frac{1}{3}$$

 답: _____

41. 경석이네 집에는 매일 0.75L 짜리 우유와 0.68L 짜리 주스가 하나씩 배달됩니다. 9월 한 달 동안 경석이네 집에 배달된 우유와 주스는 모두 몇 L인지 구하시오.

▶ 답: _____ L

42. $295 \times 180 = 53100$ 임을 알고 안에 알맞은 수를 넣을 때,

안의 수가 가장 작은 것은 어느 것입니까?

① $\times 18 = 5.31$

② $29.5 \times$ $= 53100$

③ $\times 0.18 = 53.1$

④ $2.95 \times$ $= 531$

⑤ $\times 0.18 = 531$

43. $328 \times 14 = 4592$ 일 때 틀린 것을 고르시오.

① $328 \times 1.4 = 459.2$

② $32.8 \times 0.14 = 45.92$

③ $328 \times 0.14 = 45.92$

④ $3.28 \times 1.4 = 4.592$

⑤ $3.28 \times 14 = 45.92$

44. 계산 결과가 작은 순서대로 기호를 쓰시오.

㉠ 14.86×2.4	㉡ 5.03×3.5	㉢ 12.43×0.76
㉣ 4.48×7.9	㉤ 0.09×30.5	

▶ 답: _____

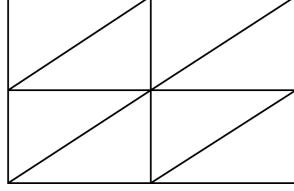
▶ 답: _____

▶ 답: _____

▶ 답: _____


▶ 답: _____

45. 밑변이 4.8 cm , 높이가 3.5 cm 인 직각삼각형 모양의 색종이 8 장을 그림과 같이 겹치는 부분 없이 이어 붙여서 직사각형을 만들었습니다. 만들어진 직사각형의 넓이는 몇 cm^2 인지 구하시오.



▶ 답: _____ cm^2


46. $\frac{2}{3}$ 의 분모와 분자에 같은 수를 더하였더니 0.875가 되었습니다. 더한 수를 구하시오.

 답: _____

47. 영순이가 어떤 노끈을 3등분하여 하나를 사용하고, 다음 날 명진이가 남은 노끈을 5등분하여 3개를 사용하고 남은 길이가 80m입니다. 원래 노끈의 전체의 길이는 몇 m입니까?

▶ 답: _____ m

48. 0.75 와 $\frac{4}{5}$ 사이의 분수 중에서 분모가 40 인 분수를 찾아 쓰시오.

 답: _____

49. 사과, 배, 귤을 담은 상자가 있습니다. 사과 상자와 배 상자의 무게의 합은 $10\frac{17}{20}$ kg, 배 상자와 귤 상자의 무게의 합은 $11\frac{3}{5}$ kg, 세 상자의 무게의 합은 16.75kg 입니다. 세 상자의 무게가 무거운 순서대로 쓰시오.

▶ 답: _____

▶ 답: _____

▶ 답: _____

50. 숫자 2개를 이용하여 다음과 같은 소수의 곱셈을 계산하였습니다. $n + n$ 은 얼마입니까?

$$\begin{array}{r}
 \square\square \\
 \times \square\square \\
 \hline
 \square\square\square \\
 \square\square\square \\
 \hline
 2\square.01
 \end{array}$$

- ① 2 ② 7 ③ 10 ④ 14 ⑤ 18