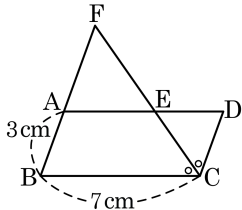


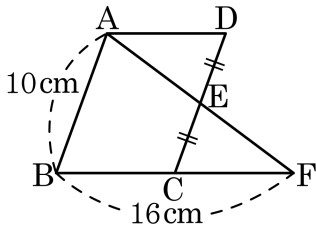
1. 다음 그림과 같은 평행사변형 ABCD 에서 $\angle C$ 의 이등분선이 \overline{AD} 와 \overline{BA} 의 연장선과 만나는 점을 각각 E, F 라 하자. $\overline{AB} = 3\text{ cm}$, $\overline{BC} = 7\text{ cm}$ 일 때, \overline{AF} 의 길이를 구하여라.



답:

_____ cm

2. 오른쪽 그림과 같은 평행사변형 ABCD 에서 \overline{CD} 의 중점을 E , \overline{AE} 의 연장선과 \overline{BC} 의 연장선의 교점을 F 라 할 때, \overline{AD} 의 길이를 구하여라.



- ① 4 cm ② 5 cm ③ 6 cm ④ 9 cm ⑤ 8 cm

3. 평행사변형 ABCD 에서 \overline{AF} , \overline{BE} 는 각각 $\angle A$ 와 $\angle B$ 의 이등분선이다. $\angle AEB + \angle AFB$ 의 크기는?

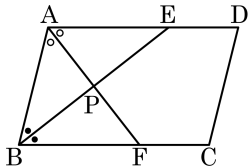
① 70°

② 75°

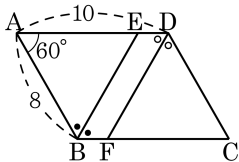
③ 80°

④ 85°

⑤ 90°

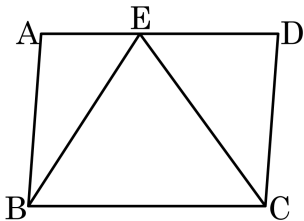


4. 다음 그림과 같은 평행사변형 ABCD 에서 $\angle B$ 와 $\angle D$ 의 이등분선일 때, $\square BEDF$ 의 둘레의 길이를 구하여라.



답: _____

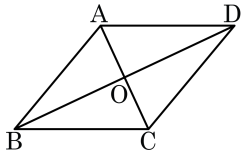
5. 다음 그림과 같은 평행사변형 ABCD 의 넓이는 168 cm^2 이다.
 $\overline{AE} : \overline{ED} = 5 : 7$ 일 때, $\triangle ABE$ 와 $\triangle ECD$ 의 넓이를 차례대로 써라.



> 답: _____ cm^2

> 답: _____ cm^2

6. 다음 그림과 같은 평행사변형 ABCD 가 마름모가 되는 조건이 아닌 것을 모두 고르면?
(2 개)



① $\overline{AC} = \overline{BD}$

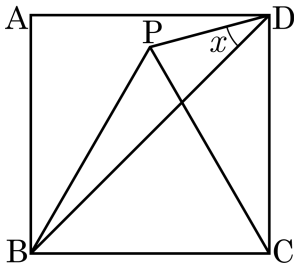
② $\overline{AB} = \overline{AD}$

③ $\angle BCD = \angle CDA$

④ $\angle ABD = \angle DBC$

⑤ $\overline{AC} \perp \overline{BD}$

7. 다음 그림에서 $\square ABCD$ 는 정사각형이고,
 $\triangle PBC$ 는 정삼각형일 때, $\angle x = ()^\circ$ 이다.
 () 안에 들어갈 알맞은 수를 구하여라.



① 10°

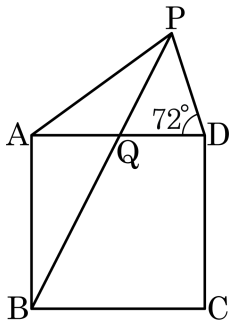
② 15°

③ 20°

④ 25°

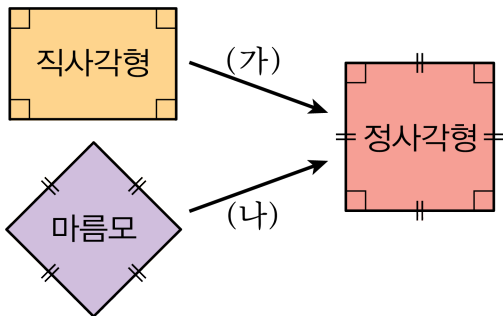
⑤ 30°

8. 다음 그림에서 $\square ABCD$ 는 정사각형이다. $\overline{AD} = \overline{AP}$ 이고 $\angle ADP = 72^\circ$ 일 때, $\angle AQB$ 의 크기를 구하여라.



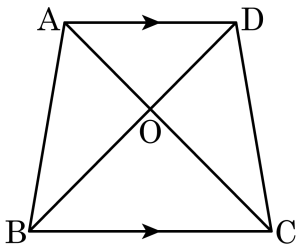
> 답: _____^o

9. 다음 그림에서 정사각형이 되기 위해 추가되어야 하는 (가), (나)의 조건으로 알맞은 것을 고르면?



- ① (가) 이웃하는 두 각의 크기가 같다.
(나) 두 대각선이 서로 수직이다.
- ② (가) 두 대각선의 길이가 같다.
(나) 한 내각의 크기가 90° 이다.
- ③ (가) 두 대각선이 서로 수직이다.
(나) 이웃하는 두 변의 길이가 같다.
- ④ (가) 두 대각선의 길이가 같다.
(나) 이웃하는 두 변의 길이가 같다.
- ⑤ (가) 두 대각선이 서로 수직이다.
(나) 이웃하는 두 각의 크기가 같다.

10. 다음 그림의 등변사다리꼴 ABCD에 대한 설명 중 옳지 않은 것은?



- ① $\overline{AC} = \overline{DB}$
- ② $\overline{AB} = \overline{DC}$
- ③ $(\triangle ABD \text{의 넓이}) = (\triangle DCA \text{의 넓이})$
- ④ $\triangle ABC \cong \triangle DCB$
- ⑤ $\triangle OBC$ 는 정삼각형이다.

11. 다음 중 옳은 것은?

- ① 등변사다리꼴에서 두 대각선은 서로 다른 것을 이등분한다.
- ② 평행사변형에서 두 대각선의 길이는 같다.
- ③ 직사각형의 두 대각선은 서로 수직으로 만난다.
- ④ 마름모의 두 대각선은 내각을 이등분한다.
- ⑤ 평행사변형은 두 대각선은 평행으로 만난다.

12. 다음 중 옳은 것은?

- ① $\overline{AC} \perp \overline{BD}$ 인 평행사변형 ABCD는 직사각형이다.
- ② $\overline{AB} = \overline{BC}$ 인 평행사변형 ABCD는 직사각형이다.
- ③ $\angle A = 90^\circ$ 인 평행사변형 ABCD는 마름모이다.
- ④ $\overline{AB} = \overline{BC}, \overline{AC} = \overline{BD}$ 인 평행사변형 ABCD는 정사각형이다.
- ⑤ $\angle B + \angle D = 180^\circ, \overline{AC} \perp \overline{BD}$ 인 평행사변형 ABCD는 마름모이다.

13. 다음 보기의 사각형 중에서 두 대각선이 서로 다른 것을 수직이등분하는 것을 모두 고르면?

보기

㉠ 등변사다리꼴

㉡ 평행사변형

㉢ 직사각형

㉣ 마름모

㉤ 정사각형

㉥ 사다리꼴

① ㉠, ㉢

② ㉣, ㉤

③ ㉠, ㉡, ㉣

④ ㉠, ㉢, ㉣

⑤ ㉢, ㉣, ㉤, ㉥

14. 이차방정식 $ax^2 + bx + 4 = 0$ 의 한 근을 k 라고 할 때, $ak^2 + bk + 1$ 의 값을 구하여라.



답: _____

15. 이차방정식 $(3x - 2)(2x + 3) = 0$ 을 풀면?

① $x = 2$ 또는 $x = -3$

② $x = -2$ 또는 $x = 3$

③ $x = \frac{2}{3}$ 또는 $x = -\frac{3}{2}$

④ $x = -\frac{2}{3}$ 또는 $x = \frac{3}{2}$

⑤ $x = 2$ 또는 $x = -\frac{3}{2}$

16. 이차방정식 $x^2 + 3x - 28 = 0$ 을 풀면?

① $x = 4$ 또는 $x = -7$

② $x = -4$ 또는 $x = 7$

③ $x = -4$ 또는 $x = -1$

④ $x = 3$ 또는 $x = -1$

⑤ $x = 1$ 또는 $x = -3$

17. $(2x + 3) : (x - 3) = x : 4$ 를 만족하는 x 의 값을 각각 a, b 라고 할 때,
 $a + b$ 의 값을 구하여라.



답: $a + b =$ _____

18. 이차방정식 $3x^2 - 4x - 4 = 0$ 의 두 근을 a, b 라 할 때, $a + b - ab$ 의 값을 구하면?

① 0

② 1

③ $-\frac{8}{3}$

④ -1

⑤ $\frac{8}{3}$

19. 이차방정식 $2x + 5 = x^2 + 4x + m$ 이 중근을 갖도록 m 의 값을 구하여라.



답: $m =$ _____

20. x 에 대한 이차방정식 $x^2 + 8x + 15 - k = 0$ 이 중근을 가질 때, 상수 k 의 값은?

① $k = -1$

② $k = 1$

③ $k = -2$

④ $k = 2$

⑤ $k = 0$

21. 이차방정식 $(x - 3)(2x - 5) = 5x - 4$ 를 $(x - p)^2 = k$ 의 꼴로 나타낼 때, $k - p$ 의 값을 구하여라.



답: _____

22. 다음은 이차방정식 $ax^2 + bx + c = 0$ ($a \neq 0$) 을 푸는 과정이다. ① ~ ⑤에 들어갈 식이 바르지 못한 것은?

$$ax^2 + bx + c = 0$$

$$x^2 + \frac{b}{a}x = -\frac{c}{a}$$

$$x^2 + \frac{b}{a}x + \textcircled{1} = -\frac{c}{a} + \textcircled{1}$$

$$(x + \textcircled{2})^2 = \textcircled{3}$$

$$x = \textcircled{4} \pm \textcircled{5}$$

$$\textcircled{1} \quad \frac{b^2}{4a^2}$$

$$\textcircled{2} \quad \frac{b}{2a}$$

$$\textcircled{3} \quad \frac{b^2 - 4ac}{2a}$$

$$\textcircled{4} \quad -\frac{b}{2a}$$

$$\textcircled{5} \quad \frac{\sqrt{b^2 - 4ac}}{2a}$$

23. 이차방정식 $3x^2 + 7x + 1 = 0$ 의 해가 $\frac{B \pm \sqrt{C}}{A}$ 일 때, $A + B + C$ 의 값을 구하여라. (단, A, B 는 서로소)



답: _____

24. 이차방정식 $-x + 0.4(x^2 + 1) = -\frac{1}{3}(x - 1)(2x + 3)$ 의 두 근을 α, β 라고 할 때, $\alpha - \beta$ 의 값은? (단, $\alpha < \beta$)

① $\frac{10}{3}$

② $-\frac{8}{3}$

③ -1

④ 3

⑤ $-\frac{13}{8}$

25. 다음 이차방정식의 근을 구하면?

$$0.5(x - 2)(x + 1) = \frac{1}{3}(x - 2)^2$$

① 1, -7

② -7, 2

③ -4, 9

④ 3, -5

⑤ 14, 1