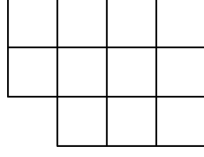
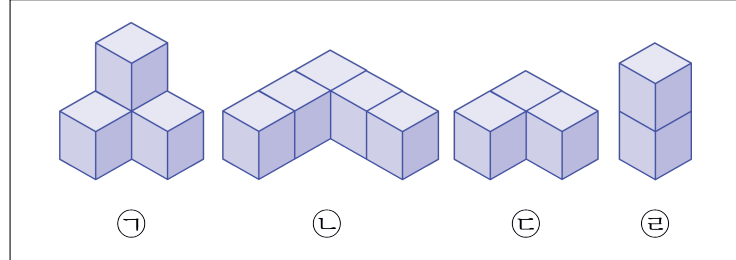
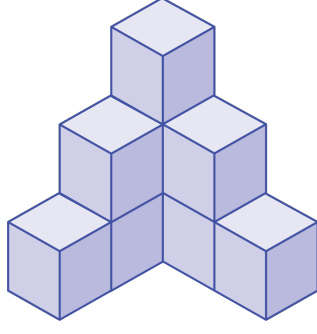


1. 다음은 쌓기나무를 위에서 내려다 본 모양입니다. 1층에 쌓기나무 개수는 몇 개입니까?



- ① 13개 ② 12개 ③ 11개 ④ 10개 ⑤ 9개

2. 쌓기나무 9 개를 다음 그림과 같이 쌓았습니다. 맨 아랫층의 모양은 어느 것입니까?



▶ 답: _____

3. 125 개의 쌓기나무로 정육면체 모양을 만든 뒤 모든 면에 빨간색을 칠했습니다. 2개의 면에 색이 칠해진 쌓기나무는 몇 개입니까?

▶ 답: _____ 개