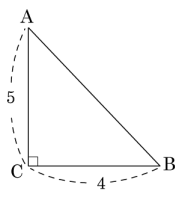


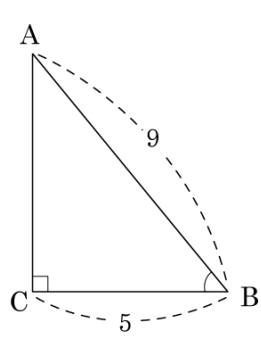
1. 다음 그림과 같은 직각삼각형 $\triangle ABC$ 에서 $\sin A$ 의 값은 얼마인가?




- ① $\frac{2\sqrt{41}}{41}$ ② $\frac{3\sqrt{41}}{41}$ ③ $\frac{4\sqrt{41}}{41}$
④ $\frac{5\sqrt{41}}{41}$ ⑤ $\frac{6\sqrt{41}}{41}$

2. 다음과 같이 $\angle C$ 가 90° 인 직각삼각형 $\triangle ABC$ 에서 $\cos B$ 의 값은?

- ① $\frac{5}{9}$ ② $\frac{9}{5}$ ③ $\frac{5}{8}$
④ $\frac{4}{5}$ ⑤ $\frac{2}{9}$



3. $\cos A = \frac{3}{5}$ 일 때, $\sin A + \tan A$ 의 값을 구하여라.(단, $\angle A$ 는 예각)

 답: _____

4. $\sin 0^\circ \times \cos 60^\circ + \cos 0^\circ \times \tan 45^\circ - \sin 45^\circ \times \tan 60^\circ$ 是?

① $1 - \frac{\sqrt{3}}{2}$

② $1 + \frac{\sqrt{3}}{2}$


③ $1 - \frac{\sqrt{6}}{2}$

④ $1 + \frac{\sqrt{6}}{2}$

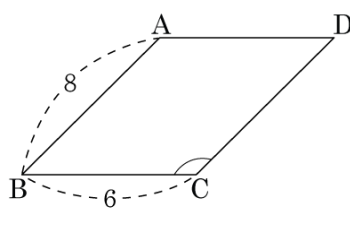
⑤ $2 - \frac{\sqrt{3}}{2}$

5. 다음 중 옳은 것을 고르시오.

- ㉠ $\sin 0^\circ = \cos 0^\circ = \tan 0^\circ$
- ㉡ $\sin 45^\circ = \cos 45^\circ = \tan 45^\circ$
- ㉢ $\sin 90^\circ = \cos 90^\circ = \tan 90^\circ$
- ㉣ $\sin 90^\circ = \cos 0^\circ = \tan 45^\circ$
- ㉤ $\sin 0^\circ = \cos 90^\circ = \tan 90^\circ$

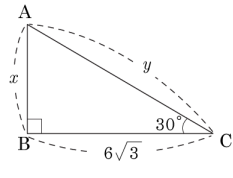
 답: _____

6. 다음 그림의 평행사변형 ABCD의 넓이가 $24\sqrt{2}\text{cm}^2$ 일 때, $\angle C$ 의 크기를 구하여라. (단, $\angle C > 90^\circ$)



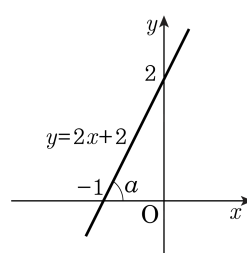
▶ 답: _____ °

7. 다음 그림에서 $y-x$ 의 값은?



- ① 18 ② 15 ③ 12 ④ 9 ⑤ 6

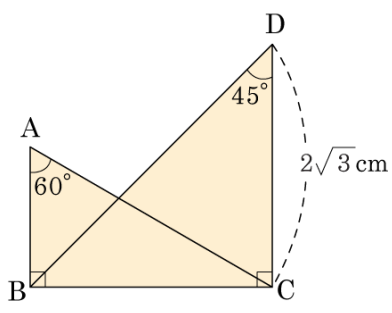
8. 다음 그림과 같이 직선 $y = 2x + 2$ 와 x 축의 양의 방향이 이루는 각의 크기를 a 라 할 때, $\tan a$ 값을 구하여라.



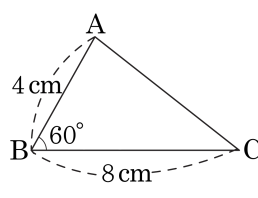
▶ 답: _____

9. 다음 그림과 같이 두 개의 서로 다른 직각삼각형이 겹쳐져 있다. 이 때, \overline{AB} 의 길이를 구하여라.

- ① $\sqrt{3}$ cm ② 2 cm
 ③ $2\sqrt{3}$ cm ④ 3 cm
 ⑤ $3\sqrt{3}$ cm

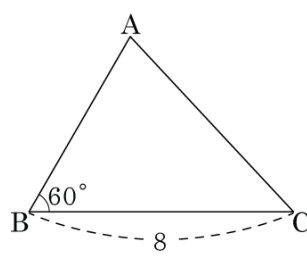


10. 다음 그림과 같은 $\triangle ABC$ 에서 $\overline{AB} = 4\text{cm}$, $\overline{BC} = 8\text{cm}$, $\angle B = 60^\circ$ 일 때, \overline{AC} 의 길이는?



- ① $4\sqrt{3}\text{cm}$ ② $5\sqrt{3}\text{cm}$
③ $6\sqrt{3}\text{cm}$ ④ $5\sqrt{2}\text{cm}$
⑤ 7cm

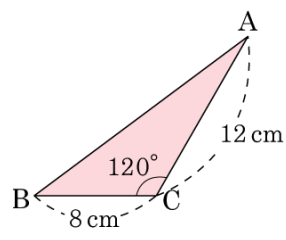
11. 다음 그림의 $\triangle ABC$ 에서 $\overline{BC} = 8$, $\angle B = 60^\circ$ 이고 넓이가 $8\sqrt{3}$ 일 때, \overline{AB} 의 길이를 구하여라.



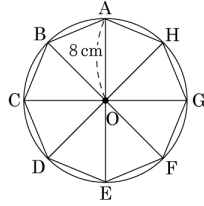
▶ 답: _____

12. 다음 그림의 삼각형의 넓이를 옳게 구한 것은?

- ① 24cm^2
- ② $24\sqrt{2}\text{cm}^2$
- ③ $24\sqrt{3}\text{cm}^2$
- ④ 48cm^2
- ⑤ $48\sqrt{2}\text{cm}^2$

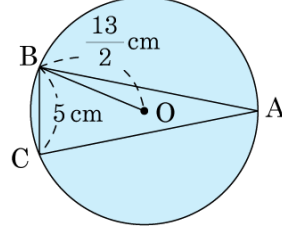


13. 다음 그림과 같이 반지름의 길이가 8cm 인 원에 내접하는 정팔각형의 넓이를 구하여라.



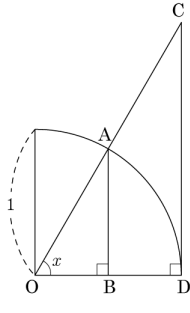
▶ 답: _____ cm^2

14. 다음 그림과 같이 반지름의 길이가 $\frac{13}{2}$ cm 인 원에 내접하는 삼각형 ABC 에서 $\cos A \times \tan A$ 의 값이 $\frac{a}{b}$ 이다. $a + b$ 의 값을 구하여라. (단, a, b 는 서로소)



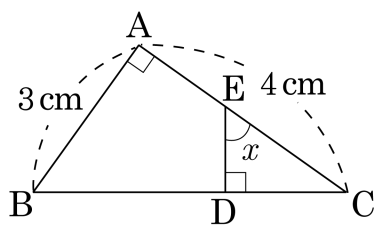
▶ 답: _____

15. 그림과 같이 반지름의 길이가 1 인 사분원에서 $\tan x$ 를 나타내는 선분은?



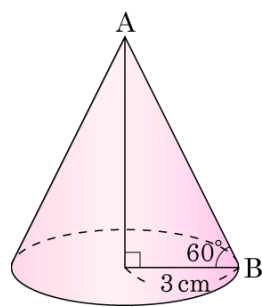
- ① \overline{AB} ② \overline{CD} ③ \overline{OB} ④ \overline{OD} ⑤ \overline{BD}

16. 다음 그림에서 $\sin x$ 의 값은?



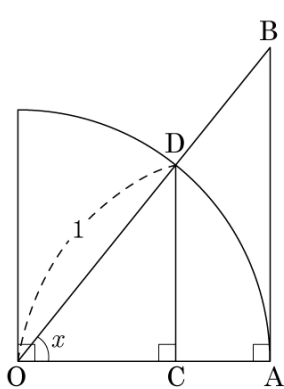
- ① $\frac{4}{5}$ ② $\frac{5}{3}$ ③ $\frac{1}{4}$ ④ $\frac{1}{2}$ ⑤ $\frac{3}{5}$

17. 다음 그림과 같이 밑면의 반지름의 길이가 3 cm 이고 모선과 밑면이 이루는 각의 크기가 60° 인 원뿔의 부피를 구하면?



- ① $6\sqrt{2}\pi\text{ cm}^3$ ② $7\sqrt{3}\pi\text{ cm}^3$ ③ $9\sqrt{3}\pi\text{ cm}^3$
 ④ $11\sqrt{2}\pi\text{ cm}^3$ ⑤ $27\pi\text{ cm}^3$

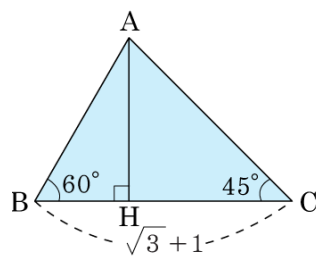
18. 다음 그림과 같이 반지름의 길이가 1 인 사분원에서 $OC = 0.59$ 일 때, CD 의 길이를 구하면?



각도	사인	코사인	탄젠트
53°	0.80	0.60	1.33
54°	0.81	0.59	1.38
55°	0.82	0.57	1.43
56°	0.83	0.56	1.48

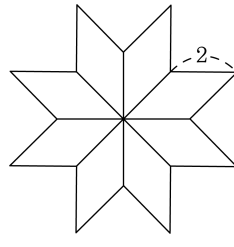
- ① 0.57 ② 1.38 ③ 0.59 ④ 0.82 ⑤ 0.81

19. 다음 그림의 $\triangle ABC$ 에서 $\angle ABH = 60^\circ$, $\angle ACH = 45^\circ$, $\overline{BC} = \sqrt{3} + 1$ 일 때, \overline{AH} 의 길이를 x 라 하면 x^2 을 구하면?



- ① 2.2 ② 3 ③ 3.5 ④ 4 ⑤ 4.5

20. 다음 그림은 여덟 개의 합동인 마름모로 이루어진 별모양이다. 마름모의 한 변의 길이가 2일 때, 별의 넓이의 제곱값은?



- ① $16\sqrt{2}$ ② 128 ③ $128\sqrt{2}$
 ④ 512 ⑤ $512\sqrt{2}$