

1. 다음 중 몫이 가장 작은 것은 어느 것입니까?

① $\frac{10}{11} \div \frac{2}{11}$

② $4 \div \frac{1}{15}$

③ $6 \div \frac{1}{5}$

④ $\frac{6}{7} \div \frac{3}{7}$

⑤ $\frac{5}{8} \div \frac{2}{8}$

해설

① $\frac{10}{11} \div \frac{2}{11} = 10 \div 2 = 5$

② $4 \div \frac{1}{15} = 4 \times \frac{15}{1} = 60$

③ $6 \div \frac{1}{5} = 6 \times \frac{5}{1} = 30$

④ $\frac{6}{7} \div \frac{3}{7} = 6 \div 3 = 2$

⑤ $\frac{5}{8} \div \frac{2}{8} = 5 \div 2 = \frac{5}{2} = 2\frac{1}{2}$

2. 다음을 계산한 값 중 가장 큰 것은 어느 것입니까?

- ① $8 \div \frac{1}{2}$ ② $3 \div \frac{1}{3}$ ③ $4 \div \frac{1}{5}$ ④ $5 \div \frac{1}{7}$ ⑤ $5 \div \frac{1}{8}$

해설

① $8 \div \frac{1}{2} = 8 \times 2 = 16$

② $3 \div \frac{1}{3} = 3 \times 3 = 9$

③ $4 \div \frac{1}{5} = 4 \times 5 = 20$

④ $5 \div \frac{1}{7} = 5 \times 7 = 35$

⑤ $5 \div \frac{1}{8} = 5 \times 8 = 40$

3. 다음을 표현했을 때 나머지 것과 다른 하나는 어느 것입니까?

- ① 4와 5의 비
- ② 4대 5
- ③ 4의 5에 대한 비
- ④ 4에 대한 5의 비
- ⑤ 5에 대한 4의 비

해설

①, ②, ③, ⑤는 4 : 5이고, ④는 5 : 4입니다.

4. 연필 한 다스에 대한 5자루의 비를 잘못 나타낸 것은 어느 것입니까?

① 12에 대한 5의 비

② 5와 12의 비

③ 5 : 12

④ 12의 5에 대한 비

⑤ $\frac{5}{12}$

해설

연필 한 다스는 12자루 이며, 기준량이 됩니다.

④번에서 12의 5에 대한 비는 5가 기준량이 되므로 잘못 되었습니다.

5. 굴이 25개, 사과가 15개 있습니다. 굴의 개수에 대한 사과의 개수의 비의 값을 기약분수로 바르게 나타낸 것을 고르시오.

- ① $\frac{15}{25}$ ② $\frac{25}{15}$ ③ $\frac{3}{5}$ ④ $\frac{5}{3}$ ⑤ $\frac{5}{8}$

해설

굴의 개수는 기준량이고 사과의 개수는 비교하는 양입니다. 굴의 개수에 대한 사과의 개수의 비의 값은

$$15 : 25 = \frac{15}{25} = \frac{3}{5} \text{입니다.}$$

6. 길이가 $\frac{3}{5}$ m인 리본이 있습니다. 이 리본을 $\frac{2}{5}$ m씩 자른다고 하면 리본은 모두 몇 도막이 되는지 구하시오.

▶ **답:** 도막

▷ **정답:** $1\frac{1}{2}$ 도막

해설

$$\frac{3}{5} \div \frac{2}{5} = \frac{3}{2} = 1\frac{1}{2}$$

7. 크기를 비교하여 ○ 안에 >, =, <를 알맞게 써넣으시오.

$$3\frac{1}{3} \div 4\frac{1}{6} \bigcirc 5\frac{5}{8} \div 3\frac{3}{4}$$

▶ 답:

▷ 정답: <

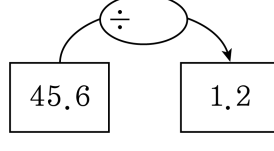
해설

$$3\frac{1}{3} \div 4\frac{1}{6} = \frac{10}{3} \div \frac{25}{6} = \frac{10}{3} \times \frac{6}{25} = \frac{4}{5}$$

$$5\frac{5}{8} \div 3\frac{3}{4} = \frac{45}{8} \div \frac{15}{4} = \frac{45}{8} \times \frac{4}{15} = \frac{3}{2} = 1\frac{1}{2}$$

따라서 $\frac{4}{5} < 1\frac{1}{2}$

8. 빈 칸에 알맞은 수를 써넣으시오.



▶ 답:

▷ 정답: 38

해설

$$45.6 \div \square = 1.2$$

$$\square = 45.6 \div 1.2 = 38$$

9. 다음 나눗셈 중 몫이 가장 큰 것은 어느 것입니까?

- ① $12.47 \div 29$ ② $53.55 \div 8.5$ ③ $7.56 \div 2.1$
④ $5.544 \div 2.31$ ⑤ $25.41 \div 12.1$

해설

- ① $12.47 \div 29 = 0.43$
② $53.55 \div 8.5 = 535.5 \div 85 = 6.3$
③ $7.56 \div 2.1 = 75.6 \div 21 = 3.6$
④ $5.544 \div 2.31 = 554.4 \div 231 = 2.4$
⑤ $25.41 \div 12.1 = 254.1 \div 121 = 2.1$

10. 새 연필의 무게는 113.28g이고, 몽당 연필의 무게의 3.2배라고 합니다. 몽당 연필의 무게는 몇 g입니까?

▶ 답: g

▷ 정답: 35.4g

해설

$$113.28 \div 3.2 = 35.4 \text{ (g)}$$

11. $19.58 \div 8.7$ 을 자연수 부분까지 구했을 때 검산식으로 바른 것은 어느 것인지 고르시오.

① $8.7 \times 2 + 0.18$

② $8.7 \times 2 + 2.1$

③ $8.7 \times 2 + 0.218$

④ $8.7 \times 2 + 2.18$

⑤ $8.7 \times 2 + 0.21$

해설

소수의 나눗셈을 계산하여, 몫과 나머지를 확인합니다.
<검산식> : (몫) \times (나누는수) + (나머지) = (나누어지는수)
따라서 $19.58 \div 8.7 = 2 \cdots 2.18$ 의 검산식은
 $8.7 \times 2 + 2.18$ 입니다.

12. 안에 알맞은 수를 써넣으시오.

$$\square \div 4.2 = 2.9 \cdots 0.14$$

▶ 답 :

▷ 정답 : 12.32

해설

나눗셈의 곱산식을 이용하여 나누어지는 수를 구합니다.

$$\square = 4.2 \times 2.9 + 0.14 = 12.32$$

13. 다음 중 기준량이 비교하는 양보다 작은 것을 모두 고르시오.

① 0.95

② 115%

③ $\frac{100}{103}$

④ 39%

⑤ 6.48

해설

기준량과 비교량이 같은 경우는 비의 값이 1 입니다.
비의 값이 1보다 크면, 비교하는 양이 기준량보다 많은 것입니다.

② $115\% = 1.15 > 1$

⑤ $6.48 > 1$

14. 6학년의 학생 중 40%이 체육을 좋아하고, 체육을 좋아하는 학생 중 24.5%가 야구를 좋아한다고 합니다. 야구를 좋아하는 학생이 49명이려면, 6학년 전체 학생 수는 몇 명입니까?

▶ 답: 명

▶ 정답: 500명

해설

6학년 전체 학생 수를 \square 라고 하면

$$\square \times 0.4 \times 0.245 = 49$$

$$\square = 49 \div 0.098$$

$$\square = 500(\text{명})$$

15. 다음 나눗셈 중 몫이 1보다 작은 것은 어느 것입니까?

$$\textcircled{㉠} 4 \div \frac{1}{8} \quad \textcircled{㉡} \frac{3}{4} \div \frac{5}{6} \quad \textcircled{㉢} 4\frac{6}{7} \div 3\frac{2}{5} \quad \textcircled{㉣} 1\frac{3}{8} \div 4\frac{2}{5}$$

- ① ㉠, ㉡ ② ㉠, ㉣ ③ ㉠, ㉣ ④ ㉡, ㉣ ⑤ ㉡, ㉣

해설

$$\textcircled{㉠} 4 \div \frac{1}{8} = 4 \times 8 = 32$$

$$\textcircled{㉡} \frac{3}{4} \div \frac{5}{6} = \frac{3}{4} \times \frac{6}{5} = \frac{9}{10}$$

$$\textcircled{㉢} 4\frac{6}{7} \div 3\frac{2}{5} = \frac{34}{7} \times \frac{5}{17} = 1\frac{3}{7}$$

$$\textcircled{㉣} 1\frac{3}{8} \div 4\frac{2}{5} = \frac{11}{8} \times \frac{5}{22} = \frac{5}{16}$$

따라서 몫이 1보다 작은 것은 ㉡과 ㉣입니다.

16. 다음 식을 보고, 다의 값을 구하시오.

$$\text{가} \div \text{다} = 4\frac{2}{5} \quad \text{나} \div \text{가} = \frac{1}{3} \quad \text{나} = 2\frac{1}{4} \div \frac{5}{7}$$

- ① $2\frac{11}{88}$ ② $2\frac{23}{88}$ ③ $\frac{15}{88}$ ④ $2\frac{13}{88}$ ⑤ $1\frac{13}{88}$

해설

$$\text{나} = 2\frac{1}{4} \div \frac{5}{7} = \frac{9}{4} \div \frac{5}{7} = \frac{9}{4} \times \frac{7}{5} = \frac{63}{20}$$

$$\text{나} \div \text{가} = \frac{63}{20} \div \text{가} = \frac{1}{3} \text{ 이므로}$$

$$\text{가} = \frac{63}{20} \div \frac{1}{3} = \frac{63}{20} \times 3 = \frac{189}{20}$$

$$\text{가} \div \text{다} = \frac{189}{20} \div \text{다} = 4\frac{2}{5} \text{ 이므로}$$

$$\text{다} = \frac{189}{20} \div \frac{22}{5} = \frac{189}{20} \times \frac{5}{22} = \frac{189}{88} = 2\frac{13}{88}$$

17. 나눗셈의 몫을 반올림하여 소수 둘째 자리까지 구한 값과 소수 셋째 자리까지 구한 값의 차를 구하시오.

$$62.2 \div 9.8$$

▶ 답 :

▷ 정답 : 0.003

해설

$$62.2 \div 9.8 = 6.3469\dots$$

반올림하여 소수 둘째 자리까지 구하면 6.35 이고,

반올림하여 소수 셋째 자리까지 구하면 6.347 입니다.

$$\rightarrow 6.35 - 6.347 = 0.003$$

18. 어떤 수를 25.6으로 나누어야 할 것을 잘못하여 52.6으로 나누었더니 몫이 2.1이고, 나머지는 0.83이었습니다. 바르게 계산했을 때의 몫을 자연수 부분까지 구하면 나머지는 얼마입니까?

▶ 답:

▷ 정답: 8.89

해설

어떤 수를 \square 라 할 때

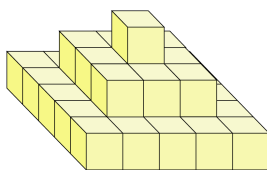
$$\square \div 52.6 = 2.1 \cdots 0.83$$

$$\square = 52.6 \times 2.1 + 0.83 = 110.46 + 0.83 = 111.29$$

따라서 바르게 계산하면

$$111.29 \div 25.6 = 4 \cdots 8.89 \text{ 이므로 나머지는 } 8.89 \text{ 입니다.}$$

19. 다음 그림을 보고, 2층에 대한 3층의 개수 비를 바르게 나타낸 것은 어느 것입니까?

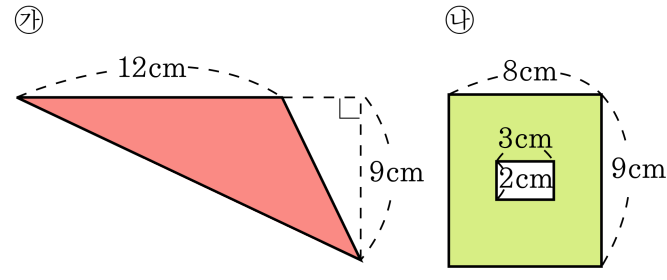


- ① 9와 1의 비 ② 1:9
③ 1에 대한 9의 비 ④ 9의 1에 대한 비
⑤ 25대 9

해설

2층= 9개, 3층= 1개
(2층에 대한 3층의 비)= 3층:2층 = 1:9

20. ㉔의 넓이에 대한 ㉓의 넓이의 비를 가장 간단히 나타낸 것은 어느 것입니까?

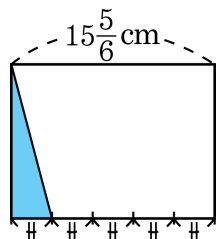


- ① 66 : 53 ② 11 : 9 ③ 66 : 54
 ④ 54 : 108 ⑤ 9 : 11

해설

㉓의 넓이 = $(12 \times 9) \div 2 = 54(\text{cm}^2)$
 ㉔의 넓이 = $(8 \times 9) - (3 \times 2) = 66(\text{cm}^2)$
 ㉔의 넓이에 대한 ㉓의 넓이의 비
 → $54 : 66 = 9 : 11$

21. 직사각형 모양의 널빤지에 색칠한 부분의 넓이가 19cm^2 입니다. 널빤지 전체의 넓이는 몇 cm^2 입니까?



▶ 답: cm^2

▷ 정답: 190 cm^2

해설

(색칠한 부분의 밑변의 길이)

$$= 15\frac{5}{6} \div 5 = 3\frac{1}{6}(\text{cm})$$

세로의 길이를 $\square\text{cm}$ 라 하면 $3\frac{1}{6} \times \square \div 2 = 19$,

$$\square = 19 \div 3\frac{1}{6} \times 2 = \frac{1}{18} \times \frac{6}{1} \times 2 = 12$$

(널빤지 전체의 넓이) $= 15\frac{5}{6} \times 12 = 190(\text{cm}^2)$

22. 여섯 사람이 4일 동안에 어떤 일의 $\frac{1}{3}$ 을 하였습니다. 두 사람이 더 와서 일을 계속한다면 나머지 일을 하는데 며칠이 걸리겠는지 구하시오. (단, 일을 하는 능력은 모두 같습니다.)

▶ 답: 일

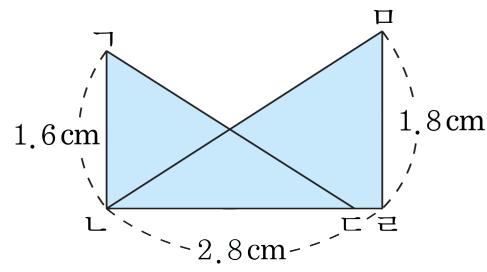
▷ 정답: 6일

해설

전체 일은 $6 \times 4 \div \frac{1}{3} = 72$ 이므로

$$\left(72 \times \frac{2}{3}\right) \div 8 = 72 \times \frac{2}{3} \times \frac{1}{8} = 6(\text{일})$$

23. 다음 그림에서 삼각형 $\triangle LK$ 의 넓이는 삼각형 $\triangle MK$ 의 넓이의 $\frac{4}{5}$ 입니다. 선분 CK 의 길이를 구하시오.



▶ 답: cm

▶ 정답: 0.28 cm

해설

$$(\text{삼각형 } \triangle MK \text{의 넓이}) = 2.8 \times 1.8 \div 2 = 2.52(\text{cm}^2)$$

$$(\text{삼각형 } \triangle LK \text{의 넓이}) = 2.52 \times \frac{4}{5} = 2.016(\text{cm}^2)$$

$$(\text{선분 } LK \text{의 길이}) = 2.016 \times 2 \div 1.6 = 2.52(\text{cm})$$

$$(\text{선분 } CK \text{의 길이}) = 2.8 - 2.52 = 0.28(\text{cm})$$

24. 2분 30초 동안 86.5m^3 의 물이 나오는 ㉠수도와 1분 45초 동안 74.9m^3 의 물이 나오는 ㉡수도가 있습니다. ㉠수도와 ㉡수도에서 나오는 물의 양이 일정할 때, 두 수도를 동시에 틀어서 479.88m^3 의 물을 받으려면 몇 분 몇 초가 걸리는지 구하시오.

▶ 답 :

▷ 정답 : 6분 12초

해설

2분 30초 = 2.5분,

1분 45초 = 1.75분

1분 동안 나오는 물의 양을 알아보면

㉠ 수도 : $86.5 \div 2.5 = 34.6(\text{m}^3)$

㉡ 수도 : $74.9 \div 1.75 = 42.8(\text{m}^3)$ 입니다.

따라서 479.88m^3 의 물을 받는 데 걸리는 시간은

$479.88 \div (34.6 + 42.8) = 479.88 \div 77.4 = 6.2(\text{분}) \rightarrow 6\text{분 } 12\text{초}$ 입니다.

25. 현진이네 학교 5학년은 5반까지 있고, 각 반의 학생 수는 40명입니다. 5학년 전체의 수학 점수의 평균은 84점이고, 1반의 평균은 전체 평균보다 5%가 높습니다. 1반을 제외한 5학년 학생들의 평균점수를 구하십시오.

▶ 답: 점

▷ 정답: 82.95점

해설

1반의 평균은 전체 평균보다 5%높으므로
 $84 \times 1.05 = 88.2$ (점)입니다.
(다섯 반의 총점) $=$ (학생 수) \times (평균)
 $=40 \times 5 \times 84 = 16800$ (점),
(1반의 총점) $= 88.2 \times 40 = 3528$ (점),
(1반을 제외한 총점) $= 16800 - 3528 = 13272$ (점),
따라서 구하는 평균은 $13272 \div (40 \times 4) = 82.95$ (점)