

1. 국어가 a 점, 수학 b 점인 학생의 평균 점수를 a, b 로 나타내면?

① $\frac{ab}{2}$

② $2a + 2b$

③ $\frac{a + b}{2}$

④ $\frac{a + b}{ab}$

⑤ $\frac{2a + 2b}{2ab}$

2. 윗변의 길이가 a , 밑변의 길이가 $2a$, 높이가 h 인 사다리꼴이 있다.

$a = 4, h = 5$ 일 때 사다리꼴의 넓이를 구하여라.



답: _____

3. $(4x - 6) \div 2$ 를 계산하면?

① $2x - 3$

② $2x + 3$

③ $3x - 2$

④ $3x + 2$

⑤ $3x + 4$

4. 다음 보기 중 동류항끼리 짝지어진 것을 모두 고르면?

보기

㉠ $2x$ 와 $-5x$

㉡ x^2y 와 $3xy^2$

㉢ -1 과 7

㉣ $-\frac{2}{x}$ 와 $-\frac{x}{2}$

㉤ $-4x^3$ 과 $3x^3$

㉥ x 와 $-2y$

① ㉠, ㉡, ㉢

② ㉠, ㉢, ㉣

③ ㉠, ㉡, ㉥

④ ㉠, ㉢, ㉤

⑤ ㉠, ㉡, ㉢, ㉣, ㉤

5. $\frac{ab}{3x-2y}$ 을 곱셈 기호와 나눗셈 기호를 사용하여 나타낸 것이 아닌 것은?

① $a \times b \div (3 \times x - 2 \times y)$

② $a \div b \div (3 \times x - 2 \times y)$

③ $a \div \frac{1}{b} \div (3 \times x - 2 \times y)$

④ $a \times b \times \frac{1}{(3 \times x - 2 \times y)}$

⑤ $a \div \frac{1}{b} \times \frac{1}{(3 \times x - 2 \times y)}$

6. $x\%$ 의 소금물 200 g 과 $y\%$ 의 소금물 500 g 이 있다. 두 소금물을 섞고 난 후의 농도를 x 와 y 를 사용한 식으로 나타내어라.

① $\left(\frac{2x + 5y}{7}\right)\%$

② $\left(\frac{2x - 5y}{7}\right)\%$

③ $\left(\frac{5x - 2y}{7}\right)\%$

④ $\left(\frac{2x + 5y}{5}\right)\%$

⑤ $\left(\frac{2x - 5y}{5}\right)\%$

7. 다음은 각 반의 학생들이 일차식에 대한 설명을 한 것이다. 옳지 않은 설명을 한 학생은?

① 정희: 일차식은 차수가 1 인 다항식이다.

② 유나: 단항식은 하나의 항으로만 이루어졌으니 다항식이 아니다.

③ 지아: 수로만 이루어진 항은 상수항이라고 한다.

④ 다희: 항에서 문자 앞에 곱해져 있는 수를 계수라고 한다.

⑤ 정은: 다항식의 차수는 다항식에서 차수가 가장 큰 항의 차수로 결정한다.

8. $x : y = 3 : 5$ 일 때, 다음 식의 값을 구하면?

$$\frac{2x^2 - 4xy}{3xy + y^2}$$

① $-\frac{3}{5}$


② $-\frac{1}{5}$

③ $\frac{2}{15}$

④ $\frac{4}{15}$

⑤ $\frac{7}{15}$

9. 어떤 x 에 대한 일차식 A 에 $\frac{x+5}{2}$ 를 더해야 할 것을 잘못하여 뺐더니 $\frac{-5x-7}{4}$ 이 되었을 때, 옳게 계산한 식은 B 가 된다. $A+B$ 의 식을 구하여라.

 답: $A+B =$ _____

10. 어떤 x 에 대한 일차식에서 $2x - 5$ 를 빼야할 것을 잘못하여 더했더니 $5x + 7$ 이 되었다. 옳게 계산한 것은?

① $x + 17$

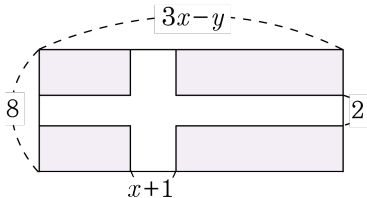
② $10x - 12$

③ $3x - 12$

④ $-3x + 12$

⑤ $x + 7$

11. 다음과 같이 직사각형 모양인 꽃밭에 가로, 세로에 일정한 폭으로 길을 만들었다. 길의 넓이는?



① $-12x + 2y + 4$

② $12x - 2y + 6$

③ $14x - 2y + 4$

④ $14x + 2y + 6$

⑤ $14x - 2y + 6$

12. y km 의 도로를 처음에는 시속 5 km 로 a 시간 동안 달리고, 남은 거리를 시속 7 km 로 달렸을 때, 전체 걸린 시간을 문자를 사용한 식으로 나타내어라.



답:

_____ 시간

13. 다음 설명 중 옳지 않은 것을 구하면?

① $2x \times y \times z$ 는 항이 1 개다.


② $a \times \left(-\frac{1}{3}b\right) \div c + 5$ 는 항이 3 개인 다항식이다.

③ $5x - 3y - 4$ 는 항이 3 개인 다항식이다.

④ $2 - 5x$ 의 x 의 계수는 -5 이고 상수항은 2 이다.

⑤ $6x^2 - 8x + 10 + ax^2 + x + 1$ 이 일차식이 되기 위한 a 의 값은 -6 이다.

14. $-\frac{1}{3}(2x+1) + \frac{1}{2}\left(6x + \frac{1}{3}\right) = ax + b$ 일 때, $\frac{b}{a}$ 의 값을 구하여라.

 $\square\square$: $\frac{b}{a} =$ _____

15. 어떤 x 에 관한 일차식이 있다. x 의 계수가 5이고, $x = -2$ 일 때의 식의 값을 a , $x = 3$ 일 때의 식의 값이 b 라 한다면, $a - b$ 의 값을 구하면?

① -25

② 15

③ -5

④ 10

⑤ 25

16. $a = \left(-\frac{2}{3}\right) \div (-4)$, $b = 4 \times \frac{6}{5} \div 2$ 일 때, $A = 3ax - 2a$, $B = \frac{6}{b}x - 5b$

이다. 이 때, $\frac{-2A + B}{3} + \frac{4A - B}{2}$ 를 간단히 하여라.

① $\frac{1}{4}x + \frac{11}{9}$

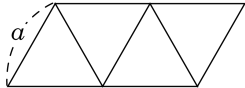
② $\frac{1}{4}x + \frac{12}{9}$

③ $\frac{1}{4}x + \frac{13}{9}$

④ $\frac{1}{4}x + \frac{14}{9}$

⑤ $\frac{1}{4}x + \frac{15}{9}$

17. 그림과 같이 크기가 같은 정삼각형을 짝수 개 사용하여 평행사변형을 만든다. 한 변의 길이가 a 인 정삼각형 $2n$ 개를 사용하여 만든 평행사변형의 둘레의 길이를 a, n 을 사용하여 나타내낸 후, 이를 이용하여 한 변의 길이가 5 cm 인 정삼각형 500 개로 만들 수 있는 평행사변형의 둘레의 길이를 구하여라.



답: _____

cm

18. 저금통에는 동전 x 개가 들어 있고 그 중 a 개는 십원짜리, b 개는 백원짜리, 나머지는 전부 오백원짜리이다. 저금한 금액을 a, b, x 의 식으로 나타내면?

① $10a + 100b + 500(x - a - b)$ 원

② $(100a + 10b + 500x)$ 원

③ $(10a + 100b + 500x)$ 원

④ $(100a + 100b + 500x)$ 원

⑤ $100a + 10b + 500(x - a - b)$ 원

19. $[x]$ 는 x 보다 크지 않은 가장 큰 정수를 나타내고, $\langle x \rangle$ 는 $x - [x]$ 일 때, 다음을 계산하여라.

$$\langle -3.7 \rangle \times [-7] \div \left\langle \frac{14}{5} \right\rangle$$

① $-\frac{1}{2}$

② $-\frac{1}{4}$

③ $-\frac{11}{5}$

④ $-\frac{21}{8}$

⑤ $-\frac{23}{5}$

20. $a = \frac{1}{3}$, $b = -\frac{1}{5}$, $c = -\frac{1}{4}$ 일 때, $\frac{4}{a} + \frac{2}{b} - \frac{1}{c}$ 의 값을 구하여라.



답: