

1. A 가 유한소수일 때, 다음 중 A 에 해당하는 것은?

① $3.141592\dots$

② $\frac{51}{180}$

③ $\frac{27}{2^2 \times 3^2}$

④ $0.512512512\dots$

⑤ $\frac{3}{56}$

2. 순환소수 $1.5\bar{i}$ 에 어떤 자연수를 곱하면 그 결과가 자연수가 된다. 이를 만족하는 두 자리의 자연수를 모두 고르면?

- ① 9 ② 18 ③ 45 ④ 90 ⑤ 99

3. $3ab^2 \div \square = 4a^3b$ 일 때, \square 안에 알맞은 식을 골라라.

① $12a^2bc$

② $\frac{bc}{12a^2}$

③ $\frac{3b}{4a^2}$

④ $\frac{4b}{3a^2c}$


⑤ $\frac{12b}{a^2c}$

4. x, y 에 관한 식으로 나타낼 때, 미지수가 2 개인 일차방정식이 되지 않는 것은?
- ① x 개의 지우개와 y 개의 샤프를 합하여 모두 10 개를 샀다.
 - ② 가로, 세로의 길이가 각각 $x\text{cm}$, $y\text{cm}$ 인 직사각형의 넓이는 50cm^2 이다.
 - ③ 세로의 길이가 $x\text{cm}$ 이고 가로의 길이가 $y\text{cm}$ 인 직사각형의 둘레의 길이는 20cm 이다.
 - ④ 시험에서 4 점짜리 문제 x 개와 3 점짜리 문제 y 개를 맞추어 79 점을 받았다.
 - ⑤ 한 송이에 100 원짜리 해바라기 x 송이와 200 원짜리 튼튼 y 송이를 섞어서 1200 원어치 샀다.


5. 연립방정식 $\begin{cases} (-x+y)+y=0 \\ x+2(x-y)=6 \end{cases}$ 의 해는?

- ① $x = -2, y = 4$ ② $x = 3, y = \frac{3}{2}$ ③ $x = 1, y = -2$
④ $x = 2, y = -\frac{3}{2}$ ⑤ $x = 4, y = 2$

6. $\frac{A}{420}$ 가 유한소수로 나타내어질 때, A 가 될 수 있는 자연수 중에서 100에 가장 가까운 수를 구하여라.

 답: _____

7. $0.6\dot{4} = a \times 0.\dot{0}1$, $0.04\dot{7} = b \times 0.00\dot{1}$ 일 때, $a - b$ 의 값을 구하여라.

 답: _____

8. $(x-a)(2x+5) = 2x^2 - \frac{b^2}{2}$ 일 때, $2a-b$ 의 값은? (단, $b > 0$)

- ① -20 ② -15 ③ -10 ④ -5 ⑤ 0

9. $(2x-1)\left(x+\frac{1}{2}\right)\left(x^2+\frac{1}{4}\right)\left(x^4+\frac{1}{16}\right)=2x^a+b$ 에서 두 상수 a, b 의 곱 ab 의 값은?

- ① $-\frac{1}{2}$ ② $-\frac{1}{4}$ ③ $-\frac{1}{8}$ ④ $-\frac{1}{16}$ ⑤ $-\frac{1}{32}$

10. $(2x - y + 1)^2$ 을 전개하였을 때 xy 의 계수를 A , x 의 계수를 B 라 할 때, $A + B$ 의 값을 구하여라.

▶ 답: _____

11. 다음중 곱셈 공식 $(x+a)(x+b) = x^2 + (a+b)x + ab$ 를 이용하면 계산하기에 가장 편리한 것은?

① 99^2

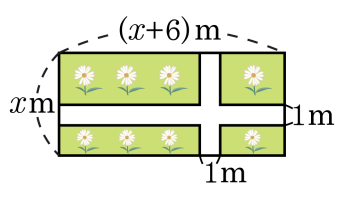
② 102^2

③ 73×67

④ 98×102

⑤ 101×102

12. 다음 그림은 직사각형 모양으로 생긴 꽃밭에 폭이 1m 인 길을 만든 것이다. 길을 내고 난 꽃밭의 넓이를 x 를 사용하여 나타내면?



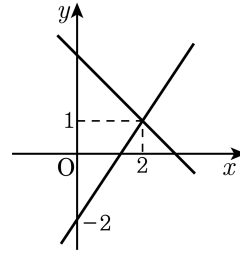
- ① $x^2 + 2x + 1$ ② $3x + 2$ ③ $x^2 - 2x - 3$
 ④ $x^2 + 3x - 2$ ⑤ $x^2 + 4x - 5$

13. $5x - 3y - 7 = -x + 9y - 1$ 일 때, $-5x + 2y - 1$ 을 y 에 관한 식으로 나타내면 $ay + b$ 라고 한다. $a + b$ 의 값은?


- ① -14 ② -10 ③ -5 ④ 10 ⑤ 14

14. 다음 그래프는 $\begin{cases} mx + ny = 4 \\ x + y = m \end{cases}$ 의 연립방정
 식의 해를 나타낸 것이다. $\left| \frac{7}{3}m + n^2 \right|$ 은 얼마
 인가?

- ① $-\frac{7}{2}$ ② $-\frac{3}{2}$ ③ 0
 ④ 11 ⑤ $\frac{3}{2}$



15. $1.2 + 0.1i$ 을 계산하여 분수로 나타내어라.

 답: _____

16. 등식 $\frac{9(x^2y)^3}{xy} \div \frac{(xy^2)^2}{(2x)^3} \times \frac{xy}{(3x^3y^2)^2} = ax^by^c$ 일 때, $a+b+c$ 의 값은?

① 2

② 4

③ 8

④ 16

⑤ 32

17. $A = (12a^5b^5 - 8a^5b^4) \div (2a^2b)^2$, $B = (4a^3b^4 - a^2b^2) \div (-ab)^2$ 일 때,
 $A - (B + 2C) = 3ab^3 + 1$ 을 만족하는 식 C 를 구하면?

① $C = ab$


② $C = ab^2$

③ $C = -3ab^2$

④ $C = 3ab^2$

⑤ $C = -ab$

18. 연립방정식 $\begin{cases} x + |y| = 7 \\ x - |y| = 5 \end{cases}$ 을 만족하는 x, y 에 대하여 $x + y + z = 8$ 일 때, z 의 값을 모두 구하여라.

 답: _____

19. 연립방정식 $\begin{cases} \frac{1}{2}x - \frac{1}{4}y = 3 & \cdots \text{㉠} \\ 0.3x + 0.2y = -0.3 & \cdots \text{㉡} \end{cases}$ 의 해로 알맞은 것은?

① $x = -6, y = -3$

② $x = -3, y = 6$

③ $x = 6, y = 3$

④ $x = -3, y = -6$


⑤ $x = 3, y = -6$

20. 연립방정식 $\begin{cases} \frac{4}{x} - \frac{3}{y} = 1 \\ \frac{x}{8} + \frac{y}{9} = 7 \end{cases}$ 의 해를 구하여라


▶ 답: $x =$ _____

▶ 답: $y =$ _____

21. $a = \frac{1}{2^{2x-1}}, b = \frac{1}{3^x}$ 일 때, 12^x 을 a, b 를 사용한 식으로 나타내어라.

 답: _____

22. $3^{3^{(3^4)}}$ 의 일의 자리의 숫자를 구하여라.

 답: _____

23. 밑면의 반지름의 길이가 r 이고, 높이가 h 인 원기둥이 있다. 이 원기둥의 밑면의 반지름은 20% 늘리고, 높이는 10% 줄이면 부피는 원래 부피보다 몇 % 변화하는지 구하여라.

▶ 답: _____ %

24. 어떤 식 A 에 $2x^2 - 5x + 7$ 을 빼야 할 것을 잘못하여 더하였더니, 답이 $7x^2 - 2x + 3$ 이 되었다. 바르게 계산한 답은?

① $5x^2 + 3x - 4$ ② $5x^2 - 3x - 4$ ③ $3x^2 - 2x + 17$

④ $3x^2 + 8x - 11$ ⑤ $3x^2 - 12x + 3$

25. 넓이가 각각 4, 9 인 두 정사각형 A, B 의 한 변의 길이를 각각 a, b 라 할 때, $\frac{b}{a} - \frac{a}{b}$ 의 값을 구하여라.

▶ 답: _____