

1. $a > 0$ 일 때, $\sqrt{(-2a)^2} - \sqrt{9a^2}$ 을 간단히 하면?

- ① $-11a$ ② $-7a$ ③ $-5a$ ④ $-a$ ⑤ a

2. $\frac{1}{\sqrt{2}} - \frac{3}{\sqrt{32}}$ 을 계산하면?

① $\frac{1}{2}$

② $-\frac{1}{2}$

③ $\frac{\sqrt{2}}{8}$

④ $-\frac{\sqrt{3}}{8}$

⑤ $\frac{\sqrt{3}}{8}$

3. $ax^2 + 40x + 16$ 이 완전제곱식이 되기 위한 a 의 값을 구하여라.

▶ 답: $a =$ _____

4. 다음 중 인수분해가 잘못된 것은?

① $3x^3 + x^2 - x = x(3x^2 + x - 1)$

② $-x^2 + 25 = (5 + x)(5 - x)$

③ $x^2 + 8x + 12 = (x + 2)(x + 6)$

④ $36x^2 + 24xy + 4y^2 = (6x - 2y)^2$

⑤ $6x^2 + 5x + 1 = (2x + 1)(3x + 1)$

5. $2x^2 + Ax - 3$ 의 한 인수가 $x - 3$ 일 때, A 의 값을 구하여라.

▶ 답: $A =$ _____

6. 다음 수의 제곱근 중 바르지 않은 것은?

① 100의 제곱근 = ± 10

② 7의 제곱근 = $\pm \sqrt{7}$

③ -4의 제곱근은 없다.

④ 0.2의 제곱근 = ± 0.04

⑤ $\frac{1}{2}$ 의 제곱근 = $\pm \sqrt{\frac{1}{2}}$

7. $0 < x < 2$ 일 때,
 $\sqrt{(-x)^2} - \sqrt{(x-2)^2} + \sqrt{(2-x)^2}$ 을 간단히 하면?

① x


② $4 - x$


③ $x + 4$

④ $3x + 4$

⑤ $4 - 3x$


8. a 가 120과 210 사이의 수일 때, $\frac{\sqrt{a}}{\sqrt{3}}$ 가 정수가 되도록 하는 a 를 모두 구하여라.

 답: _____

 답: _____

9. 다음 수를 큰 수부터 순서대로 나열할 때, 세 번째에 오는 수를 구하여라.

$$\frac{1}{3}, \sqrt{\frac{1}{3}}, -\sqrt{12}, -2, \sqrt{0.6}$$

 답: _____

10. $\sqrt{(1-\sqrt{5})^2} - \sqrt{(\sqrt{5}+3)^2}$ 을 간단히 하여라.

▶ 답: _____

11. 다음 중에서 순환하지 않는 무한소수로만으로 이루어진 것은?

① $\sqrt{21}$, $-\sqrt{7}$, $0.\dot{5}$

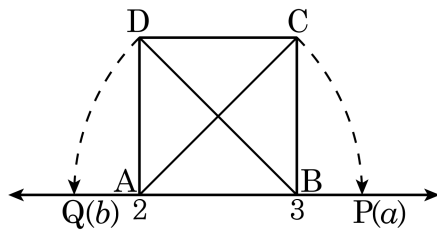
② $\sqrt{121}$, $\sqrt{5}-1$, $\sqrt{21}$

③ $-\sqrt{6}$, $\sqrt{3+2}$, $-\sqrt{1}$

④ $-\sqrt{\frac{1}{3}}$, $\sqrt{0.36}$, $\frac{\sqrt{4}}{2}$

⑤ $\frac{\sqrt{2}}{3}$, $\sqrt{8.1}$, $\sqrt{4+3\sqrt{2}}$

12. 다음 그림과 같이 수직선 위에 한 변의 길이가 1 인 정사각형 ABCD의 대각선 $\overline{AC} = \overline{AP}$, $\overline{BD} = \overline{BQ}$ 인 두 점 P, Q를 수직선 위에 잡았을 때, P(a), Q(b) 에 대하여 다음 중 옳은 것은?



보기

- | | |
|--|---|
| <input type="radio"/> Ⓐ $P(a) = 2 + \sqrt{2}$ | <input type="radio"/> Ⓒ $Q(b) = 3 - 2\sqrt{2}$ |
| <input type="radio"/> Ⓑ $\overline{PQ} = -1 + 4\sqrt{2}$ | <input type="radio"/> Ⓓ $\overline{AB} = 2\sqrt{2}$ |
| <input type="radio"/> Ⓔ $\overline{AP} = \sqrt{2}$ | |

- ① Ⓐ, Ⓒ ② Ⓐ, Ⓓ ③ Ⓒ, Ⓓ ④ Ⓐ, Ⓔ ⑤ Ⓓ, Ⓔ

13. 다음 중 간단히 한 것의 값이 $\sqrt{5}$ 가 아닌 것은?

① $\frac{\sqrt{10}}{\sqrt{7}} \div \frac{1}{\sqrt{21}} \div \sqrt{6}$

② $15 \div \sqrt{15} \div \sqrt{3}$

③ $\sqrt{45} \div \sqrt{15} \div \frac{1}{\sqrt{3}}$

④ $\frac{\sqrt{8}}{2} \div \frac{\sqrt{2}}{\sqrt{10}} \div \sqrt{2}$

⑤ $\sqrt{6} \div \sqrt{5} \div \frac{\sqrt{6}}{5}$

14. $\frac{3\sqrt{a}}{2\sqrt{6}}$ 의 분모를 유리화하였더니 $\frac{\sqrt{15}}{2}$ 가 되었다. 이 때, 자연수 a 의 값은?

① 2

② 3

③ 5

④ 10

⑤ 12

15. $\sqrt{6} \div 3\sqrt{3} \times \frac{3}{\sqrt{12}} \div \frac{\sqrt{18}}{6} = a\sqrt{3}$ 일 때, a 의 값을 구하여라.

▶ 답: $a =$ _____

16. 제곱근표에서 $\sqrt{2} = 1.414$, $\sqrt{6} = 2.449$ 일 때, $\sqrt{0.02} + \sqrt{0.06}$ 의 제곱근의 값은?

① 3.863

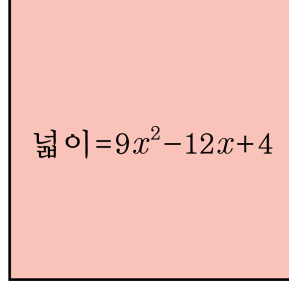
② 38.63

③ 386.3

④ 0.3863

⑤ 0.03863

17. 다음 그림과 같이 넓이가 $9x^2 + 12x + 4$ 인 정사각형의 둘레의 길이는?



- ① $6x$ ② $12x + 8$ ③ $6x + 2$
④ $2x$ ⑤ 4

18. 다음은 $A = 2a^2 - 4ab$, $B = a^2b - 2a$ 에 대한 설명이다. 옳지 않은 것을 모두 고르면?

- | |
|--|
| <p>㉠ A 에서 $2a$ 는 각 항의 공통인 인수이다.</p> <p>㉡ B 의 인수는 a 와 $ab - 2$ 로 모두 2 개이다.</p> <p>㉢ A 와 B 의 공통인 인수는 a^2 이다.</p> |
|--|

① ㉠

② ㉡

③ ㉠, ㉡

④ ㉡, ㉢

⑤ ㉠, ㉡, ㉢

19. 다음을 치환을 이용하여 인수분해하여라.

보기

$$(\sqrt{3} + \sqrt{2})^2 - (\sqrt{3} - \sqrt{2})^2$$

▶ 답: _____

20. 다음 식이 완전제곱식일 때, 상수 a 의 값으로 알맞은 것을 구하여라.

$$(x+1)(x+3)(x+5)(x+7) + a$$

▶ 답: $a =$ _____

21. 다음 중 그 결과가 반드시 무리수인 것은?

① (무리수)+ (무리수)

② (무리수)- (무리수)

③ (유리수) \times (무리수)

④ (무리수) \div (무리수)

⑤ (무리수)- (유리수)

22. 다음을 만족하는 유리수 a, b, c 에 대하여 $\sqrt{\frac{2ab}{c}}$ 의 값은?

$$\frac{1}{2}\sqrt{8} = \sqrt{a}, \quad \sqrt{135} = 3\sqrt{b}, \quad \sqrt{2000} = c\sqrt{5}$$

- ① $\sqrt{2}$ ② $\sqrt{3}$ ③ 2 ④ $\sqrt{5}$ ⑤ $\sqrt{6}$

23. $\sqrt{0.96}$ 은 $\sqrt{6}$ 의 x 배이다. 이 때, x 의 값은?

① $\frac{1}{5}$

② $\frac{2}{5}$

③ $\frac{8}{5}$

④ $\frac{12}{5}$

⑤ $\frac{16}{5}$

24. $-9x^2 + y^2 + 6xz - z^2$ 을 인수분해하였더니 $(ay - 3x + z)(y + bx + cz)$ 가 되었다. 이때, 상수 a, b, c 에 대하여 $a + b + c$ 의 값을 구하면?

- ① 1 ② 2 ③ 3 ④ -1 ⑤ -2

25. $x = \frac{1}{5-3\sqrt{3}}$ 일 때, $x^2 + \frac{1}{x^2}$ 의 값으로 알맞은 것을 고르면?

- ① $\frac{130+75\sqrt{5}}{2}$ ② $\frac{130+75\sqrt{3}}{2}$ ③ $\frac{130-45\sqrt{3}}{2}$
④ $\frac{130+75\sqrt{5}}{3}$ ⑤ $\frac{120+75\sqrt{3}}{2}$