

1. 안에 알맞은 수를 써 넣은 것은 어느 것입니까?

10000은

- 9000보다 큰 수
- 9900보다 큰 수
- 9990보다 큰 수
- 9999보다 큰 수

① 1000.10.100.1

② 10000.1000.100.1

③ 1.10.100.1000

④ 1000, 100, 10, 1

⑤ 10000, 1000, 100, 10

2. 다음 중 가장 큰 수는 어느 것입니까?

① 18 억

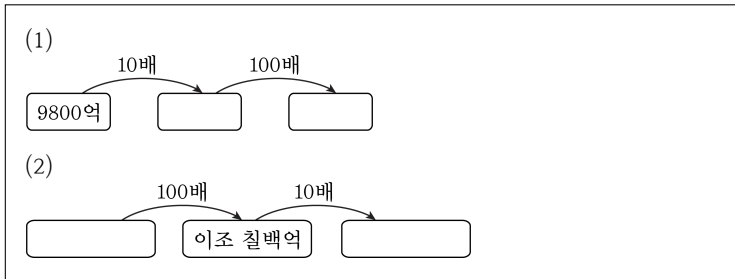
② 억이 8 인 수

③ 900000000

④ 2 억을 10 배 한 수

⑤ 9000 만보다 1000 만 큰 수

3. 안에 알맞은 수를 차례대로 써넣은 것은 어느 것입니까?



- ① (1) 9 조 8000 억, 98 조 (2) 이백칠억, 이십조 칠천억
- ② (1) 9 조 800 억, 98 조 (2) 이천칠백억, 이십조 칠천억
- ③ (1) 9 조 800 억, 980 조 (2) 이백칠억, 이십조 칠천억
- ④ (1) 9 조 8000 억, 980 조 (2) 이백칠억, 이십조 칠천억
- ⑤ (1) 9 조 8000 억, 980 조 (2) 이천칠백억, 이십조 칠천억

4. 뛰어세기를 하여 안에 알맞은 수를 차례대로 쓴 것은 어느 것입니까?

| | | | | | | | |
|-----|----------------------|-------------------|----------------------|----------|----------------------|---|----------------------|
| (1) | <input type="text"/> | - 210조 - | <input type="text"/> | - 310조 - | <input type="text"/> | | |
| (2) | <input type="text"/> | - 8000억 - 9000억 - | <input type="text"/> | - | <input type="text"/> | - | <input type="text"/> |

- ① (1)150 조, 250 조, 350 조 (2) 7000 억, 1 조, 1 조 1000 억, 1 조 2000 억
- ② (1)160 조, 260 조, 360 조 (2) 7000 억, 1 조, 1 조 1000 억, 1 조 2000 억
- ③ (1)160 조, 260 조, 360 조 (2) 7000 억, 1 조, 1 조 2000 억, 1 조 4000 억
- ④ (1)170 조, 270 조, 370 조 (2) 7000 억, 1 조, 1 조 1000 억, 1 조 2000 억
- ⑤ (1)160 조, 260 조, 360 조 (2) 7000 억, 1 조, 1 조 2000 억, 1 조 4000 억

5. 경수는 오늘 1000 원짜리 30 장을 저금하였습니다. 저금한 돈은 얼마인지 구하십시오.



답:

_____의

6. 어느 도시의 인구는 1954076 명입니다. 이 도시의 인구를 읽어 보시오.



답:

표

7. 다음 중 숫자 5 가 나타내는 수가 가장 큰 것은 어느 것입니까?

① 82 억 5

② 4356000000

③ 173 억 4560 만

④ 30850000000

⑤ 15 억 2800 만

8. 다음을 숫자로 쓸 때 0을 더 많이 써야 하는 것은 어느 것입니까?

㉠ 구십조 이천백십억 삼십이

㉡ 오천이백십조 구만



답: _____

9. 다음 중 8이 나타내는 수가 가장 큰 것은 어느 것인가?

① 8945 억

② 4120 조 8백억 4950 만

③ 8675369000

④ 38723104750000

⑤ 3217895416000000

10. 어느 지방 자치 단체의 일 년간 예산이 5조 2000억 원이라고 합니다. 이것은 천 원짜리 지폐로 장이라 할 때, 안에 알맞은 수를 쓰시오.



답: _____

11. 두 수의 크기를 비교하여 $>$, $<$, $=$ 로 바르게 나타낸 것은 어느 것입니까?

$$(1) 3727 \text{ 만} + 1903 \text{ 만} \bigcirc 27373627 + 27373262$$

$$(2) 1039 \text{ 만} + 1737 \text{ 만} \bigcirc 10000000 + 12847367$$

① $>$, $<$

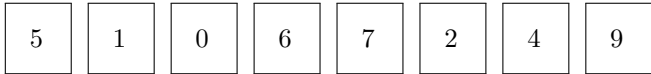
② $>$, $=$

③ $>$, $>$

④ $<$, $<$

⑤ $=$, $<$

12. 다음 숫자 카드를 한 번씩 써서 가장 작은 8자리 수를 만든 다음, 다시 그 수의 1000배인 수를 만들었습니다. 이 때, 숫자 2가 나타내는 수는 얼마입니까?



답: _____

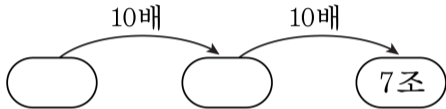
13. 목성에서 태양까지의 거리는 약 7억 7830만 km 입니다. 만약 목성에서 태양까지의 거리를 100 cm 자로 잰다면 몇 번을 재야 합니까?



답:

번

14. 빈 곳에 알맞은 수를 차례대로 고른 것은 어느 것입니까?



① 70억, 7000억

② 70억, 700억

③ 700억, 7000억

④ 7억, 700억

⑤ 7억, 70억

15. 다음을 가장 작은 수부터 차례로 번호를 쓴 것은 어느 것입니까?

㉠ 132만의 100배

㉡ 10억 7200만의 $\frac{1}{10}$

㉢ 12만 5001의 1000배

㉣ 91억 670만의 $\frac{1}{1000}$

① ㉣, ㉢, ㉡, ㉠

② ㉣, ㉡, ㉢, ㉠

③ ㉠, ㉡, ㉢, ㉣

④ ㉢, ㉡, ㉠, ㉣

⑤ ㉣, ㉠, ㉢, ㉡

16. 주어진 식이 참이 되게 하는 \square 안에 알맞은 한 자리의 숫자는 모두 몇 개입니까?

$$2674556008 < 26745\square7023$$

① 3개

② 4개

③ 5개

④ 6개

⑤ 7개

17. 어떤 수에 2를 더해야 할 것을 잘못하여 빼었더니 만이 5673, 일이 4756 인 수가 되었습니다. 어떤 수는 얼마입니까?



답: _____

18. 다음을 만족하는 수를 구하시오.

- ㉠ 숫자 1, 2, 3, 4, 6, 8, 9를 한 번씩 사용하여 만든 일곱 자리 수입니다.
- ㉡ 9845000보다 크고 9847000보다 작은 수입니다.
- ㉢ 십의 자리 숫자와 백의 자리 숫자의 합은 일의 자리 숫자와 같습니다.
- ㉣ 백의 자리 숫자가 십의 자리 숫자보다 작습니다.



답: _____

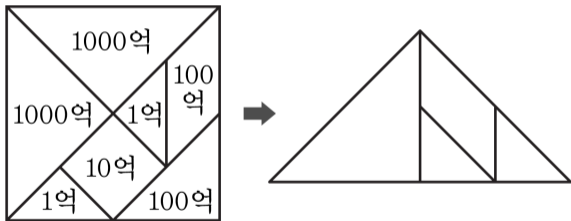
19. 영하와 광열이는 일곱 장의 숫자 카드

| | | | | | | |
|---|---|---|---|---|---|---|
| 1 | 4 | 0 | 2 | 9 | 6 | 7 |
|---|---|---|---|---|---|---|

 를 한 번씩만 사용하여 각각 일곱 자리의 수를 만들었습니다. 영하는 만의 자리의 숫자가 4인 수 중에서 가장 큰 수, 광열이는 천의 자리의 숫자가 7인 수 중에서 가장 큰 수를 만들었습니다. 누가 만든 수가 더 작습니까?

 답: _____

20. 그림과 같이 색종이를 잘라 모양을 만들고, 각 모양에 수를 써넣었습니다. 이 모양판으로 삼각형을 만들었을 때, 삼각형이 나타내는 수의 합은 얼마입니까?



답: _____