

1. 다음 수를 작은 수부터 차례로 기호를 나열하여라.

㉠ 5^3	㉡ 39	㉢ 2^5
㉣ $2^2 \times 3^3$	㉤ $3^2 \times 7$	

▶ 답: _____

▶ 답: _____

▶ 답: _____

▶ 답: _____

▶ 답: _____

2. 다음 보기 중 옳지 않은 것을 골라라.

보기


- ㉠ 합성수는 모두 짝수이다.
- ㉡ 3의 배수 중 소수는 1개뿐이다.
- ㉢ 2는 가장 작은 소수이다.
- ㉣ 짝수인 소수는 2뿐이다.

▶ 답: _____

3. 다음 중 약수의 개수가 5 인 자연수 중 가장 작은 자연수는?

- ① 12 ② 14 ③ 16 ④ 18 ⑤ 20

4. $\frac{12}{n}$ 와 $\frac{18}{n}$ 을 자연수로 만드는 자연수 n 중에서 가장 큰 수를 구하여라.

 답: _____

5. 다음 설명 중 옳지 않은 것은?

- ① 모든 정수는 유리수이다.
- ② 0 과 1 사이에도 유리수는 존재한다.
- ③ 서로 다른 유리수 사이에는 또 다른 유리수가 있다.
- ④ 유리수는 양의 유리수와 음의 유리수로 분류된다.
- ⑤ 분자가 정수이고 분모가 0이 아닌 정수인 분수로 나타낼 수 있는 수를 유리수라고 한다.

6. 다음 수직선 위에 나타내었을 때, 가장 왼쪽에 있는 수는?

- ① $-\frac{2}{3}$ ② $\frac{4}{7}$ ③ 0 ④ $-\frac{5}{4}$ ⑤ 2

7. 다음 중 계산이 옳지 않은 것은?

① $\left(+\frac{3}{2}\right) + \left(-\frac{2}{3}\right) = +\frac{5}{6}$

② $(-4.3) - (+2.8) = -7.1$

③ $3 - \left(+\frac{9}{4}\right) = \frac{3}{4}$

④ $-5.5 + (-6) = -11.5$

⑤ $-\frac{7}{6} - (-2.1) = -\frac{14}{15}$

8. 다음 표는 가로, 세로, 대각선의 방향으로 각 수를 더해도 그 합은 모두 같다고 할 때, a 에 알맞은 수를 구하면?

	-3	2
a		3
		-2

- ① -1 ② -3 ③ 5 ④ 4 ⑤ 2

9. 다음 중 두 수 $2^2 \times 3^2 \times 5^2, 2^2 \times 3 \times 5$ 의 공약수가 아닌 것은?

① 2×3^2

② 2×3

③ $2 \times 3 \times 5$

④ 15

⑤ 20

10. 세 수 42, 24, 63 의 최소공배수는?

- ① $2^2 \times 3^2 \times 5$ ② $2^2 \times 3^2 \times 7$ ③ $2^2 \times 3^2 \times 5 \times 7$
④ $2^3 \times 3^2 \times 5^2$ ⑤ $2^3 \times 3^2 \times 7$

11. 세 자연수의 비가 $2:3:8$ 이고 최소공배수가 144 일 때, 세 자연수를 구하여라.

▶ 답: _____

▶ 답: _____

▶ 답: _____

12. 서로 맞물려 돌아가는 두 톱니바퀴 A, B의 톱니의 수는 각각 36개, 60개이다. 톱니바퀴 A가 한 번 회전하는데 7분이 걸린다고 할 때, 두 톱니가 같은 이에서 처음으로 맞물리는 때는 회전을 시작하고 몇 분 후인지 구하여라.

▶ 답: _____ 분 후


13. 세 자연수 4, 6, 16 중 어느 것으로 나누어도 나누어떨어지는 자연수 중 가장 작은 자연수는?

- ① 32 ② 36 ③ 40 ④ 48 ⑤ 60

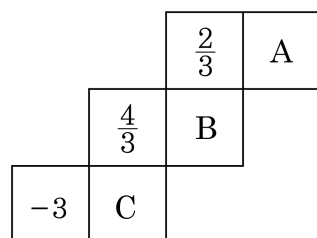
14. 두 자연수 A 와 64 의 최대공약수는 8 이고, 최소공배수는 320 일 때, 64 와 A 의 차를 구하여라.

▶ 답: _____

15. 세 수 $\frac{5}{15}$, $\frac{5}{18}$, $\frac{5}{24}$ 의 어느 것에 곱하여도 그 결과가 자연수가 되는 분수 중에서 가장 작은 기약분수를 구하여라.


 답: _____

16. 다음 전개도를 접어 정육면체를 만들었을 때, 마주 보는 면에 있는 두 수의 합이 1일 때, $A + B - C$ 의 값을 구하여라.



▶ 답: _____

17. $-\frac{5}{3}$ 보다 $\frac{1}{2}$ 만큼 큰 수를 a , $-\frac{5}{4}$ 보다 -1 만큼 작은 수를 b 라 할 때, $|a - b|$ 의 값을 구하여라.

 답: _____

18. 소수 97 은 각 자리의 숫자를 바꾸면 79 가 되어 역시 소수가 된다. 이처럼 각 자리의 숫자를 바꾸어도 소수가 되는 50 보다 작은 두 자리의 소수를 모두 구하여라.

▶ 답: _____

▶ 답: _____

▶ 답: _____

▶ 답: _____

▶ 답: _____

19. 약수의 개수가 36 개이고, $2^x \times 3^y \times 5^z \times 7$ 으로 소인수분해되는 자연수는 모두 몇 개인가? (단, x, y, z 는 자연수)

- ① 3개 ② 6개 ③ 9개 ④ 12개 ⑤ 15개

20. 다음에서 350 과 서로소인 수를 모두 골라라.

<input type="checkbox"/> 21	<input type="checkbox"/> 46	<input type="checkbox"/> 9	<input type="checkbox"/> 23	<input type="checkbox"/> 25
<input type="checkbox"/> 169				

답: _____

답: _____

답: _____

21. 수직선에서 $+\frac{3}{4}$ 에 가장 가까운 정수를 a , $\frac{11}{6}$ 에 가장 가까운 정수를 b 라고 할 때, $a \times b$ 의 값은?

- ① 0 ② 1 ③ 2 ④ 3 ⑤ 4

22. 네 정수 a, b, c, d 에 대하여 $0 < a < b < c$ 일 때, 다음 중 옳지 않은 것은?

① $-a > -b > -c$

② $\frac{1}{a} < \frac{1}{b} < \frac{1}{c}$

③ $a^2 < b^2 < c^2$

④ $a-2 < a-2 < a-2$

⑤ $-3a > -4a > -5a$

23. 세 자리수인 자연수 전체에 대해, 4의 배수이지만 5의 배수가 아닌 수의 개수와 3의 배수이지만 5, 6의 배수는 아닌 수의 개수의 합을 구하여라.

▶ 답: _____

24. 화장실 바닥의 가로와 세로의 길이가 각각 300 cm, 270 cm인 화장실 벽의 적당한 높이에 정사각형 모양의 타일을 빈틈없이 띠처럼 둘러 붙이려고 한다. 타일을 쪼개지 않고 붙이려고 할 때, 가능한 타일의 한 변의 길이가 아닌 것은?



- ① 1 cm ② 2 cm ③ 4 cm ④ 5 cm ⑤ 10 cm

25. 0 이 아닌 정수 a, b, c, d 에 대하여 $\frac{a|bcd| + b|acd| + c|abd| + d|abc| - abcd}{|abcd|}$ 의 값이 될 수 있는 수를 모두 구하여라.

▶ 답: _____

▶ 답: _____

▶ 답: _____