

1. 다음 보기의 자료들 중에서 표준편차가 가장 큰 자료와 가장 작은 자료를 차례대로 나열한 것은?

보기

㉠ 4, 4, 4, 6, 6, 4, 4, 4

㉡ 2, 10, 2, 10, 2, 10, 2, 10

㉢ 2, 4, 2, 4, 2, 4, 4, 4

㉣ 1, 1, 1, 1, 1, 1, 1, 1

㉤ 1, 3, 1, 3, 1, 3, 1, 3

㉥ 5, 5, 5, 7, 7, 7, 6, 6

① ㉠, ㉡

② ㉡, ㉣

③ ㉢, ㉥

④ ㉣, ㉤

⑤ ㉤, ㉥

2. 직각삼각형 ABC 에서 $\angle B = 90^\circ$, $\overline{AC} = 15\text{cm}$, $\overline{BC} = 12\text{cm}$ 일 때,
 \overline{AB} 의 길이는?

① 5cm

② 6cm

③ 7cm

④ 8cm

⑤ 9cm

3. 다음 그림에서 $\angle C = 90^\circ$ 가 되기 위한 x 의 값을 구하면?

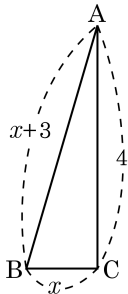
① $\frac{2}{3}$

② $\frac{5}{6}$

③ 1

④ $\frac{7}{6}$

⑤ $\frac{4}{3}$



4. 다음 중 옳지 않은 것은?

- ① 평균과 중앙값은 다를 수도 있다.
- ② 중앙값은 반드시 한 개만 존재한다.
- ③ 최빈값은 반드시 한 개만 존재한다.
- ④ 자료의 개수가 홀수이면 $\frac{n+1}{2}$ 째 번 자료값이 중앙값이 된다.
- ⑤ 자료의 개수가 짝수이면 $\frac{n}{2}$ 번째와 $\frac{n+1}{2}$ 번째 자료값의 평균이 중앙값이 된다.

5. 다음은 학생 20 명의 턱걸이 횟수에 대한 도수분포표이다. 이 분포의 분산은?(단, 평균, 분산은 소수 첫째자리에서 반올림한다.)

계급	도수
3 ^{이상} ~ 5 ^{미만}	6
5 ^{이상} ~ 7 ^{미만}	3
7 ^{이상} ~ 9 ^{미만}	8
9 ^{이상} ~ 11 ^{미만}	3
합계	20

① 1

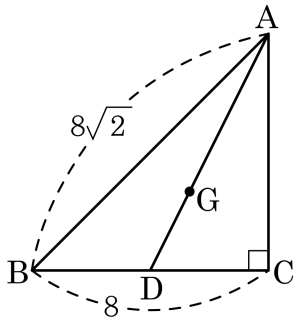
② 2

③ 3

④ 4

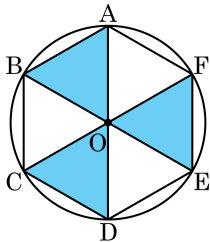
⑤ 5

6. 다음 그림과 같이 $\angle C = 90^\circ$ 인 $\triangle ABC$ 에서 \overline{AD} 는 중선이고, 점 G 는 무게중심일 때,
 \overline{DG} 의 길이를 구하여라.



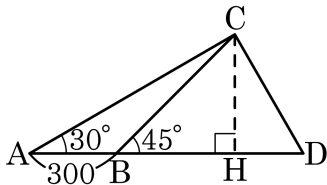
- ① $\frac{\sqrt{5}}{3}$ ② $\frac{2\sqrt{5}}{3}$ ③ $\sqrt{5}$ ④ $\frac{4\sqrt{5}}{3}$ ⑤ $\frac{5\sqrt{5}}{3}$

7. 다음 그림에서 반지름의 길이가 6 cm 인 원 O의 둘레를 6 등분하는 점을 각각 A, B, C, D, E, F 라 한다. 이 때, 색칠한 부분의 넓이를 구하면? (색칠한 부분은 $\triangle AOB + \triangle FOE + \triangle COD$ 이다.)



- ① $24\sqrt{3}\text{ cm}^2$ ② $12\sqrt{3}\text{ cm}^2$
③ 12 cm^2 ④ $27\sqrt{3}\text{ cm}^2$
⑤ $18\sqrt{3}\text{ cm}^2$

8. 다음 그림에서 $\overline{AB} = 300$, $\angle A = 30^\circ$, $\angle CBH = 45^\circ$ 일 때, \overline{CH} 의 길이는?



① $300(1 + \sqrt{2})$

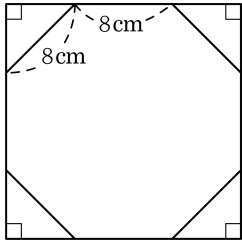
② $300(1 - \sqrt{2})$

③ $150(\sqrt{3} + 1)$

④ $150(\sqrt{3} - 1)$

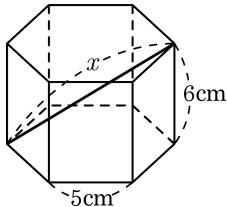
⑤ $150(\sqrt{2} + 1)$

9. 다음 그림과 같이 정사각형 모양의 종이를 네 모퉁이를 잘라 내어 한 변의 길이가 8 cm 인 정팔각형을 만들었다. 처음의 정사각형의 한 변의 길이를 구하면?



- ① $(4 + 4\sqrt{2})$ cm ② $(4 + 8\sqrt{2})$ cm
③ $(6 + 8\sqrt{2})$ cm ④ $(8 + \sqrt{2})$ cm
⑤ $(8 + 8\sqrt{2})$ cm

10. 다음 그림과 같이 밑면은 한 변의 길이가 5cm인 정육각형이고, 높이가 6cm인 정육각기둥에서 x 의 길이를 구하면 ?



① $2\sqrt{17}\text{cm}$

② $2\sqrt{34}\text{cm}$

③ $2\sqrt{43}\text{cm}$

④ $17\sqrt{2}\text{cm}$

⑤ $17\sqrt{3}\text{cm}$