



1. □안에 알맞은 수를 써넣으시오.

$$\begin{array}{r} 326 \\ \times 50 \\ \hline \square 0 \end{array}$$

 답: _____


2. 다음을 계산하시오.

$$317 \times 80$$

 답: _____


3. 곱셈을 하시오.

$$\begin{array}{r} 237 \\ \times 50 \\ \hline \end{array}$$

 답: _____

4. □안에 >, =, <를 알맞게 써넣으시오.

$$225 \times 60 \square 341 \times 40$$

 답: _____

5. 계산 결과의 크기를 비교하여 큰 것부터 차례로 기호를 쓴 것은 어느 것입니까?

㉠ 528×50	㉡ 408×80
㉢ 876×30	㉣ 925×20

- ① ㉠, ㉡, ㉢, ㉣ ② ㉡, ㉢, ㉠, ㉣ ③ ㉡, ㉠, ㉢, ㉣
- ④ ㉢, ㉡, ㉣, ㉠ ⑤ ㉢, ㉡, ㉠, ㉣

6. 구슬 420개를 한 사람에게 60개씩 나누어 주면 몇 명에게 줄 수 있는지 구하시오.

▶ 답: _____ 명

7. 다음 중 나누는 수가 33 인 나눗셈에서 나머지가 될 수 없는 수는 어느 것인지 구하시오.

- ① 0 ② 13 ③ 34 ④ 30 ⑤ 29

8. 살구 361개를 19명에게 똑같이 나누어 주려고 합니다. 몇 개씩 나누어 주면 되겠는지 구하시오.

- ① 17개 ② 18개 ③ 19개 ④ 20개 ⑤ 21개

9. 계산결과가 바르게 짝지어진 것은 어느 것인지 고르시오.

- | | |
|-------------------|-----------|
| ① 273×36 | • ㉠ 11430 |
| ② 187×54 | • ㉡ 10098 |
| ③ 635×18 | • ㉢ 9828 |

- | | |
|-----------------|-----------------|
| ① ①-㉠, ②-㉡, ③-㉢ | ② ①-㉠, ②-㉢, ③-㉡ |
| ③ ①-㉡, ②-㉠, ③-㉢ | ④ ①-㉢, ②-㉠, ③-㉡ |
| ⑤ ①-㉢, ②-㉡, ③-㉠ | |

10. 다음 중 몫이 큰 것부터 차례대로 기호를 쓴 것은 어느 것입니까?

㉠ $180 \div 30$	㉡ $560 \div 70$
㉢ $250 \div 50$	㉣ $360 \div 40$

- ① ㉠, ㉡, ㉢, ㉣ ② ㉡, ㉢, ㉣, ㉠ ③ ㉢, ㉠, ㉡, ㉣
④ ㉡, ㉠, ㉣, ㉢ ⑤ ㉡, ㉣, ㉠, ㉢

11. 뭉이 큰 것부터 차례로 기호를 쓴 것은 어느 것입니까?

㉠ $350 \div 50$	㉡ $180 \div 30$
㉢ $240 \div 60$	㉣ $320 \div 40$

- ① ㉠, ㉡, ㉢, ㉣ ② ㉠, ㉢, ㉣, ㉡ ③ ㉢, ㉠, ㉣, ㉡
④ ㉡, ㉢, ㉣, ㉠ ⑤ ㉡, ㉠, ㉣, ㉢


12. 다음 나눗셈의 몫이 가장 작은 것을 고르시오.

㉠ $180 \div 20$

㉡ $490 \div 70$


㉢ $270 \div 90$

㉣ $240 \div 30$

 답: _____

13. 나눗셈의 몫의 크기를 비교하여 □ 안에 >, =, < 를 알맞게 써넣으시오.


$$280 \div 40 \quad \square \quad 560 \div 80$$

 답: _____

14. 다음 두 나눗셈을 계산하고 나온 몫을 더하시오.

㉠ $80 \div 40$

㉡ $90 \div 30$

 답: _____

15. 다음 중 나눗셈의 몫이 가장 작은 것은 어느 것입니까?

① $100 \div 50$

② $80 \div 20$

③ $640 \div 80$


④ $240 \div 40$

⑤ $350 \div 70$

16. 안에 알맞은 수를 구한 후 두 나눗셈 몫의 차를 구하시오.

$$\textcircled{\text{A}} 80 \div 20 = \text{□}$$

$$\textcircled{\text{B}} 240 \div 60 = \text{□}$$

 답: _____

17. 다음 중 몫이 다른 하나는 어느 것입니까?

① $240 \div 30$

② $640 \div 80$

③ $800 \div 10$

④ $120 \div 15$

⑤ $720 \div 90$

18. 다음 중 크기를 바르게 비교한 것은 무엇입니까?

① $200 \times 80 > 30 \times 700$ ② $420 \times 71 < 600 \times 50$

③ $813 \times 13 < 520 \times 20$ ④ $185 \times 16 < 186 \times 15$

⑤ $258 \times 15 > 230 \times 20$

19. 550 원을 한 사람에게 50 원씩 준다면 몇 사람에게 줄 수 있는지 구하시오.

▶ 답: _____ 사람

20. 어떤 수를 20으로 나누었더니 몫이 17이고 나머지가 18이었습니다.
어떤 수를 구하시오.

▶ 답: _____