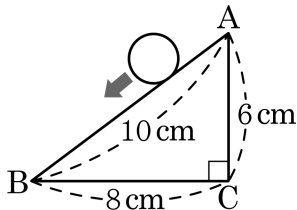


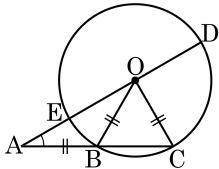
1. 다음 그림의 $\triangle ABC$ 의 변 위로 반지름의 길이가 1cm 인 원을 굴려서 삼각형의 둘레를 한 바퀴 돌 때, 원이 지나간 부분의 넓이는?



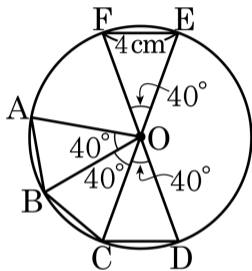
- ① $4\pi + 48(\text{cm}^2)$ ② $2\pi + 48(\text{cm}^2)$ ③ $2\pi + 40(\text{cm}^2)$
 ④ $4\pi + 40(\text{cm}^2)$ ⑤ $6\pi + 50(\text{cm}^2)$

2. 다음 그림과 같은 원 O 에서 $\angle OAB = 25^\circ$, $5.0\text{pt}\widehat{BE} = 4\text{cm}$ 일 때, $5.0\text{pt}\widehat{CD}$ 의 길이는?

- ① 6cm ② 8cm ③ 10cm
- ④ 12cm ⑤ 14cm



3. 다음 중 옳지 않은 것은?



① $\overline{CD} = 4\text{cm}$

② $\overline{EF} = \overline{AB}$

③ $\overline{BC} = 4\text{cm}$

④ $\overline{AC} = \overline{BD}$

⑤ $\overline{AC} = 8\text{cm}$