

1. 한 개의 주사위를 던질 때, 다음 중 사건의 경우의 수를 잘못 구한 것의 기호를 써라.

- ㉠ 소수의 눈이 나올 경우의 수는 3 가지이다.
- ㉡ 5 이상의 눈이 나올 경우의 수는 2 가지이다.
- ㉢ 3 의 배수의 눈이 나올 경우의 수는 2 가지이다.
- ㉣ 1 보다 작은 눈이 나올 경우의 수는 1 가지이다.
- ㉤ 짝수의 눈이 나올 경우의 수는 3 가지이다.



답: _____

2. 주머니 속에 모양과 크기가 같은 검은 공이 6개, 흰 공이 4개 들어 있다. 임의로 한 개를 꺼낼 때, 그것이 흰 공일 확률은?

① $\frac{2}{5}$

② $\frac{3}{5}$

③ $\frac{1}{4}$

④ $\frac{1}{10}$

⑤ $\frac{1}{6}$

3. 모니터를 만드는 회사에서 800 개의 모니터를 만들었을 때, 46 개의 불량품이 발생한다고 한다. 이들 제품 중에서 한 개를 뽑을 때, 합격품이 나올 확률을 구하여라.



답: _____

4. 동전 1 개와 주사위 1 개를 동시에 던질 때, 동전은 앞면, 주사위는 홀수의 눈이 나올 확률을 구하여라.



답 :

5. 12개의 제비 중에서 당첨 제비가 5개가 있다. 이 제비를 계속해서 2개를 뽑을 때, 2개 모두 당첨 제비일 확률을 구하여라.



답: _____

6. 다음 그림과 같은 원판이 돌고 있다. 이 원판을 활을 쏘아 맞힐 때, 화살이 4의 약수에 꽂힐 확률은?

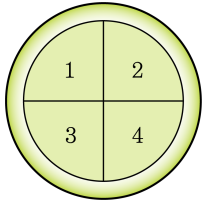
① $\frac{1}{4}$

② $\frac{1}{2}$

③ $\frac{1}{3}$

④ $\frac{3}{4}$

⑤ $\frac{2}{3}$



7. 다음 그림과 같이 $\overline{AB} = \overline{AC}$ 인 이등변삼각형 ABC 에서 $\angle BAD = \angle CAD$ 일 때, 다음 중 옳지 않은 것은?

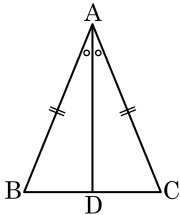
① $\overline{AD} = \overline{BC}$

② $\angle ADB = \angle ADC$

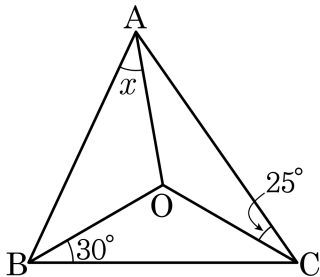
③ $\angle ADB = 90^\circ$

④ $\triangle ADB \cong \triangle ADC$

⑤ $\angle B = \angle C$



8. 점 O가 $\triangle ABC$ 의 외심일 때, $\angle x$ 의 크기는?



① 15°

② 20°

③ 25°

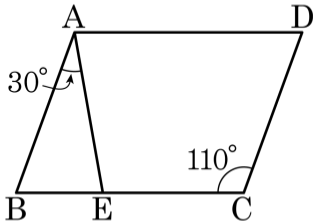
④ 30°

⑤ 35°

9. 다음 중 평행사변형에 대한 설명으로 옳은 것은?

- ① 네 변의 길이가 같다.
- ② 두 대각선은 서로 수직한다.
- ③ 두 대각선은 길이가 같다.
- ④ 이웃하는 두 각의 크기가 같다.
- ⑤ 두 쌍의 대변이 각각 평행하다.

10. 다음 그림과 같은 평행사변형 ABCD 에서 $\angle BAE = 30^\circ$, $\angle DCE = 110^\circ$ 일 때, $\angle AEC$ 의 크기를 구하여라.



> 답: _____ °

11. 다음 일차함수의 그래프 중에서 일차함수 $y = \frac{1}{2}x + 5$ 의 그래프와 평행한 것은?

① $y = 2x + 5$

② $y = \frac{1}{2}x + 5$

③ $y = \frac{1}{2}x - 3$

④ $y = -\frac{1}{2}x + 5$

⑤ $y = -\frac{1}{2}x - 5$

12. 1 에서 10 까지의 숫자가 적힌 10 장의 카드에서 한 장을 꺼낼 때 소수가 나올 경우의 수는?

- ① 3가지 ② 4가지 ③ 5가지 ④ 6가지 ⑤ 7가지

13. 자음 ㅂ, ㅅ, ㅇ, ㅈ과 모음 ㅏ, ㅑ, ㅓ가 있다. 자음 1개와 모음 1개를 짝지어 만들 수 있는 글자는 모두 몇 개인가?

① 7개

② 8개

③ 10개

④ 12개

⑤ 15개

14. 네 곡의 노래를 CD 한 장에 담으려고 할 때, 만들 수 있는 CD의 종류는 몇 가지인가? (단, 곡을 담는 순서가 달라지면 다른 CD가 된다고 한다.)

① 4 가지

② 24 가지

③ 30 가지

④ 60 가지

⑤ 124 가지

15. 4명의 자녀를 둔 부부가 한 줄로 서서 가족 사진을 찍을 때, 부부가 서로 이웃해서 설 경우의 수를 구하여라.



답:

_____ 가지

16. A, B, C, D, E 다섯 명 중에서 대표 두 명을 뽑는 경우의 수는?

① 6 가지

② 8 가지

③ 10 가지

④ 12 가지

⑤ 14 가지

17. A, B 두 사람이 가위, 바위, 보를 할 때, 일어날 수 있는 모든 경우의 수는?

① 2 가지

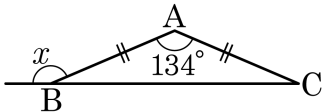
② 3 가지

③ 6 가지

④ 9 가지

⑤ 12 가지

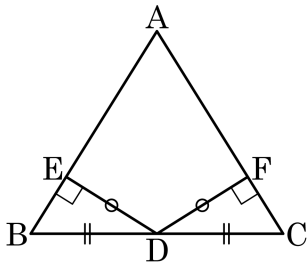
18. 다음 그림과 같이 $\overline{AB} = \overline{AC}$ 인 이등변삼각형 ABC 에서 $\angle A = 134^\circ$ 일 때, $\angle x$ 의 크기를 구하여라.



답: _____

◦

19. 다음 그림과 같은 $\triangle ABC$ 에서 $\angle FDC = 32^\circ$ 일 때, $\angle A$ 의 크기는 ?



① 52°

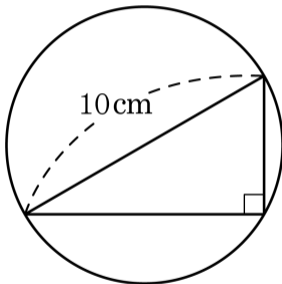
② 56°

③ 58°

④ 62°

⑤ 64°

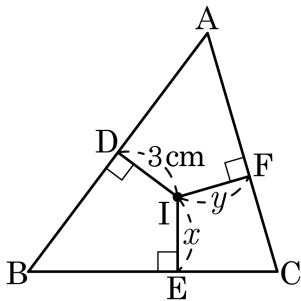
20. 다른 그림과 같이 빗변의 길이가 10cm 인 직각삼각형의 외접원의 반지름의 길이를 구하여라.



답:

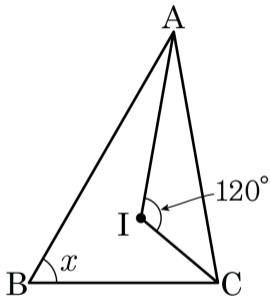
_____ cm

21. 다음 그림에서 점 I는 $\triangle ABC$ 의 내심이다. $\overline{ID} = 3\text{cm}$ 일 때, $x + y$ 의 길이는?



- ① 4cm ② 5cm ③ 6cm ④ 7cm ⑤ 8cm

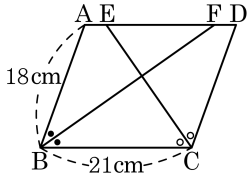
22. 다음 그림에서 점 I가 $\triangle ABC$ 의 내심일 때 $\angle x$ 의 크기를 구하여라.



답:

_____ $^\circ$

23. 다음 그림과 같은 평행사변형 ABCD 에서 \overline{BF} , \overline{CE} 는 각각 $\angle B$, $\angle C$ 의 이등분선이다. $\overline{AB} = 18\text{cm}$, $\overline{BC} = 21\text{cm}$ 일 때, \overline{EF} 의 길이는?



① 15cm

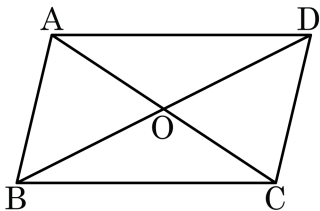
② 18cm

③ 20cm

④ 21cm

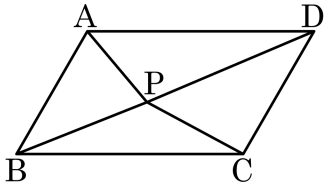
⑤ 23cm

24. 다음 중 다음 그림의 사각형 ABCD 가 평행사변형이 될 수 없는 것은?



- ① $\angle A = \angle C$ $\angle B = \angle D$
- ② $\overline{AB} \parallel \overline{DC}$, $\overline{AD} \parallel \overline{BC}$
- ③ $\overline{AB} \parallel \overline{DC}$, $\overline{AD} = \overline{BC}$
- ④ $\overline{OA} = \overline{OC}$, $\overline{OB} = \overline{OD}$
- ⑤ $\overline{AD} \parallel \overline{BC}$, $\triangle AOD \cong \triangle COB$

25. 다음 그림과 같은 평행사변형 ABCD에 대하여 $\triangle ABP = 18\text{cm}^2$, $\triangle PBC = 16\text{cm}^2$, $\triangle PCD = 20\text{cm}^2$ 일 때, $\triangle APD$ 의 넓이는?



① 17cm^2

② 22cm^2

③ 25cm^2

④ 30cm^2

⑤ 35cm^2

26. 다음 보기 중에서 평행사변형이 직사각형이 되기 위한 조건을 모두 몇 개인가?

보기

- ㉠ 이웃하는 두 변의 길이가 같다.
- ㉡ 이웃하는 두 각의 크기가 같다.
- ㉢ 한 내각의 크기가 90° 이다.
- ㉣ 두 대각선은 서로 다른 것을 이등분한다.
- ㉤ 두 대각선의 길이가 같다.

- ① 1 개 ② 2 개 ③ 3 개 ④ 4 개 ⑤ 5 개

27. 사다리꼴, 평행사변형, 직사각형, 마름모, 정사각형의 관계를 나타낸 것 중 옳지 않은 것을 고르면?

- ① 평행사변형은 사다리꼴이다.
- ② 마름모는 직사각형이다.
- ③ 직사각형이면서 마름모인 것은 정사각형이다.
- ④ 직사각형은 마름모이다.
- ⑤ 평행사변형이면서 마름모인 것은 사다리꼴이다.

28. 다음 일차방정식의 그래프가 점 $(4, 2)$ 를 지날 때, 다음 중 이 그래프 위의 점이 아닌 것은? (단, a 는 상수이다.)

$$2x + ay - 6 = 0$$

① $(1, -4)$

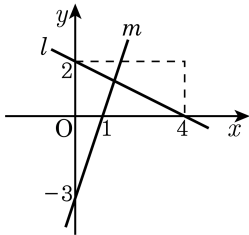
② $(2, -2)$

③ $(3, -1)$

④ $(4, 2)$

⑤ $(5, 4)$

29. 일차방정식 $mx + y - n = 0$ 의 그래프는 다음 그림의 직선 l 과 평행하고, 직선 m 과 y 축 위에서 만난다. 이 때, 상수 m, n 의 합 $m+n$ 의 값은?



① $\frac{5}{2}$

② $-\frac{5}{2}$

③ $-\frac{3}{2}$

④ $\frac{3}{2}$

⑤ -1

30. 네 방정식 $2x - 2 = 0, x + 4 = 0, y - a = 0, y + b = 0$ 으로 둘러싸인 도형의 넓이가 20 일 때, 상수 a, b 의 합 $a + b$ 의 값은? (단, $a > 0, b > 0$)

① 1

② 4

③ 5

④ 10

⑤ 12

31. 연립방정식 $\begin{cases} x + ay = 6 \\ -x + y = 2 \end{cases}$ 을 만족하는 순서쌍 (x, y) 가 제 1사분면

에 위치하기 위한 모든 a 의 값의 합을 구하여라.
(단, a, x, y 는 모두 정수이다.)



답: _____

32. x, y 에 관한 두 일차방정식 $5x - 2y - 7 = 0$, $-2x + 3y - 6 = 0$ 의 그래프가 점 $P(\alpha, \beta)$ 에서 만날 때, 점 P 를 지나고 y 축에 평행한 직선의 방정식은?

① $y = 3$

② $y = 4$

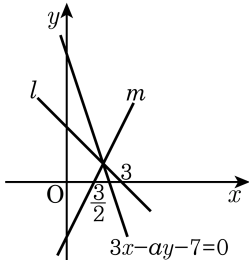
③ $x = 3$

④ $x = 4$

⑤ $x + y = 7$

33. 다음 그림과 같이 세 직선 $l : x + y - 3 = 0$, $m : 2x - y - 3 = 0$, $3x - ay - 7 = 0$ 이 한 점에서 만날 때, 상수 a 의 값은?

- ① -2 ② -1 ③ 0
 ④ 2 ⑤ 3



34. 두 직선 $x + 2y = 3$, $ax - by = 6$ 의 교점이 무수히 많을 때, $a + b$ 의 값을 구하여라.



답: _____

35. 여자 4 명, 남자 2 명을 일렬로 세울 때, 남자가 양 끝에 서게 되는 경우의 수는?

① 48 가지

② 56 가지

③ 120 가지

④ 240 가지

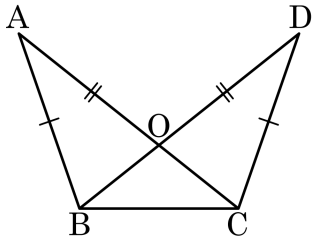
⑤ 720 가지

36. 지원이와 동성이가 공원에서 만나기로 하였다. 지원이와 동성이가 공원에 나가지 못할 확률이 각각 $\frac{3}{5}$, $\frac{2}{7}$ 일 때, 두 사람이 약속 장소에서 만나지 못할 확률을 구하여라.



답: _____

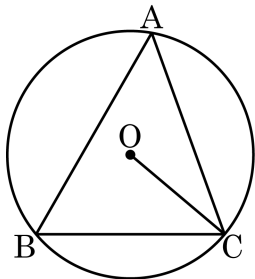
37. 다음 그림에서 $\overline{AB} = \overline{DC}$, $\overline{AC} = \overline{DB}$ 그리고 $\angle BOC = 84^\circ$ 일 때, $\angle OBC$ 의 크기를 구하여라.



답: _____

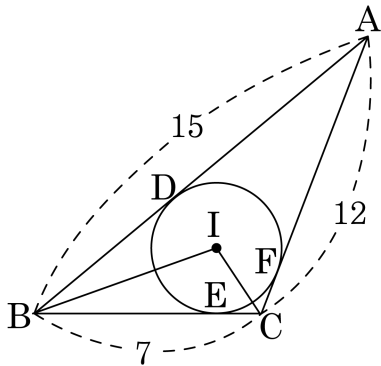
°

38. 다음 그림에서 점 O는 $\triangle ABC$ 의 외심이고, $\angle OCB = 40^\circ$ 일 때, $\angle BAC$ 의 크기를 구하면?



- ① 50° ② 55° ③ 60° ④ 65° ⑤ 70°

39. 다음 그림에서 점 I는 $\triangle ABC$ 의 내심이고, 점 D, E, F는 접점이다.
 이때, $\overline{AD} + \overline{BE} + \overline{CF}$ 는?



① 14

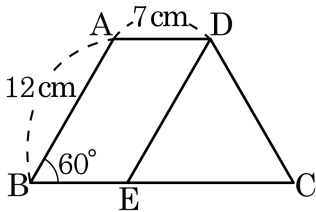
② 16

③ 17

④ 20

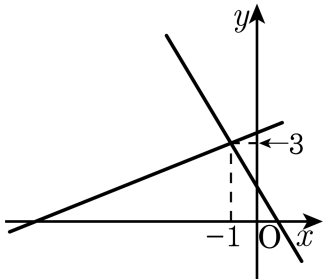
⑤ 22

40. 다음 그림의 $\square ABCD$ 는 $\overline{AD} \parallel \overline{BC}$ 인 등변사다리꼴이다. $\overline{AB} \parallel \overline{DE}$ 일 때, \overline{BC} 의 길이는?



- ① 16 ② 17 ③ 18 ④ 19 ⑤ 20

41. 다음 그래프는 연립방정식 $\begin{cases} ax - 3y + 5 = 1 \\ -2x + 5y - b = 5 \end{cases}$ 를 풀기 위한 것이다. $2a + b$ 의 값을 구하여라.



답: _____

42. A 시에서 B 시로 가는 길이 4가지, B 시에서 C 시로 가는 길은 3가지가 있다. A 시에서 B 시를 거쳐서 C로 갔다가 돌아올 때, 갔던 길은 돌아오지 않고, 다시 B 시를 거쳐 A 시로 돌아오는 방법은 몇 가지인가?

① 18가지

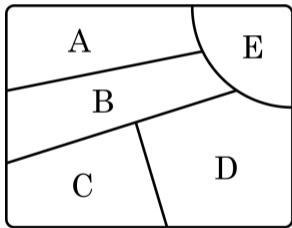
② 24가지

③ 36가지

④ 72가지

⑤ 80가지

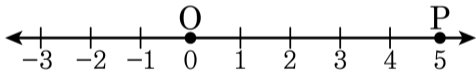
43. 다음 그림과 같은 A, B, C, D, E의 각 부분에 빨강, 파랑, 노랑, 초록, 보라의 5가지 색을 칠하려고 한다. 같은 색을 두 번 이상 사용할 수는 있으나 이웃한 면은 반드시 다른 색을 칠하는 방법의 수를 구하여라.



답: _____

가지

44. 다음 그림과 같이 한 개의 동전을 던져서 앞면이 나오면 수직선을 따라 양의 방향으로 3 만큼, 뒷면이 나오면 음의 방향으로 1 만큼 이동한다. 동전을 3 번 던져서 이동하였을 때, P 지점에 있게 될 확률은? (단, 출발점은 0 이다.)



- ① $\frac{3}{8}$ ② $\frac{1}{8}$ ③ $\frac{1}{4}$ ④ $\frac{1}{2}$ ⑤ $\frac{3}{4}$

45. A, B, C, D, E 5명이 일렬로 설 때, A와 B가 서로 이웃하지 않음을 확률은?

① $\frac{1}{5}$

② $\frac{2}{5}$

③ $\frac{3}{5}$

④ $\frac{4}{5}$

⑤ 12