

1. 1에서 8까지 숫자가 적힌 카드가 8장이 있다. 이 카드를 임의로 한 장을 뽑을 때, 홀수 또는 4의 배수가 나올 경우의 수는?

① 3가지

② 4가지

③ 5가지

④ 6가지

⑤ 7가지

2. 1에서 20까지의 숫자가 각각 적힌 20장의 카드에서 한 장의 카드를 뽑을 때, 그 카드의 수가 소수 또는 4의 배수가 나올 경우의 수는?

① 5가지

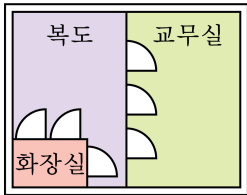
② 8가지

③ 13가지

④ 15가지

⑤ 17가지

3. 다음 그림에서 교무실을 나와 화장실로 가는 방법의 수를 구하여라.



답:

_____ 가지

4. 서로 다른 색깔의 지우개가 있다. 흰색 지우개와 분홍 지우개를 이웃하여 놓고, 나머지 3 개의 지우개를 일렬로 놓는 방법은 몇 가지인가?

① 12 가지

② 24 가지

③ 48 가지

④ 60 가지

⑤ 72 가지

5. 0, 1, 2, 3, 4의 숫자가 각각 적힌 구슬이 담긴 주머니에서 구슬 3개를 꺼내 만들 수 있는 세 자리의 정수는 모두 몇 가지인가?

① 45가지

② 46가지

③ 47가지

④ 48가지

⑤ 49가지

6. 재민, 원철, 민수, 재영 4명의 후보 중에서 대표 2명을 뽑는 경우의 수는?

① 5

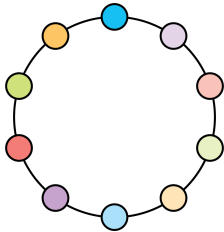
② 6

③ 7

④ 8

⑤ 9

7. 다음 그림과 같이 원 위에 서로 다른 10개의 점이 있다. 이 중 3개의 점으로 이루어지는 삼각형의 경우의 수는?



① 30가지

② 60가지

③ 120가지

④ 360가지

⑤ 720가지

8. 주머니 속에 1부터 7까지의 수가 각각 적힌 7개의 카드가 있다. 이 중에서 한 개를 꺼낼 때, 7 이하의 수가 적힌 카드가 나올 확률을 구하여라.



답: _____

9. 주사위 두 개를 동시에 던질 때, 나오는 눈의 합이 3 또는 6 일 확률은?
답?

① $\frac{1}{36}$

② $\frac{5}{36}$

③ $\frac{7}{36}$

④ $\frac{1}{12}$

⑤ $\frac{5}{18}$

10. 동전 1개와 주사위 1개를 동시에 던질 때, 동전은 앞면이고 주사위는 2의 배수가 나오거나 동전은 뒷면이고 주사위는 3의 배수가 나올 확률은?

① $\frac{1}{2}$

② $\frac{1}{6}$

③ $\frac{5}{12}$

④ $\frac{3}{8}$

⑤ $\frac{5}{6}$

11. 바둑통에 흰 돌이 4개, 검은 돌이 8개가 들어 있다. 이 통에서 임의로 바둑돌 1개를 꺼내어 보고 다시 넣은 다음에 또 한 개를 꺼낼 때, 두 번 모두 검은 바둑돌일 확률을 구하여라.



답: _____

12. 5장의 제비 중에서 당첨 제비가 2장 있다. 경인이가 먼저 한 장 뽑은 다음, 재석이가 한 장을 뽑을 때 재석이가 당첨될 확률은?

① $\frac{1}{5}$

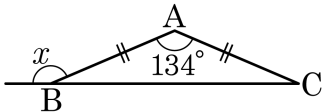
② $\frac{3}{5}$

③ $\frac{1}{10}$

④ $\frac{3}{10}$

⑤ $\frac{2}{5}$

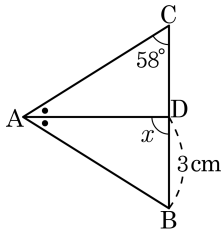
13. 다음 그림과 같이 $\overline{AB} = \overline{AC}$ 인 이등변삼각형 ABC 에서 $\angle A = 134^\circ$ 일 때, $\angle x$ 의 크기를 구하여라.



답: _____

◦

14. 다음 $\triangle ABC$ 는 $\overline{AB} = \overline{AC}$ 인 이등변삼각형이고 \overline{AD} 는 $\angle A$ 의 이등분선이다.
그림을 보고 옳은 것을 모두 고른 것은?



㉠ $\overline{CD} = 3\text{cm}$

㉡ $\angle x = 90^\circ$

㉢ $\angle BAC = 32^\circ$

㉣ $\overline{AC} \perp \overline{BC}$

① ㉠, ㉡

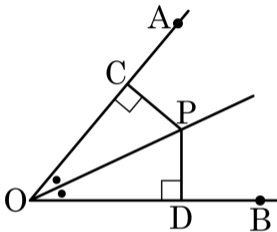
② ㉡, ㉢

③ ㉢, ㉣

④ ㉠, ㉡, ㉢

⑤ ㉡, ㉢, ㉣

15. 다음 그림과 같이 $\angle AOB$ 의 이등분선 위의 한 점 P에서 두 변 OA, OB에 내린 수선의 발을 각각 C, D라고 할 때, 다음 중 옳지 않은 것은?



① $\angle PCO = \angle PDO$

② $\angle COP = \angle DOP$

③ $\overline{PC} = \overline{PD}$

④ $\triangle COP \equiv \triangle DOP$

⑤ $\overline{OC} = \overline{OP} = \overline{OD}$

16. 한 개의 주사위를 던질 때, 작수의 눈이 나올 경우의 수를 a , 소수의 눈이 나올 경우의 수를 b 라 할 때 $a + b$ 의 값은?

① 2

② 3

③ 4

④ 5

⑤ 6

17. 500 원, 100 원, 50 원짜리 동전을 각각 2개씩 가지고 있다. 이 때, 각 동전을 적어도 1개 이상 사용하여 돈을 지불하는 경우의 수는?

① 4가지

② 5가지

③ 6가지

④ 7가지

⑤ 8가지

18. 주머니 안에 빨간 공 3 개, 파란 공 6 개, 노란 공 5 개가 들어 있다.
공을 하나 꺼낼 때, 빨간 공이거나 노란공일 경우의 수는?

① 8 가지

② 2 가지

③ 4 가지

④ 15 가지

⑤ 5 가지

19. 정육면체, 정팔면체, 정십이면체 주사위 3 개를 동시에 던질 때, 나올 수 있는 모든 경우의 수는?

① 26 가지

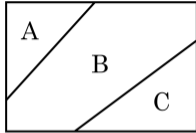
② 48 가지

③ 108 가지

④ 216 가지

⑤ 576 가지

20. 다음 그림과 같이 3 개의 부분 A, B, C 로 나뉘어진 사각형이 있다. 4 가지 색으로 구분하여 중복하지 않고 칠하려고 할 때, 칠할 수 있는 모든 경우의 수를 구하여라.



답: _____

가지

21. 1, 2, 3, 4, 5, 6의 숫자가 적힌 카드가 있다. 이 중에서 3장의 카드를 뽑을 때, 반드시 1이 적힌 카드를 뽑는 경우의 수는 몇 가지인가?

① 3 가지

② 9 가지

③ 10 가지

④ 21 가지

⑤ 30 가지

22. 부모님과 오빠, 언니, 지애, 동생 6 명의 가족이 나란히 앉아서 가족사진을 찍을 때, 부모님이 양 끝에 서는 경우의 수는?

① 4 가지

② 12 가지

③ 24 가지

④ 48 가지

⑤ 60 가지

23. 1, 2, 3, 4, 5의 다섯 개의 숫자를 한 번씩만 사용하여 만든 세 자리의 정수 중 250보다 작은 수의 개수를 구하여라.



답:

_____ 가지

24. A, B 중에서 회장을 뽑고, C, D, E, F 중에서 부회장, 총무를 뽑는 경우의 수는?

① 12가지

② 24가지

③ 36가지

④ 48가지

⑤ 60가지

25. 4개의 농구팀이 있다. 각 팀과 한 번씩 경기를 갖는다면 시합은 몇 번 해야 하는가?

① 4번

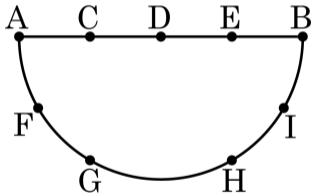
② 6번

③ 8번

④ 10번

⑤ 12번

26. 다음 그림과 같이 선분 AB 를 지름으로 하는 반원 위에 9 개의 점이 있다. 이 점 중 3 개를 이어서 만든 삼각형 중에서 한 변이 지름 위에 있는 삼각형의 개수를 구하여라.



답:

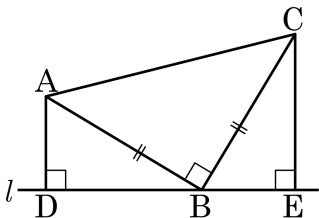
_____ 개

27. 수정이를 포함한 8 명의 후보 중에서 회장 1 명, 부회장 1 명을 뽑을 때, 수정이가 뽑히지 않을 확률을 구하여라.



답: _____

28. 다음 그림과 같이 $\angle B = 90^\circ$ 이고 $\overline{AB} = \overline{CB}$ 인 직각이등변삼각형 ABC의 꼭짓점 A, C에서 점 B를 지나는 직선 l 에 내린 수선의 발을 각각 D, E라 하자. 다음은 $\overline{AD} = \overline{BE}$ 임을 증명하는 과정이다. ㉠~㉣ 중 옳지 않은 것을 기호로 써라.



$\triangle ADB$ 와 $\triangle BEC$ 에서

$$\angle ADB = \textcircled{㉠} \angle BEC = 90^\circ \dots \textcircled{a}$$

$$\overline{AB} = \textcircled{㉡} \overline{CB} \dots \textcircled{b}$$

$$\angle ABC = 90^\circ \text{ 이므로 } \angle ABD + \angle CBE = 90^\circ$$

$$\text{또, } \triangle ADB \text{ 에서 } \textcircled{㉢} \angle ABD + \angle BAD = 90^\circ$$

$$\textcircled{㉢} \therefore \angle BAD = \angle BCE \dots \textcircled{c}$$

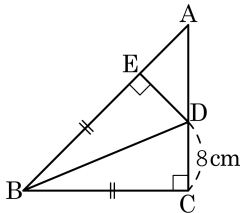
㉠, ㉡, ㉢에 의하여

$$\triangle ADB \cong \triangle BEC (\textcircled{㉢} \text{RHA 합동})$$



답: _____

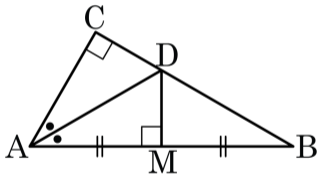
29. 그림에서 $\triangle ABC$ 는 $\angle C = 90^\circ$ 이고 $\overline{AC} = \overline{BC}$ 인 직각이등변삼각형이다. $\overline{BC} = \overline{BE}$, $\overline{AB} \perp \overline{DE}$ 이고 $\overline{CD} = 8\text{ cm}$ 일 때, $\triangle AED$ 의 넓이를 구하여라.



답:

_____ cm^2

30. 다음 그림과 같이 $\angle C = 90^\circ$ 인 직각삼각형 ABC 에서 \overline{AB} 의 수직이등분선과 \overline{BC} 와의 교점을 D 라 한다. \overline{AD} 가 $\angle A$ 의 이등분선일 때, $\angle B$ 의 크기는?



① 26°

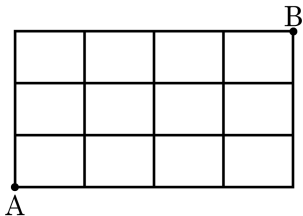
② 28°

③ 30°

④ 32°

⑤ 34°

31. 다음 그림과 같은 길이 있다. A에서 B까지 가는 최단 거리의 수는?



① 15가지

② 20가지

③ 35가지

④ 40가지

⑤ 45가지

32. a, b, c, d 의 문자를 사전식으로 배열할 때, $cadb$ 는 몇 번째인가?

① 14 번째

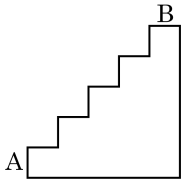
② 15 번째

③ 16 번째

④ 17 번째

⑤ 18 번째

33. 다음 그림과 같은 다섯 계단을 A 에서 B 까지 한 번에 최대한 2 계단씩 오를 수 있다고 할 때, 올라가는 방법은 모두 몇 가지인지 구하여라.



답:

_____ 가지

34. 흰 공과 빨간 공이 모두 30 개가 들어있는 주머니가 있다. 임의로 한 개의 공을 꺼낼 때, 그것이 흰공일 확률이 $\frac{1}{5}$ 이다. 주머니 속에 들어있는 빨간 공의 개수는?

- ① 25 개 ② 24 개 ③ 18 개 ④ 16 개 ⑤ 15 개

35. 0, 1, 2, 3, 4 의 숫자가 각각 적힌 5 장의 카드에서 2 장을 뽑아 두 자리의 정수를 만들려고 한다. 두 자리의 정수가 32 이상일 확률을 구하면?

① $\frac{3}{10}$

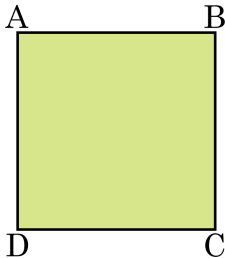
② $\frac{1}{4}$

③ $\frac{5}{16}$

④ $\frac{3}{8}$

⑤ $\frac{7}{16}$

36. 다음 그림과 같이 정사각형 ABCD 가 있다. 성민이와 병수가 한 개의 주사위를 던져 나온 눈의 수만큼 $\square ABCD$ 의 꼭짓점 B 에서 출발하여 사각형 변을 따라 시계방향으로 점을 이동시키고 있다. 성민이와 병수가 차례로 한번씩 주사위를 던질 때, 성민이는 점 D 에 병수는 점 A 에 점을 놓게 될 확률을 구하여라.



답: _____

37. A, B 두 개의 주사위를 동시에 던져서 나온 눈의 수를 각각 a, b 라 할 때, 두 직선 $3x + ay + 1 = 0, (b + 1)x + 4y + 1 = 0$ 이 평행하게 될 확률을 구하여라.



답: _____

38. A 상자에 강낭콩이 5 알, 완두콩이 3 알 들어있다. B 상자에 강낭콩이 4 알, 완두콩이 2 알 들어있다. A 상자에서 콩 한 알을 꺼내어 B 상자에 넣은 다음 B 상자에서 콩 한 알을 꺼낼 때, 꺼낸 콩이 완두콩일 확률을 구하여라.



답: _____

39. 두 개의 주머니 A, B가 있다. A에는 6개의 제비가 들어 있고 이 중 4개가 당첨 제비이다. B에는 5개의 제비가 들어 있다. A에서 두 번 연속하여 제비를 꺼낼 때 (첫 번째 뽑은 제비를 넣지 않음), 두 개 모두 당첨 제비일 확률과 B에서 임의로 한 개를 꺼낼 때, 당첨 제비가 나올 확률은 같다고 한다. B에서 제비를 한 개 꺼내 확인한 후 B주머니에 넣은 다음 다시 제비 한 개를 꺼낼 때, 두 번 모두 당첨 제비가 나올 확률을 구하면?

① $\frac{2}{3}$

② $\frac{5}{9}$

③ $\frac{2}{27}$

④ $\frac{2}{25}$

⑤ $\frac{4}{25}$

40. 양궁 선수인 미선이와 명수가 같은 과녁을 향해 활을 쏘았다. 미선의 명중률은 $\frac{3}{5}$, 명수의 명중률은 $\frac{3}{4}$ 일 때, 과녁이 적어도 하나 이상 명중될 확률을 구하여라.



답: _____

41. 진숙, 민지 두 사람이 어떤 난센스 퀴즈를 푸는데 진숙이가 퀴즈를 풀 확률이 $\frac{3}{8}$ 이고, 진숙, 민지 모두 풀지 못할 확률이 $\frac{1}{8}$ 일 때, 민지가 이 퀴즈를 풀 확률을 구하여라.



답: _____

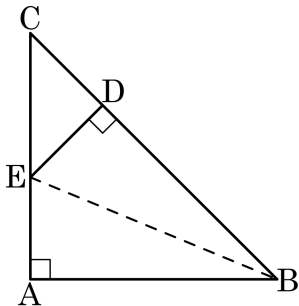
42. 다음은 경미, 유신, 미란이가 총 쏘기 게임에서 목표물을 향해 총을 쏘았을 때의 명중률을 나타낸 것이다. 이들 중 한 명만 목표물에 명중시킬 확률을 구하여라.

$$\text{경미} : \frac{3}{5}, \text{유신} : \frac{3}{4}, \text{미란} : \frac{1}{3}$$



답: _____

43. 다음 그림의 $\triangle ABC$ 는 $\angle A = 90^\circ$, $\overline{AB} = \overline{AC}$ 인 직각이등변삼각형이다. $\overline{BA} = \overline{BD}$, $\overline{ED} = \overline{DC}$ 일 때, 다음 중 옳지 않은 것은?



① $\triangle ABE \cong \triangle DBE$

② $\angle DBE = \angle ABE$

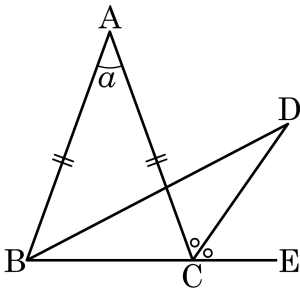
③ $\overline{AE} = \overline{EC}$

④ $\overline{AE} = \overline{DE} = \overline{DC}$

⑤ $\angle DEC = \angle DCE$

44. 다음 그림에서 $\triangle ABC$ 는 이등변삼각형이다.

$\angle ACD = \angle DCE$, $\angle ABD = 2\angle DBC$, $\angle A = a$ 일 때, $\angle BDC$ 의 크기를 a 로 나타내면?



① $15^\circ - \frac{5}{12}a$

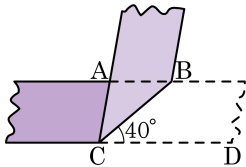
② $15^\circ + \frac{5}{12}a$

③ $-15^\circ + \frac{5}{12}a$

④ $15^\circ + \frac{5}{14}a$

⑤ $15^\circ - \frac{5}{14}a$

45. 직사각형 모양의 종이를 다음 그림과 같이 접었을 때, $\angle BCD = 40^\circ$ 이다. 이때, $\angle BAC$ 의 크기를 구하여라.



답: _____

°

46. 동전을 6회 던져서 n 회째 동전이 앞면이면 $X_n = 1$ 이라 하고, 뒷면이면 $X_n = -1$ 이라고 하자. $S_n = X_1 + X_2 + \cdots + X_n$ ($1 \leq n \leq 6$)이라고 할 때, $S_2 \neq 0$ 이고, $S_6 = 2$ 일 경우의 수를 구하여라.



답:

_____ 가지

47. 주머니 안에 흰 구슬 4개, 빨간 구슬 5개, 파란 구슬 a 개가 들어있다.
주머니에서 구슬 1개를 꺼낼 때 빨간 구슬일 확률이 $\frac{1}{4}$ 일 때, a 의
값은?

① 7

② 8

③ 9

④ 10

⑤ 11

48. 강당의 긴 의자에 8명이 앉아 있을 때, 특정한 세 사람이 서로 이웃하여 앉을 확률을 구하여라.



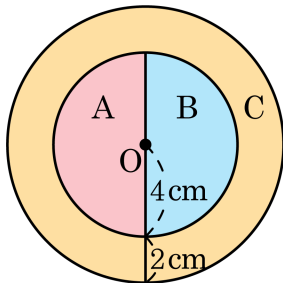
답 :

49. 세 명이 가위바위보를 하여 진 사람은 빠지고 마지막에 남는 한 명이 승리하게 된다. 가위바위보를 3 회 하였을 때 여전히 승리자가 나오지 않을 확률을 구하여라.



답: _____

50. 다음 그림과 같은 과녁에 화살을 두 번 쏜다고 한다. 첫 번째 화살은 A 영역을, 두 번째 화살은 C 영역을 맞힐 확률은? (단, 점 O는 과녁의 중심이고, 화살은 과녁을 벗어나지 않는다.)



- ① $\frac{1}{9}$ ② $\frac{10}{81}$ ③ $\frac{11}{81}$ ④ $\frac{4}{27}$ ⑤ $\frac{13}{81}$